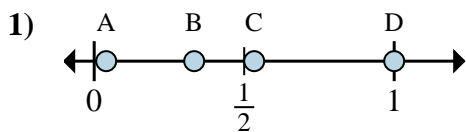
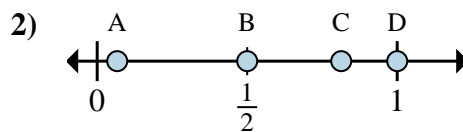
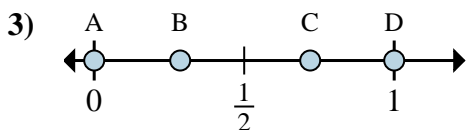
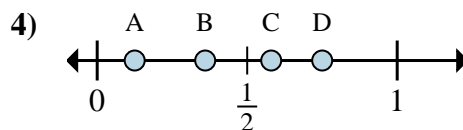
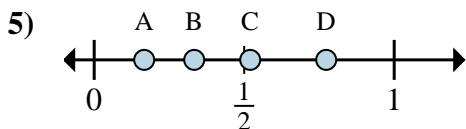
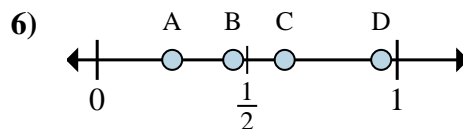
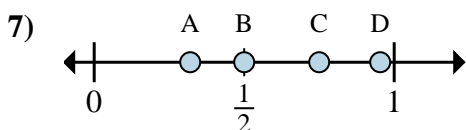
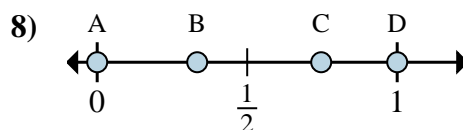




Determina cuál letra mejor muestra la ubicación de la fracción.

Respuestasa. ¿Qué letra representa mejor $\frac{1}{3}$ b. ¿Qué letra representa mejor $\frac{3}{3}$ a. ¿Qué letra representa mejor $\frac{1}{2}$ b. ¿Qué letra representa mejor $\frac{2}{2}$ a. ¿Qué letra representa mejor $\frac{0}{6}$ b. ¿Qué letra representa mejor $\frac{6}{6}$ a. ¿Qué letra representa mejor $\frac{1}{8}$ b. ¿Qué letra representa mejor $\frac{6}{8}$ a. ¿Qué letra representa mejor $\frac{2}{6}$ b. ¿Qué letra representa mejor $\frac{1}{6}$ a. ¿Qué letra representa mejor $\frac{5}{8}$ b. ¿Qué letra representa mejor $\frac{2}{8}$ a. ¿Qué letra representa mejor $\frac{3}{4}$ b. ¿Qué letra representa mejor $\frac{2}{4}$ a. ¿Qué letra representa mejor $\frac{0}{6}$ b. ¿Qué letra representa mejor $\frac{6}{6}$

1. _____

2. _____

3. _____

4. _____

5. _____

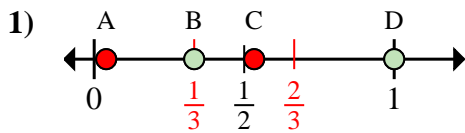
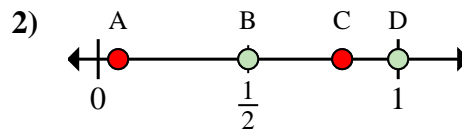
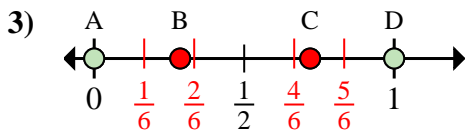
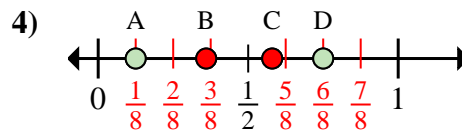
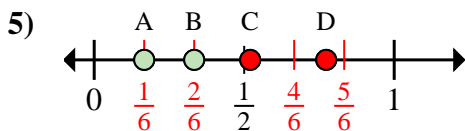
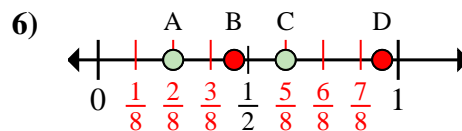
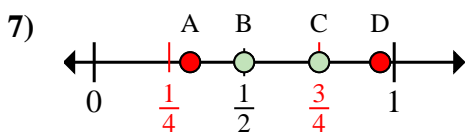
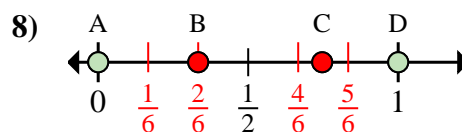
6. _____

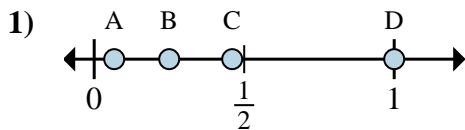
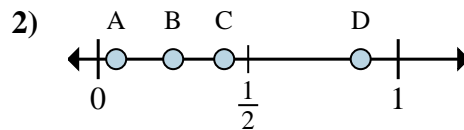
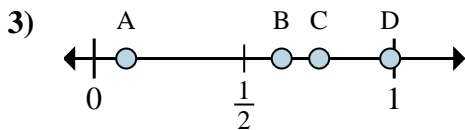
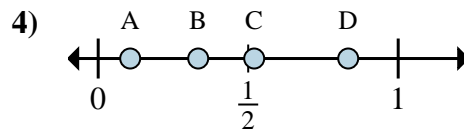
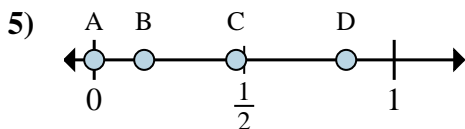
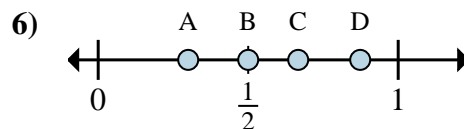
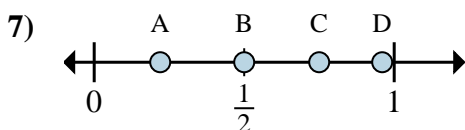
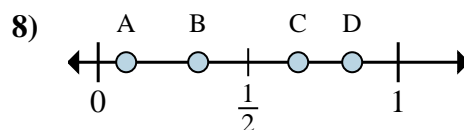
7. _____

8. _____



Determina cuál letra mejor muestra la ubicación de la fracción.

Respuestasa. ¿Qué letra representa mejor $\frac{1}{3}$?b. ¿Qué letra representa mejor $\frac{3}{3}$?a. ¿Qué letra representa mejor $\frac{1}{2}$?b. ¿Qué letra representa mejor $\frac{2}{2}$?a. ¿Qué letra representa mejor $\frac{0}{6}$?b. ¿Qué letra representa mejor $\frac{6}{6}$?a. ¿Qué letra representa mejor $\frac{1}{8}$?b. ¿Qué letra representa mejor $\frac{6}{8}$?a. ¿Qué letra representa mejor $\frac{2}{6}$?b. ¿Qué letra representa mejor $\frac{1}{6}$?a. ¿Qué letra representa mejor $\frac{5}{8}$?b. ¿Qué letra representa mejor $\frac{2}{8}$?a. ¿Qué letra representa mejor $\frac{3}{4}$?b. ¿Qué letra representa mejor $\frac{2}{4}$?a. ¿Qué letra representa mejor $\frac{0}{6}$?b. ¿Qué letra representa mejor $\frac{6}{6}$?1. B D2. B D3. A D4. A D5. B A6. C A7. C B8. A D

**Determina cuál letra mejor muestra la ubicación de la fracción.****Respuestas**a. ¿Qué letra representa mejor $\frac{4}{4}$ b. ¿Qué letra representa mejor $\frac{1}{4}$ a. ¿Qué letra representa mejor $\frac{7}{8}$ b. ¿Qué letra representa mejor $\frac{2}{8}$ a. ¿Qué letra representa mejor $\frac{5}{8}$ b. ¿Qué letra representa mejor $\frac{6}{8}$ a. ¿Qué letra representa mejor $\frac{5}{6}$ b. ¿Qué letra representa mejor $\frac{2}{6}$ a. ¿Qué letra representa mejor $\frac{0}{6}$ b. ¿Qué letra representa mejor $\frac{1}{6}$ a. ¿Qué letra representa mejor $\frac{3}{6}$ b. ¿Qué letra representa mejor $\frac{4}{6}$ a. ¿Qué letra representa mejor $\frac{3}{4}$ b. ¿Qué letra representa mejor $\frac{2}{4}$ a. ¿Qué letra representa mejor $\frac{2}{3}$ b. ¿Qué letra representa mejor $\frac{1}{3}$

1. _____

2. _____

3. _____

4. _____

5. _____

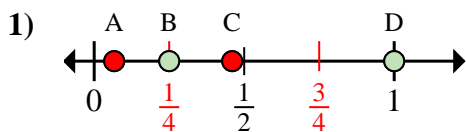
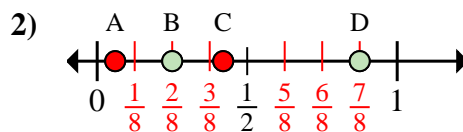
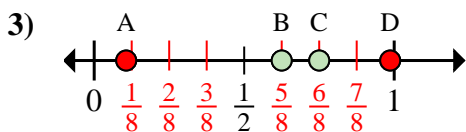
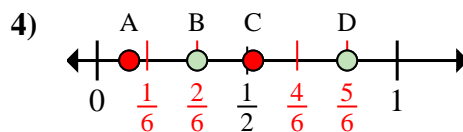
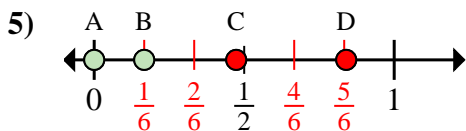
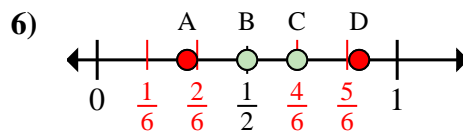
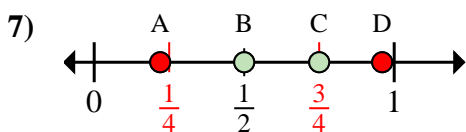
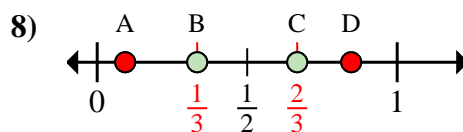
6. _____

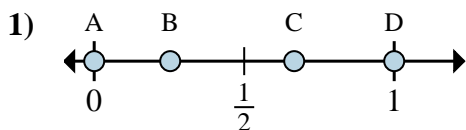
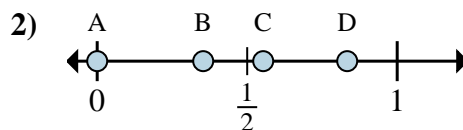
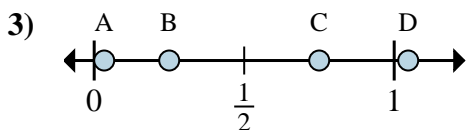
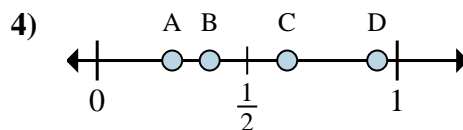
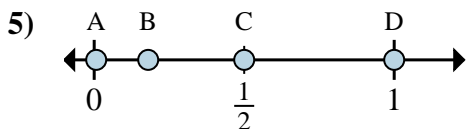
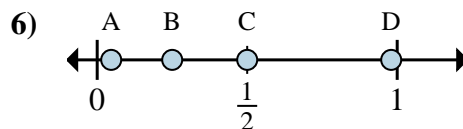
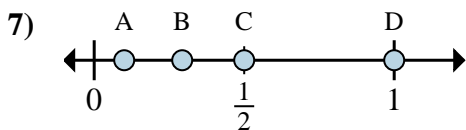
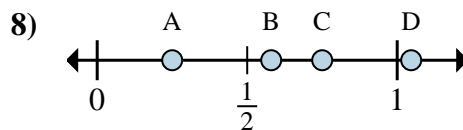
7. _____

8. _____



Determina cuál letra mejor muestra la ubicación de la fracción.

Respuestasa. ¿Qué letra representa mejor $\frac{4}{4}$ b. ¿Qué letra representa mejor $\frac{1}{4}$ a. ¿Qué letra representa mejor $\frac{7}{8}$ b. ¿Qué letra representa mejor $\frac{2}{8}$ a. ¿Qué letra representa mejor $\frac{5}{8}$ b. ¿Qué letra representa mejor $\frac{6}{8}$ a. ¿Qué letra representa mejor $\frac{5}{6}$ b. ¿Qué letra representa mejor $\frac{2}{6}$ a. ¿Qué letra representa mejor $\frac{0}{6}$ b. ¿Qué letra representa mejor $\frac{1}{6}$ a. ¿Qué letra representa mejor $\frac{3}{6}$ b. ¿Qué letra representa mejor $\frac{4}{6}$ a. ¿Qué letra representa mejor $\frac{3}{4}$ b. ¿Qué letra representa mejor $\frac{2}{4}$ a. ¿Qué letra representa mejor $\frac{2}{3}$ b. ¿Qué letra representa mejor $\frac{1}{3}$ 1. D B2. D B3. B C4. D B5. A B6. B C7. C B8. C B

**Determina cuál letra mejor muestra la ubicación de la fracción.****Respuestas**a. ¿Qué letra representa mejor $\frac{0}{3}$ b. ¿Qué letra representa mejor $\frac{2}{3}$ a. ¿Qué letra representa mejor $\frac{0}{6}$ b. ¿Qué letra representa mejor $\frac{5}{6}$ a. ¿Qué letra representa mejor $\frac{3}{4}$ b. ¿Qué letra representa mejor $\frac{1}{4}$ a. ¿Qué letra representa mejor $\frac{2}{8}$ b. ¿Qué letra representa mejor $\frac{3}{8}$ a. ¿Qué letra representa mejor $\frac{2}{4}$ b. ¿Qué letra representa mejor $\frac{4}{4}$ a. ¿Qué letra representa mejor $\frac{1}{4}$ b. ¿Qué letra representa mejor $\frac{2}{4}$ a. ¿Qué letra representa mejor $\frac{1}{2}$ b. ¿Qué letra representa mejor $\frac{2}{2}$ a. ¿Qué letra representa mejor $\frac{1}{4}$ b. ¿Qué letra representa mejor $\frac{3}{4}$

1. _____

2. _____

3. _____

4. _____

5. _____

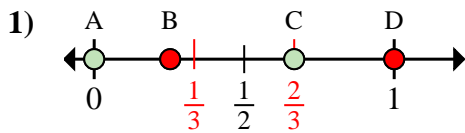
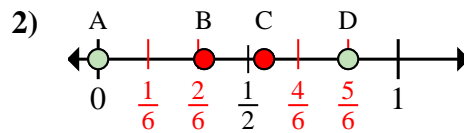
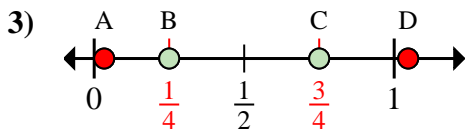
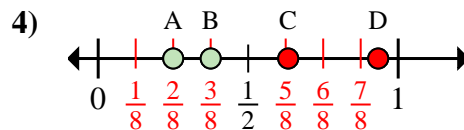
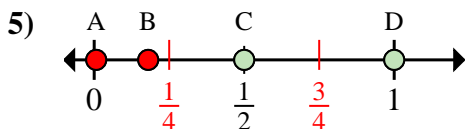
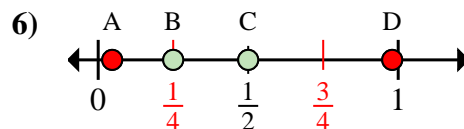
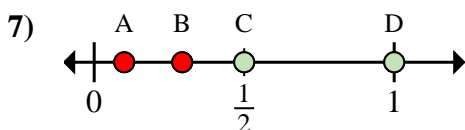
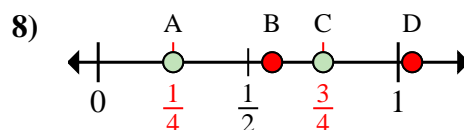
6. _____

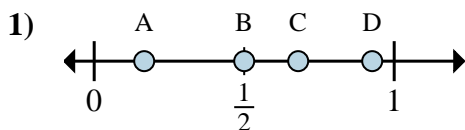
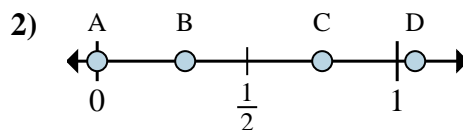
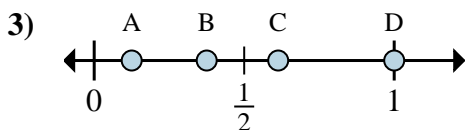
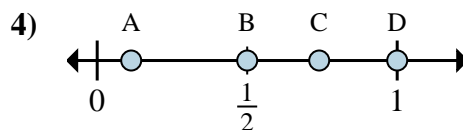
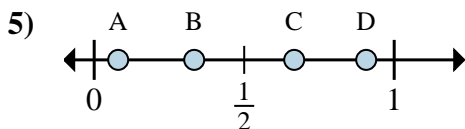
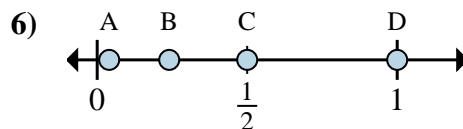
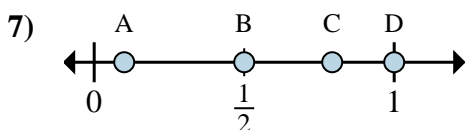
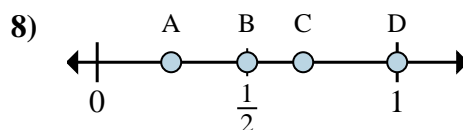
7. _____

8. _____



Determina cuál letra mejor muestra la ubicación de la fracción.

Respuestasa. ¿Qué letra representa mejor $\frac{0}{3}$ b. ¿Qué letra representa mejor $\frac{2}{3}$ a. ¿Qué letra representa mejor $\frac{0}{6}$ b. ¿Qué letra representa mejor $\frac{5}{6}$ a. ¿Qué letra representa mejor $\frac{3}{4}$ b. ¿Qué letra representa mejor $\frac{1}{4}$ a. ¿Qué letra representa mejor $\frac{2}{8}$ b. ¿Qué letra representa mejor $\frac{3}{8}$ a. ¿Qué letra representa mejor $\frac{2}{4}$ b. ¿Qué letra representa mejor $\frac{4}{4}$ a. ¿Qué letra representa mejor $\frac{1}{4}$ b. ¿Qué letra representa mejor $\frac{2}{4}$ a. ¿Qué letra representa mejor $\frac{1}{2}$ b. ¿Qué letra representa mejor $\frac{2}{2}$ a. ¿Qué letra representa mejor $\frac{1}{4}$ b. ¿Qué letra representa mejor $\frac{3}{4}$ 1. A C2. A D3. C B4. A B5. C D6. B C7. C D8. A C

**Determina cuál letra mejor muestra la ubicación de la fracción.****Respuestas**a. ¿Qué letra representa mejor $\frac{1}{6}$ b. ¿Qué letra representa mejor $\frac{3}{6}$ a. ¿Qué letra representa mejor $\frac{0}{4}$ b. ¿Qué letra representa mejor $\frac{3}{4}$ a. ¿Qué letra representa mejor $\frac{1}{8}$ b. ¿Qué letra representa mejor $\frac{3}{8}$ a. ¿Qué letra representa mejor $\frac{2}{2}$ b. ¿Qué letra representa mejor $\frac{1}{2}$ a. ¿Qué letra representa mejor $\frac{1}{3}$ b. ¿Qué letra representa mejor $\frac{2}{3}$ a. ¿Qué letra representa mejor $\frac{2}{2}$ b. ¿Qué letra representa mejor $\frac{1}{2}$ a. ¿Qué letra representa mejor $\frac{1}{2}$ b. ¿Qué letra representa mejor $\frac{2}{2}$ a. ¿Qué letra representa mejor $\frac{1}{2}$ b. ¿Qué letra representa mejor $\frac{2}{2}$

1. _____

2. _____

3. _____

4. _____

5. _____

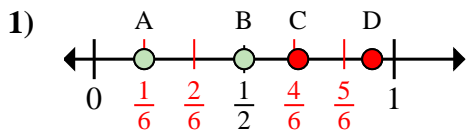
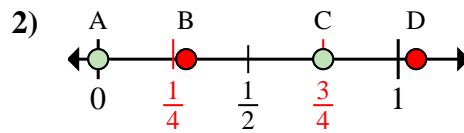
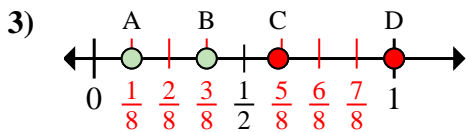
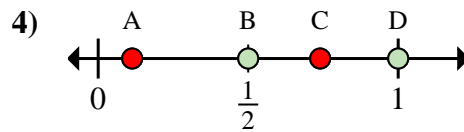
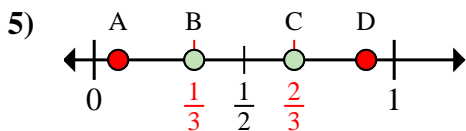
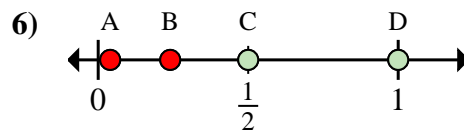
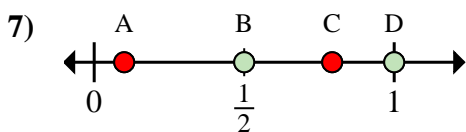
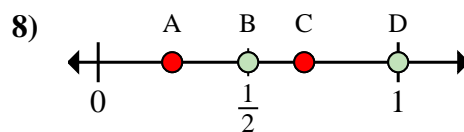
6. _____

7. _____

8. _____



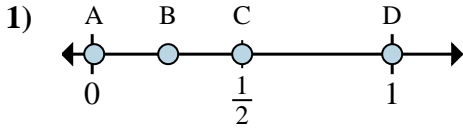
Determina cuál letra mejor muestra la ubicación de la fracción.

Respuestasa. ¿Qué letra representa mejor $\frac{1}{6}$ b. ¿Qué letra representa mejor $\frac{3}{6}$ a. ¿Qué letra representa mejor $\frac{0}{4}$ b. ¿Qué letra representa mejor $\frac{3}{4}$ a. ¿Qué letra representa mejor $\frac{1}{8}$ b. ¿Qué letra representa mejor $\frac{3}{8}$ a. ¿Qué letra representa mejor $\frac{2}{2}$ b. ¿Qué letra representa mejor $\frac{1}{2}$ a. ¿Qué letra representa mejor $\frac{1}{3}$ b. ¿Qué letra representa mejor $\frac{2}{3}$ a. ¿Qué letra representa mejor $\frac{2}{2}$ b. ¿Qué letra representa mejor $\frac{1}{2}$ a. ¿Qué letra representa mejor $\frac{1}{2}$ b. ¿Qué letra representa mejor $\frac{2}{2}$ a. ¿Qué letra representa mejor $\frac{1}{2}$ b. ¿Qué letra representa mejor $\frac{2}{2}$ 1. A B2. A C3. A B4. D B5. B C6. D C7. B D8. B D



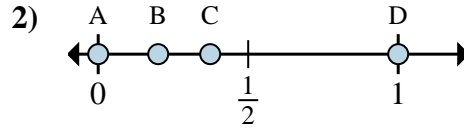
Determina cuál letra mejor muestra la ubicación de la fracción.

Respuestas



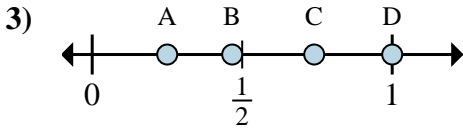
a. ¿Qué letra representa mejor $\frac{6}{6}$

b. ¿Qué letra representa mejor $\frac{3}{6}$



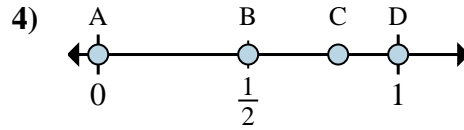
a. ¿Qué letra representa mejor $\frac{0}{2}$

b. ¿Qué letra representa mejor $\frac{2}{2}$



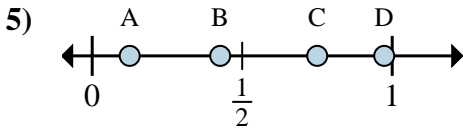
a. ¿Qué letra representa mejor $\frac{1}{4}$

b. ¿Qué letra representa mejor $\frac{4}{4}$



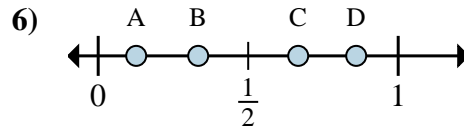
a. ¿Qué letra representa mejor $\frac{0}{3}$

b. ¿Qué letra representa mejor $\frac{3}{3}$



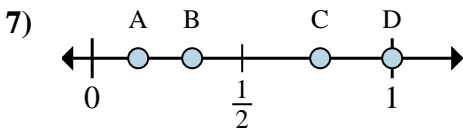
a. ¿Qué letra representa mejor $\frac{1}{8}$

b. ¿Qué letra representa mejor $\frac{6}{8}$



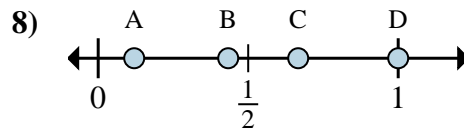
a. ¿Qué letra representa mejor $\frac{2}{3}$

b. ¿Qué letra representa mejor $\frac{1}{3}$



a. ¿Qué letra representa mejor $\frac{1}{3}$

b. ¿Qué letra representa mejor $\frac{3}{3}$



a. ¿Qué letra representa mejor $\frac{3}{3}$

b. ¿Qué letra representa mejor $\frac{2}{3}$

1. _____

2. _____

3. _____

4. _____

5. _____

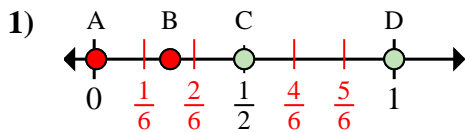
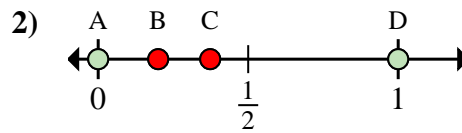
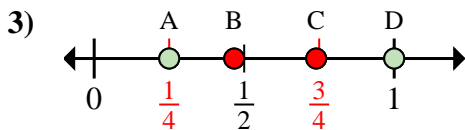
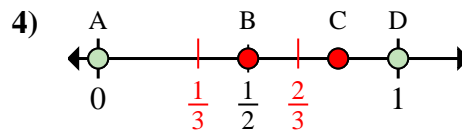
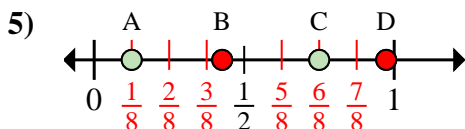
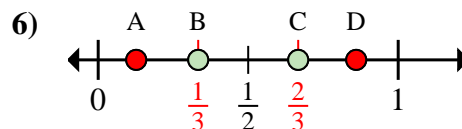
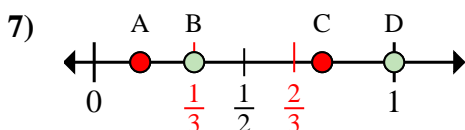
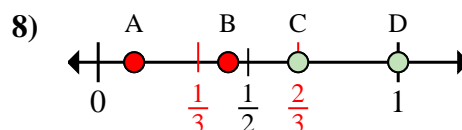
6. _____

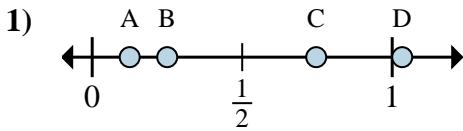
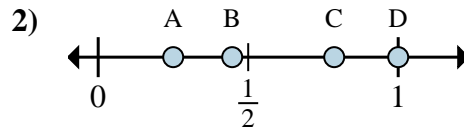
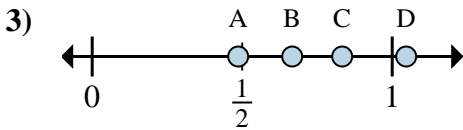
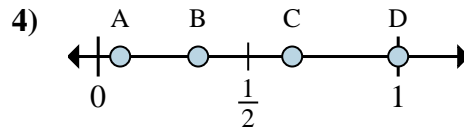
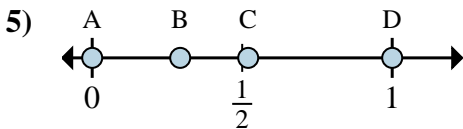
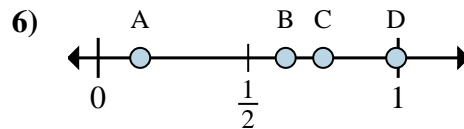
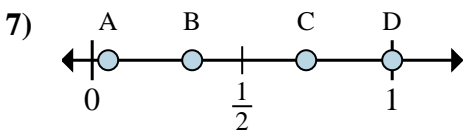
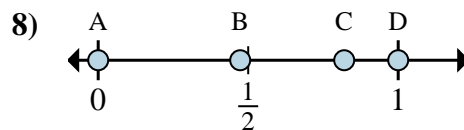
7. _____

8. _____



Determina cuál letra mejor muestra la ubicación de la fracción.

Respuestasa. ¿Qué letra representa mejor $\frac{6}{6}$ b. ¿Qué letra representa mejor $\frac{3}{6}$ a. ¿Qué letra representa mejor $\frac{0}{2}$ b. ¿Qué letra representa mejor $\frac{2}{2}$ a. ¿Qué letra representa mejor $\frac{1}{4}$ b. ¿Qué letra representa mejor $\frac{4}{4}$ a. ¿Qué letra representa mejor $\frac{0}{3}$ b. ¿Qué letra representa mejor $\frac{3}{3}$ a. ¿Qué letra representa mejor $\frac{1}{8}$ b. ¿Qué letra representa mejor $\frac{6}{8}$ a. ¿Qué letra representa mejor $\frac{2}{3}$ b. ¿Qué letra representa mejor $\frac{1}{3}$ a. ¿Qué letra representa mejor $\frac{1}{3}$ b. ¿Qué letra representa mejor $\frac{3}{3}$ a. ¿Qué letra representa mejor $\frac{3}{3}$ b. ¿Qué letra representa mejor $\frac{2}{3}$ 1. D C2. A D3. A D4. A D5. A C6. C B7. B D8. D C

**Determina cuál letra mejor muestra la ubicación de la fracción.****Respuestas**a. ¿Qué letra representa mejor $\frac{1}{8}$ b. ¿Qué letra representa mejor $\frac{2}{8}$ a. ¿Qué letra representa mejor $\frac{4}{4}$ b. ¿Qué letra representa mejor $\frac{1}{4}$ a. ¿Qué letra representa mejor $\frac{5}{6}$ b. ¿Qué letra representa mejor $\frac{4}{6}$ a. ¿Qué letra representa mejor $\frac{3}{3}$ b. ¿Qué letra representa mejor $\frac{1}{3}$ a. ¿Qué letra representa mejor $\frac{0}{2}$ b. ¿Qué letra representa mejor $\frac{2}{2}$ a. ¿Qué letra representa mejor $\frac{6}{8}$ b. ¿Qué letra representa mejor $\frac{5}{8}$ a. ¿Qué letra representa mejor $\frac{1}{3}$ b. ¿Qué letra representa mejor $\frac{3}{3}$ a. ¿Qué letra representa mejor $\frac{0}{2}$ b. ¿Qué letra representa mejor $\frac{2}{2}$

1. _____

2. _____

3. _____

4. _____

5. _____

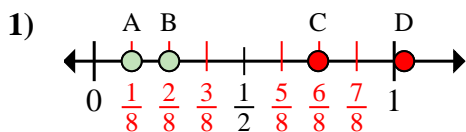
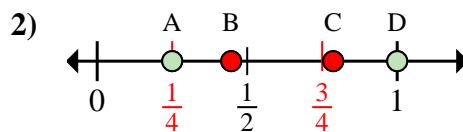
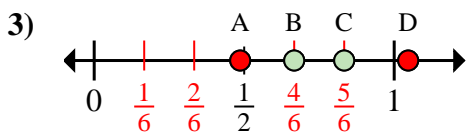
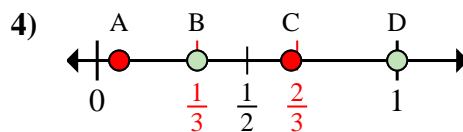
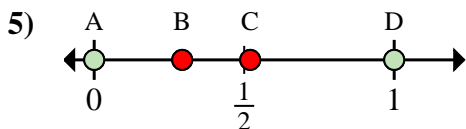
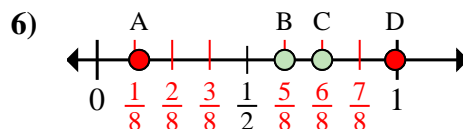
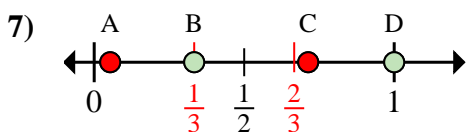
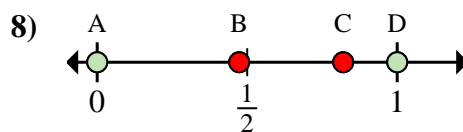
6. _____

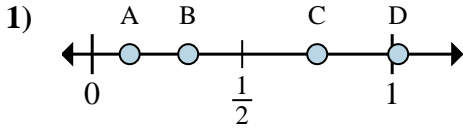
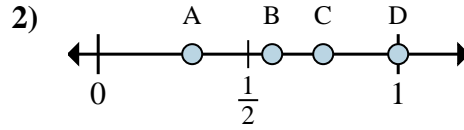
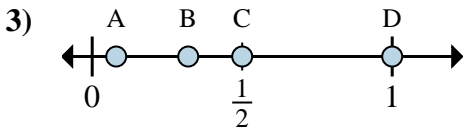
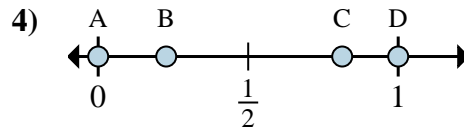
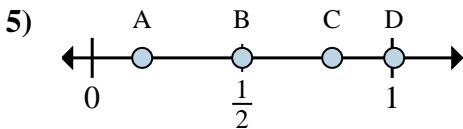
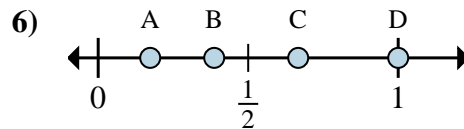
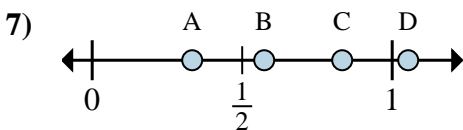
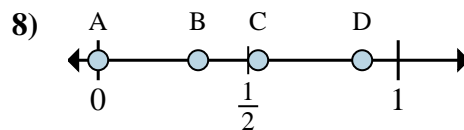
7. _____

8. _____



Determina cuál letra mejor muestra la ubicación de la fracción.

Respuestasa. ¿Qué letra representa mejor $\frac{1}{8}$ b. ¿Qué letra representa mejor $\frac{2}{8}$ a. ¿Qué letra representa mejor $\frac{4}{4}$ b. ¿Qué letra representa mejor $\frac{1}{4}$ a. ¿Qué letra representa mejor $\frac{5}{6}$ b. ¿Qué letra representa mejor $\frac{4}{6}$ a. ¿Qué letra representa mejor $\frac{3}{3}$ b. ¿Qué letra representa mejor $\frac{1}{3}$ a. ¿Qué letra representa mejor $\frac{0}{2}$ b. ¿Qué letra representa mejor $\frac{2}{2}$ a. ¿Qué letra representa mejor $\frac{6}{8}$ b. ¿Qué letra representa mejor $\frac{5}{8}$ a. ¿Qué letra representa mejor $\frac{1}{3}$ b. ¿Qué letra representa mejor $\frac{3}{3}$ a. ¿Qué letra representa mejor $\frac{0}{2}$ b. ¿Qué letra representa mejor $\frac{2}{2}$ 1. A B2. D A3. C B4. D B5. A D6. C B7. B D8. A D

**Determina cuál letra mejor muestra la ubicación de la fracción.****Respuestas**a. ¿Qué letra representa mejor $\frac{1}{8}$ b. ¿Qué letra representa mejor $\frac{6}{8}$ a. ¿Qué letra representa mejor $\frac{3}{4}$ b. ¿Qué letra representa mejor $\frac{4}{4}$ a. ¿Qué letra representa mejor $\frac{8}{8}$ b. ¿Qué letra representa mejor $\frac{4}{8}$ a. ¿Qué letra representa mejor $\frac{0}{2}$ b. ¿Qué letra representa mejor $\frac{2}{2}$ a. ¿Qué letra representa mejor $\frac{1}{6}$ b. ¿Qué letra representa mejor $\frac{3}{6}$ a. ¿Qué letra representa mejor $\frac{2}{3}$ b. ¿Qué letra representa mejor $\frac{3}{3}$ a. ¿Qué letra representa mejor $\frac{5}{6}$ b. ¿Qué letra representa mejor $\frac{2}{6}$ a. ¿Qué letra representa mejor $\frac{0}{3}$ b. ¿Qué letra representa mejor $\frac{1}{3}$

1. _____

2. _____

3. _____

4. _____

5. _____

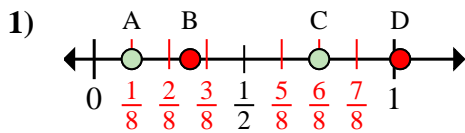
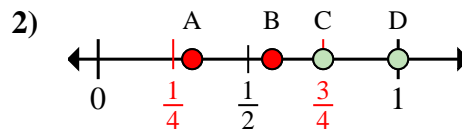
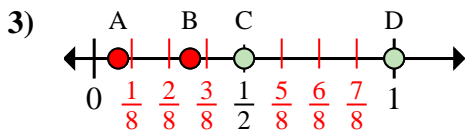
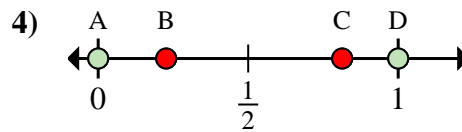
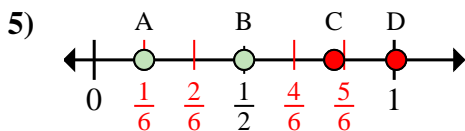
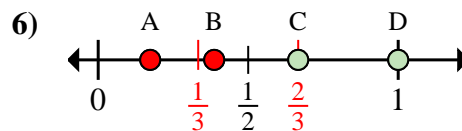
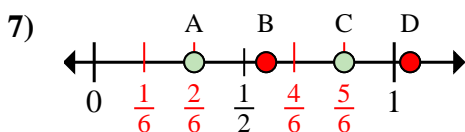
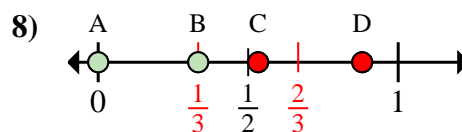
6. _____

7. _____

8. _____



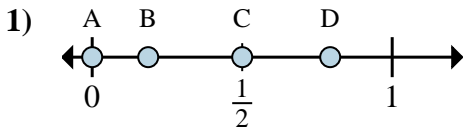
Determina cuál letra mejor muestra la ubicación de la fracción.

Respuestasa. ¿Qué letra representa mejor $\frac{1}{8}$ b. ¿Qué letra representa mejor $\frac{6}{8}$ a. ¿Qué letra representa mejor $\frac{3}{4}$ b. ¿Qué letra representa mejor $\frac{4}{4}$ a. ¿Qué letra representa mejor $\frac{8}{8}$ b. ¿Qué letra representa mejor $\frac{4}{8}$ a. ¿Qué letra representa mejor $\frac{0}{2}$ b. ¿Qué letra representa mejor $\frac{2}{2}$ a. ¿Qué letra representa mejor $\frac{1}{6}$ b. ¿Qué letra representa mejor $\frac{3}{6}$ a. ¿Qué letra representa mejor $\frac{2}{3}$ b. ¿Qué letra representa mejor $\frac{3}{3}$ a. ¿Qué letra representa mejor $\frac{5}{6}$ b. ¿Qué letra representa mejor $\frac{2}{6}$ a. ¿Qué letra representa mejor $\frac{0}{3}$ b. ¿Qué letra representa mejor $\frac{1}{3}$ 1. **A** **C**2. **C** **D**3. **D** **C**4. **A** **D**5. **A** **B**6. **C** **D**7. **C** **A**8. **A** **B**



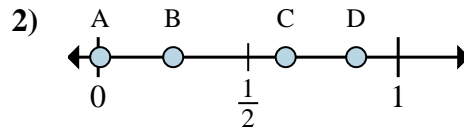
Determina cuál letra mejor muestra la ubicación de la fracción.

Respuestas



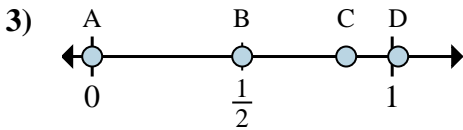
a. ¿Qué letra representa mejor $\frac{0}{2}$

b. ¿Qué letra representa mejor $\frac{1}{2}$



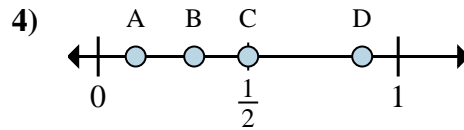
a. ¿Qué letra representa mejor $\frac{2}{8}$

b. ¿Qué letra representa mejor $\frac{5}{8}$



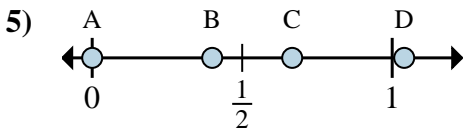
a. ¿Qué letra representa mejor $\frac{0}{6}$

b. ¿Qué letra representa mejor $\frac{3}{6}$



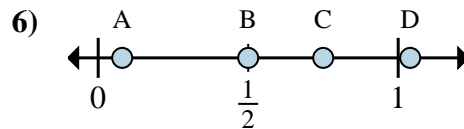
a. ¿Qué letra representa mejor $\frac{1}{8}$

b. ¿Qué letra representa mejor $\frac{4}{8}$



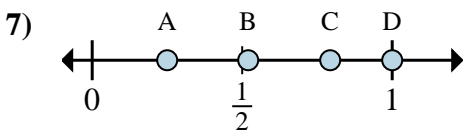
a. ¿Qué letra representa mejor $\frac{0}{3}$

b. ¿Qué letra representa mejor $\frac{2}{3}$



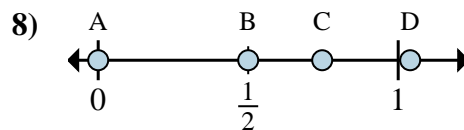
a. ¿Qué letra representa mejor $\frac{2}{4}$

b. ¿Qué letra representa mejor $\frac{3}{4}$



a. ¿Qué letra representa mejor $\frac{1}{4}$

b. ¿Qué letra representa mejor $\frac{4}{4}$



a. ¿Qué letra representa mejor $\frac{0}{2}$

b. ¿Qué letra representa mejor $\frac{1}{2}$

1. _____

2. _____

3. _____

4. _____

5. _____

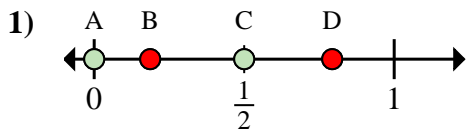
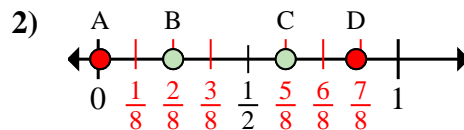
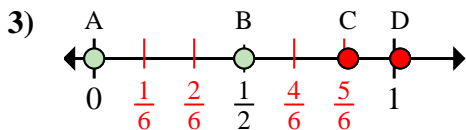
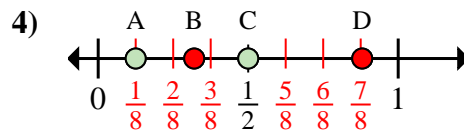
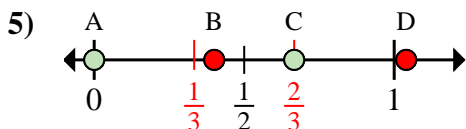
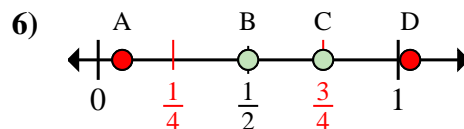
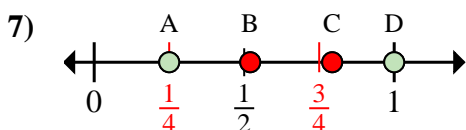
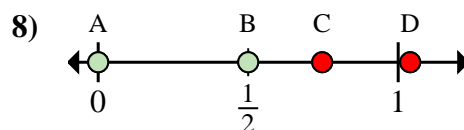
6. _____

7. _____

8. _____



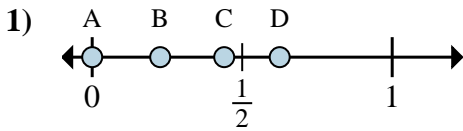
Determina cuál letra mejor muestra la ubicación de la fracción.

Respuestasa. ¿Qué letra representa mejor $\frac{0}{2}$ b. ¿Qué letra representa mejor $\frac{1}{2}$ a. ¿Qué letra representa mejor $\frac{2}{8}$ b. ¿Qué letra representa mejor $\frac{5}{8}$ a. ¿Qué letra representa mejor $\frac{0}{6}$ b. ¿Qué letra representa mejor $\frac{3}{6}$ a. ¿Qué letra representa mejor $\frac{1}{8}$ b. ¿Qué letra representa mejor $\frac{4}{8}$ a. ¿Qué letra representa mejor $\frac{0}{3}$ b. ¿Qué letra representa mejor $\frac{2}{3}$ a. ¿Qué letra representa mejor $\frac{2}{4}$ b. ¿Qué letra representa mejor $\frac{3}{4}$ a. ¿Qué letra representa mejor $\frac{1}{4}$ b. ¿Qué letra representa mejor $\frac{4}{4}$ a. ¿Qué letra representa mejor $\frac{0}{2}$ b. ¿Qué letra representa mejor $\frac{1}{2}$ 1. A C2. B C3. A B4. A C5. A C6. B C7. A D8. A B



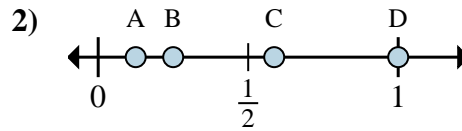
Determina cuál letra mejor muestra la ubicación de la fracción.

Respuestas



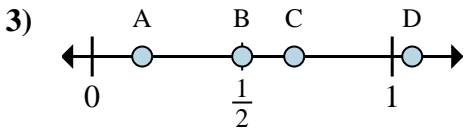
a. ¿Qué letra representa mejor $\frac{0}{8}$

b. ¿Qué letra representa mejor $\frac{5}{8}$



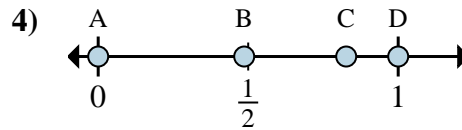
a. ¿Qué letra representa mejor $\frac{1}{8}$

b. ¿Qué letra representa mejor $\frac{2}{8}$



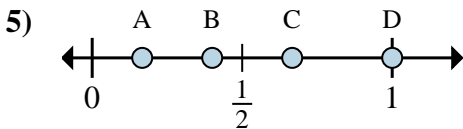
a. ¿Qué letra representa mejor $\frac{1}{6}$

b. ¿Qué letra representa mejor $\frac{3}{6}$



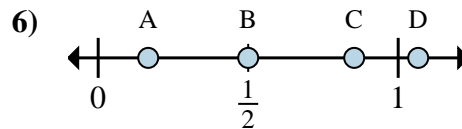
a. ¿Qué letra representa mejor $\frac{0}{2}$

b. ¿Qué letra representa mejor $\frac{2}{2}$



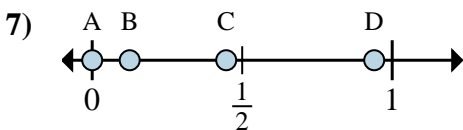
a. ¿Qué letra representa mejor $\frac{3}{3}$

b. ¿Qué letra representa mejor $\frac{2}{3}$



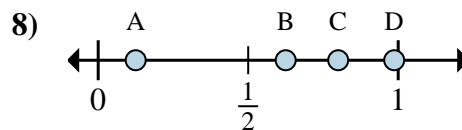
a. ¿Qué letra representa mejor $\frac{3}{6}$

b. ¿Qué letra representa mejor $\frac{1}{6}$



a. ¿Qué letra representa mejor $\frac{0}{8}$

b. ¿Qué letra representa mejor $\frac{1}{8}$



a. ¿Qué letra representa mejor $\frac{5}{8}$

b. ¿Qué letra representa mejor $\frac{1}{8}$

1. _____

2. _____

3. _____

4. _____

5. _____

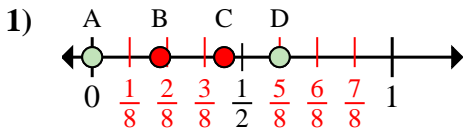
6. _____

7. _____

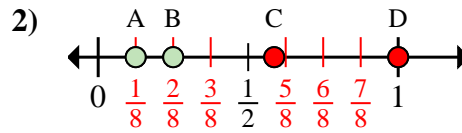
8. _____



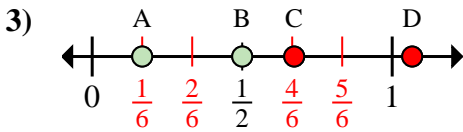
Determina cuál letra mejor muestra la ubicación de la fracción.

Respuestas

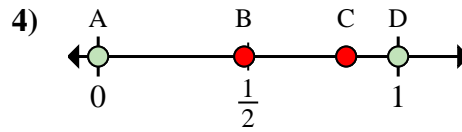
- a. ¿Qué letra representa mejor $\frac{0}{8}$
 b. ¿Qué letra representa mejor $\frac{5}{8}$



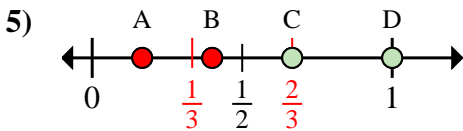
- a. ¿Qué letra representa mejor $\frac{1}{8}$
 b. ¿Qué letra representa mejor $\frac{2}{8}$



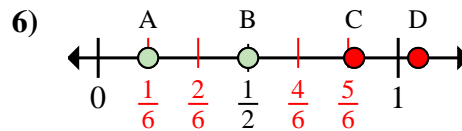
- a. ¿Qué letra representa mejor $\frac{1}{6}$
 b. ¿Qué letra representa mejor $\frac{3}{6}$



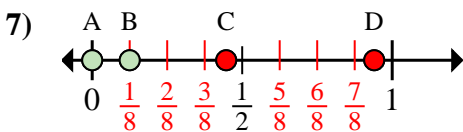
- a. ¿Qué letra representa mejor $\frac{0}{2}$
 b. ¿Qué letra representa mejor $\frac{2}{2}$



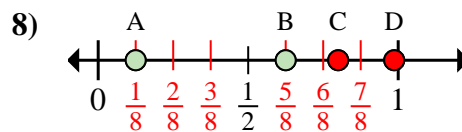
- a. ¿Qué letra representa mejor $\frac{3}{3}$
 b. ¿Qué letra representa mejor $\frac{2}{3}$



- a. ¿Qué letra representa mejor $\frac{3}{6}$
 b. ¿Qué letra representa mejor $\frac{1}{6}$



- a. ¿Qué letra representa mejor $\frac{0}{8}$
 b. ¿Qué letra representa mejor $\frac{1}{8}$

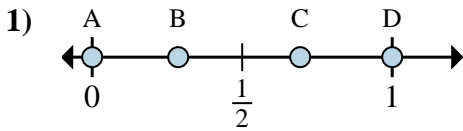
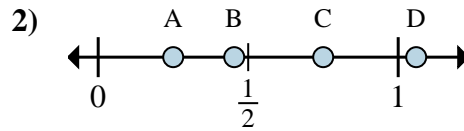
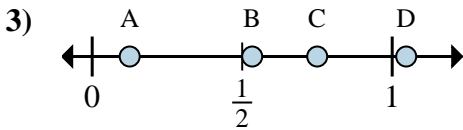
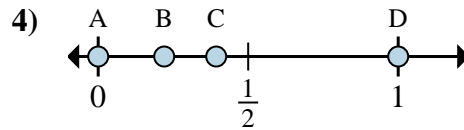
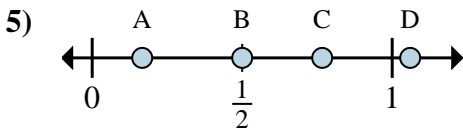
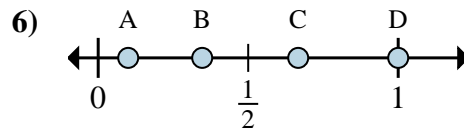
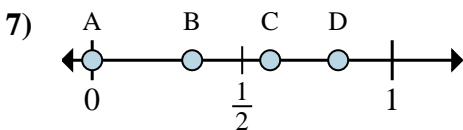
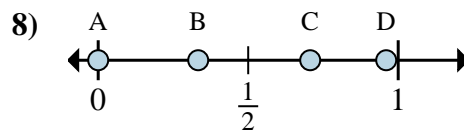


- a. ¿Qué letra representa mejor $\frac{5}{8}$
 b. ¿Qué letra representa mejor $\frac{1}{8}$

1. **A** **D**2. **A** **B**3. **A** **B**4. **A** **D**5. **D** **C**6. **B** **A**7. **A** **B**8. **B** **A**



Determina cuál letra mejor muestra la ubicación de la fracción.

Respuestasa. ¿Qué letra representa mejor $\frac{0}{2}$ b. ¿Qué letra representa mejor $\frac{2}{2}$ a. ¿Qué letra representa mejor $\frac{1}{4}$ b. ¿Qué letra representa mejor $\frac{3}{4}$ a. ¿Qué letra representa mejor $\frac{6}{8}$ b. ¿Qué letra representa mejor $\frac{1}{8}$ a. ¿Qué letra representa mejor $\frac{0}{2}$ b. ¿Qué letra representa mejor $\frac{2}{2}$ a. ¿Qué letra representa mejor $\frac{3}{6}$ b. ¿Qué letra representa mejor $\frac{1}{6}$ a. ¿Qué letra representa mejor $\frac{2}{3}$ b. ¿Qué letra representa mejor $\frac{3}{3}$ a. ¿Qué letra representa mejor $\frac{0}{3}$ b. ¿Qué letra representa mejor $\frac{1}{3}$ a. ¿Qué letra representa mejor $\frac{0}{6}$ b. ¿Qué letra representa mejor $\frac{2}{6}$

1. _____

2. _____

3. _____

4. _____

5. _____

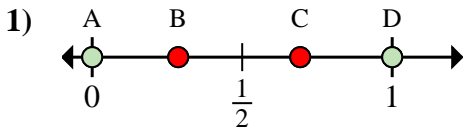
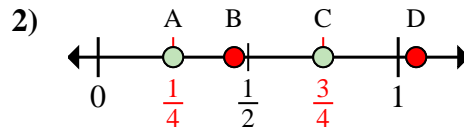
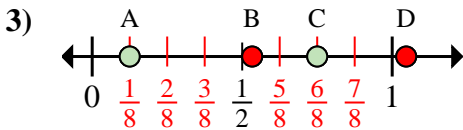
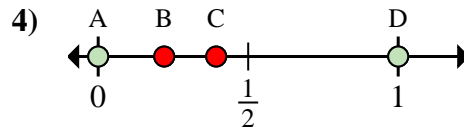
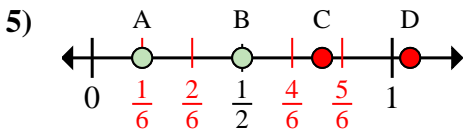
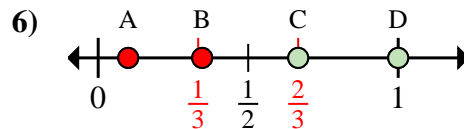
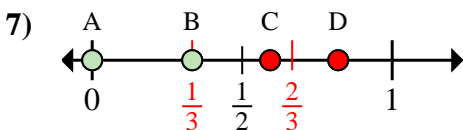
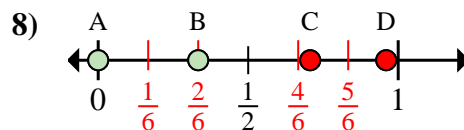
6. _____

7. _____

8. _____



Determina cuál letra mejor muestra la ubicación de la fracción.

Respuestasa. ¿Qué letra representa mejor $\frac{0}{2}$ b. ¿Qué letra representa mejor $\frac{2}{2}$ a. ¿Qué letra representa mejor $\frac{1}{4}$ b. ¿Qué letra representa mejor $\frac{3}{4}$ a. ¿Qué letra representa mejor $\frac{6}{8}$ b. ¿Qué letra representa mejor $\frac{1}{8}$ a. ¿Qué letra representa mejor $\frac{0}{2}$ b. ¿Qué letra representa mejor $\frac{2}{2}$ a. ¿Qué letra representa mejor $\frac{3}{6}$ b. ¿Qué letra representa mejor $\frac{1}{6}$ a. ¿Qué letra representa mejor $\frac{2}{3}$ b. ¿Qué letra representa mejor $\frac{3}{3}$ a. ¿Qué letra representa mejor $\frac{0}{3}$ b. ¿Qué letra representa mejor $\frac{1}{3}$ a. ¿Qué letra representa mejor $\frac{0}{6}$ b. ¿Qué letra representa mejor $\frac{2}{6}$ 1. A D2. A C3. C A4. A D5. B A6. C D7. A B8. A B