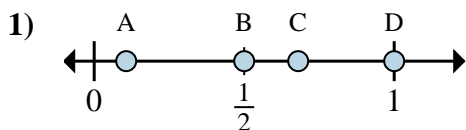
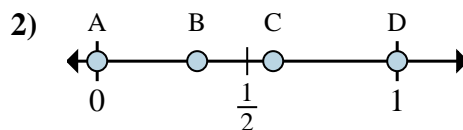
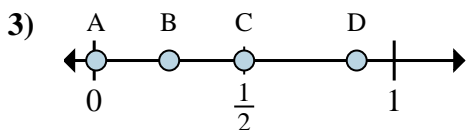
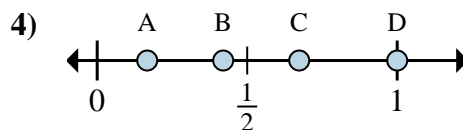
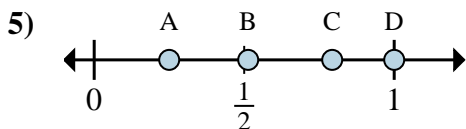
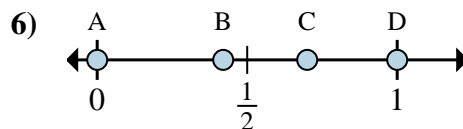
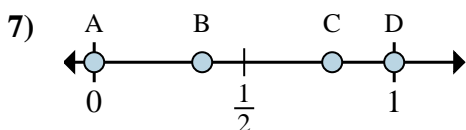
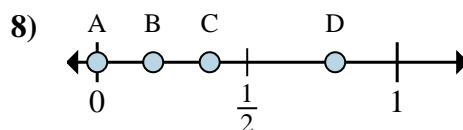


**Determina cuál letra mejor muestra la ubicación de la fracción.****Respuestas**a. ¿Qué letra representa mejor $\frac{8}{8}$ b. ¿Qué letra representa mejor $\frac{4}{8}$ a. ¿Qué letra representa mejor $\frac{0}{3}$ b. ¿Qué letra representa mejor $\frac{3}{3}$ a. ¿Qué letra representa mejor $\frac{2}{8}$ b. ¿Qué letra representa mejor $\frac{7}{8}$ a. ¿Qué letra representa mejor $\frac{6}{6}$ b. ¿Qué letra representa mejor $\frac{1}{6}$ a. ¿Qué letra representa mejor $\frac{1}{4}$ b. ¿Qué letra representa mejor $\frac{4}{4}$ a. ¿Qué letra representa mejor $\frac{0}{2}$ b. ¿Qué letra representa mejor $\frac{2}{2}$ a. ¿Qué letra representa mejor $\frac{0}{2}$ b. ¿Qué letra representa mejor $\frac{2}{2}$ a. ¿Qué letra representa mejor $\frac{0}{8}$ b. ¿Qué letra representa mejor $\frac{3}{8}$

1. _____

2. _____

3. _____

4. _____

5. _____

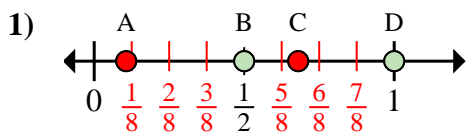
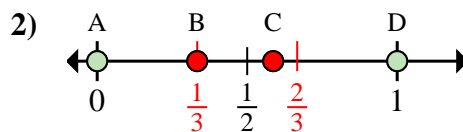
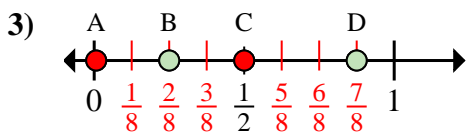
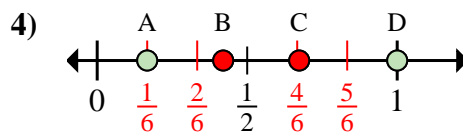
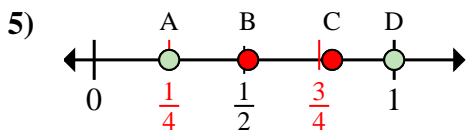
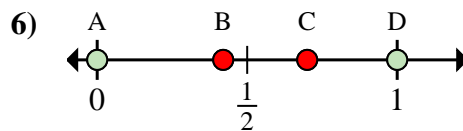
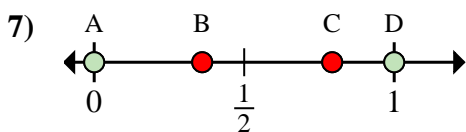
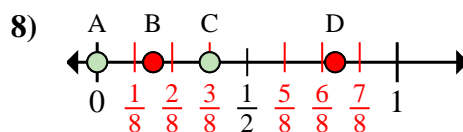
6. _____

7. _____

8. _____



Determina cuál letra mejor muestra la ubicación de la fracción.

Respuestasa. ¿Qué letra representa mejor $\frac{8}{8}$ b. ¿Qué letra representa mejor $\frac{4}{8}$ a. ¿Qué letra representa mejor $\frac{0}{3}$ b. ¿Qué letra representa mejor $\frac{3}{3}$ a. ¿Qué letra representa mejor $\frac{2}{8}$ b. ¿Qué letra representa mejor $\frac{7}{8}$ a. ¿Qué letra representa mejor $\frac{6}{6}$ b. ¿Qué letra representa mejor $\frac{1}{6}$ a. ¿Qué letra representa mejor $\frac{1}{4}$ b. ¿Qué letra representa mejor $\frac{4}{4}$ a. ¿Qué letra representa mejor $\frac{0}{2}$ b. ¿Qué letra representa mejor $\frac{2}{2}$ a. ¿Qué letra representa mejor $\frac{0}{2}$ b. ¿Qué letra representa mejor $\frac{2}{2}$ a. ¿Qué letra representa mejor $\frac{0}{8}$ b. ¿Qué letra representa mejor $\frac{3}{8}$ 1. D B2. A D3. B D4. D A5. A D6. A D7. A D8. A C