



Usa el modelo visual para resolver cada problema.

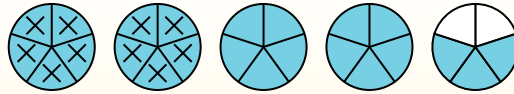
$$4 \frac{3}{5} - 2 \frac{4}{5} = ?$$

Para resolver un problema de resta de fracciones, una estrategia es sombrear

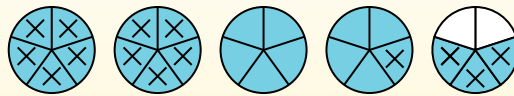
primero la cantidad inicial ( $4 \frac{3}{5}$ )



Em seguida, marque os inteiros (2).



Finalmente, marque la fracción  $\frac{4}{5}$ .



Ahora podemos ver que  $4 \frac{3}{5} - 2 \frac{4}{5} = 1 \frac{4}{5}$

**Respuestas**

1. \_\_\_\_\_
2. \_\_\_\_\_
3. \_\_\_\_\_
4. \_\_\_\_\_
5. \_\_\_\_\_
6. \_\_\_\_\_
7. \_\_\_\_\_
8. \_\_\_\_\_
9. \_\_\_\_\_
10. \_\_\_\_\_

1)  $5 \frac{2}{3} - 3 \frac{2}{3} =$

2)  $3 \frac{1}{4} - 1 \frac{1}{4} =$

3)  $7 \frac{2}{5} - 2 \frac{4}{5} =$

4)  $4 \frac{4}{5} - 2 \frac{3}{5} =$

5)  $3 \frac{5}{10} - 1 \frac{6}{10} =$

6)  $6 \frac{8}{10} - 4 \frac{3}{10} =$

7)  $4 \frac{3}{4} - 1 \frac{1}{4} =$

8)  $5 \frac{1}{3} - 2 \frac{1}{3} =$

9)  $5 \frac{2}{4} - 3 \frac{3}{4} =$

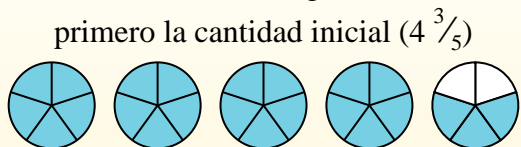
10)  $4 \frac{1}{3} - 1 \frac{1}{3} =$



Usa el modelo visual para resolver cada problema.

$$4 \frac{3}{5} - 2 \frac{4}{5} = ?$$

Para resolver un problema de resta de fracciones, una estrategia es sombrear primero la cantidad inicial ( $4 \frac{3}{5}$ )



Em seguida, marque os inteiros (2).



Finalmente, marque la fracción  $\frac{4}{5}$ .



Ahora podemos ver que  $4 \frac{3}{5} - 2 \frac{4}{5} = 1 \frac{4}{5}$

1)  $5 \frac{2}{3} - 3 \frac{2}{3} =$

2)  $3 \frac{1}{4} - 1 \frac{1}{4} =$

3)  $7 \frac{2}{5} - 2 \frac{4}{5} =$

4)  $4 \frac{4}{5} - 2 \frac{3}{5} =$

5)  $3 \frac{5}{10} - 1 \frac{6}{10} =$

6)  $6 \frac{8}{10} - 4 \frac{3}{10} =$

7)  $4 \frac{3}{4} - 1 \frac{1}{4} =$

8)  $5 \frac{1}{3} - 2 \frac{1}{3} =$

9)  $5 \frac{2}{4} - 3 \frac{3}{4} =$

10)  $4 \frac{1}{3} - 1 \frac{1}{3} =$

**Respuestas**

1.  $2 \frac{0}{3}$

2.  $2 \frac{0}{4}$

3.  $4 \frac{3}{5}$

4.  $2 \frac{1}{5}$

5.  $1 \frac{9}{10}$

6.  $2 \frac{5}{10}$

7.  $3 \frac{2}{4}$

8.  $3 \frac{0}{3}$

9.  $1 \frac{3}{4}$

10.  $3 \frac{0}{3}$