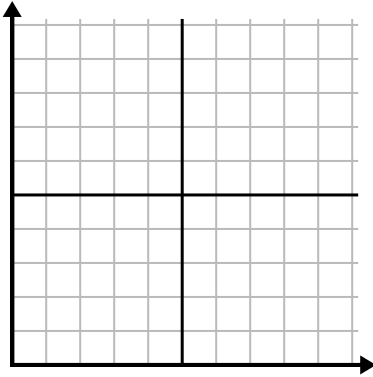




Complete la cuadrícula utilizando la gráfica.

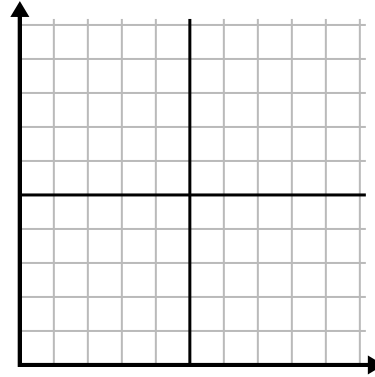
1)

Año	1	2	3	4	5	6
Cajas de bolígrafos utilizados	10	1	6	2	7	8



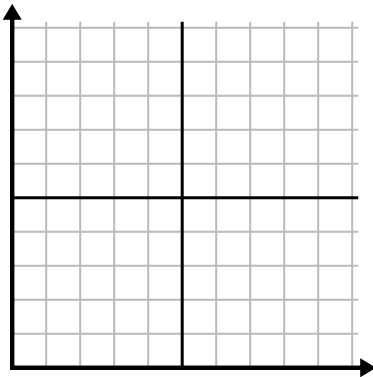
2)

Día	1	2	3	4	5
Mensajes enviados	25	35	40	15	5



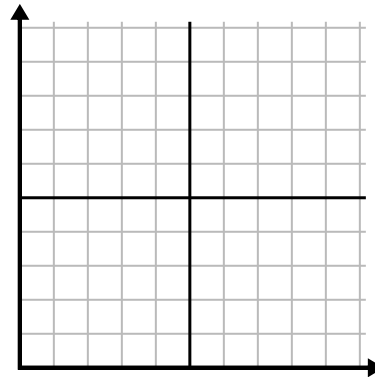
3)

Año	1	2	3	4	5
Cartuchos de tinta usados	10	4	12	2	14



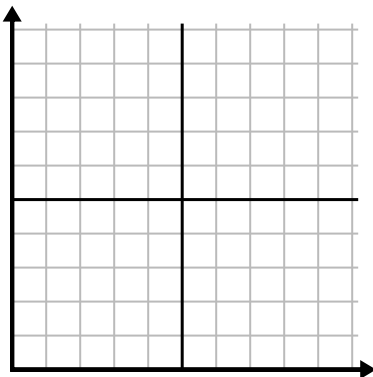
4)

Día	1	2	3	4	5
Vídeos de Youtube vistos	120	60	300	150	30



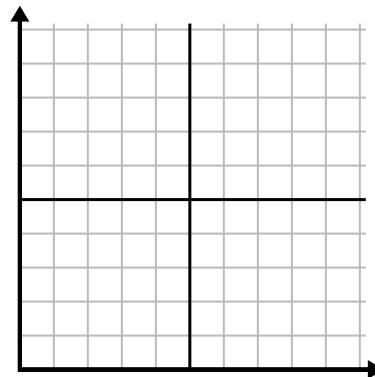
5)

Semana	1	2	3	4	5	6	7
Agua usada (galones)	100	50	90	10	60	80	40



6)

Día	1	2	3	4	5	6	7
Dinero gastado	1	7	3	4	5	6	8

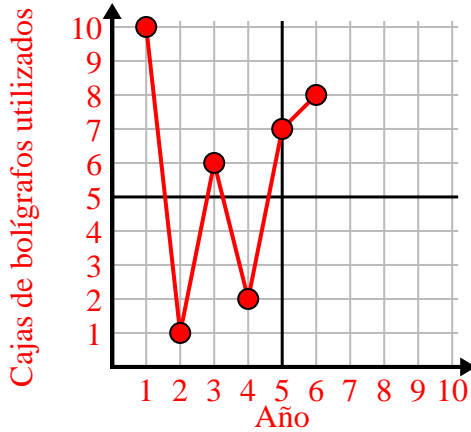




Complete la cuadrícula utilizando la gráfica.

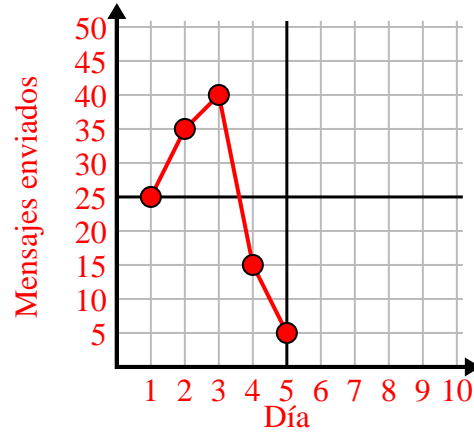
1)

Año	1	2	3	4	5	6
Cajas de bolígrafos utilizados	10	1	6	2	7	8



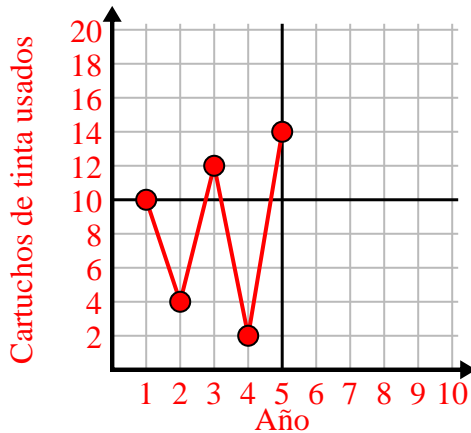
2)

Día	1	2	3	4	5
Mensajes enviados	25	35	40	15	5



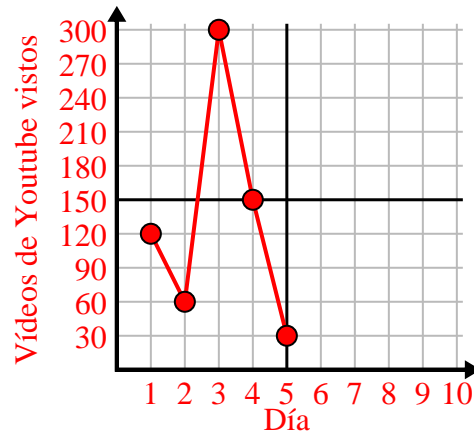
3)

Año	1	2	3	4	5
Cartuchos de tinta usados	10	4	12	2	14



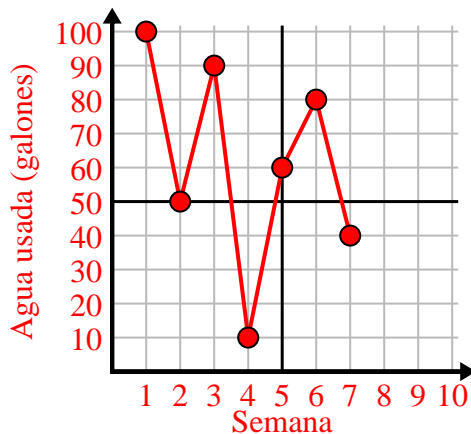
4)

Día	1	2	3	4	5
Vídeos de Youtube vistos	120	60	300	150	30



5)

Semana	1	2	3	4	5	6	7
Agua usada (galones)	100	50	90	10	60	80	40



6)

Día	1	2	3	4	5	6	7
Dinero gastado	1	7	3	4	5	6	8

