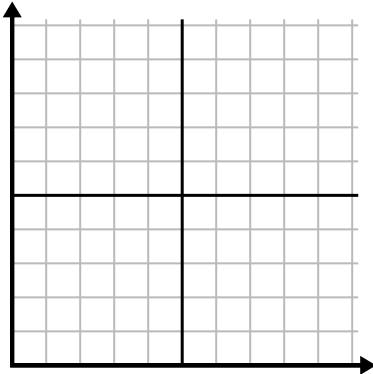




Complete la cuadrícula utilizando la gráfica.

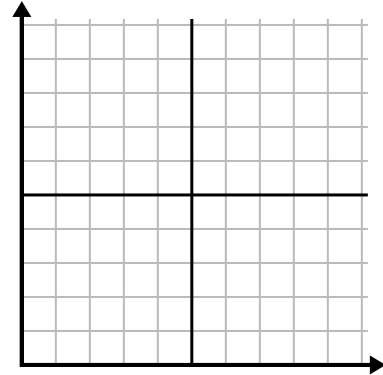
1)

Mes	1	2	3	4	5	6
Precio de la factura eléctrica	175	50	250	200	100	150



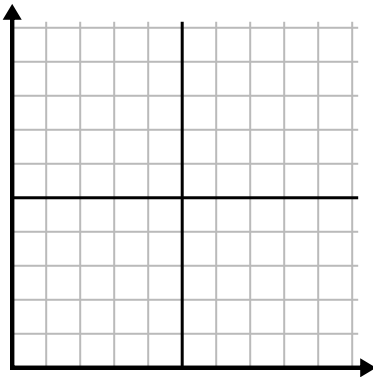
2)

Día	1	2	3	4	5
Comidas vendidas	900	300	600	1,000	400



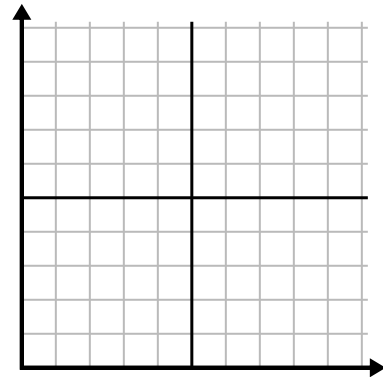
3)

Semana	1	2	3	4	5	6	7
Horas de televisión vistas	15	30	50	35	10	25	45



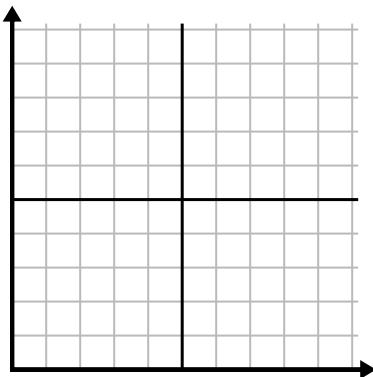
4)

Hora	1	2	3	4	5
Cantidad vendida	2	3	8	1	4



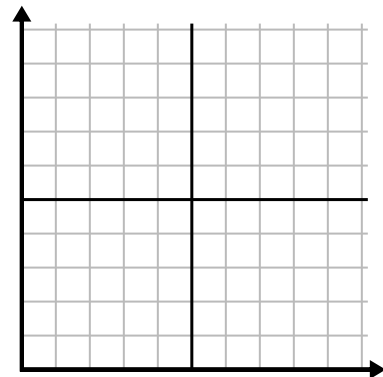
5)

Día	1	2	3	4	5
Calorías quemadas	200	180	40	80	120



6)

Año	1	2	3	4	5	6
Cartuchos de tinta usados	18	20	14	16	12	8

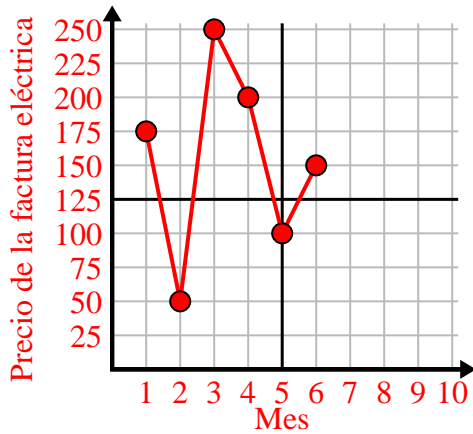




Complete la cuadrícula utilizando la gráfica.

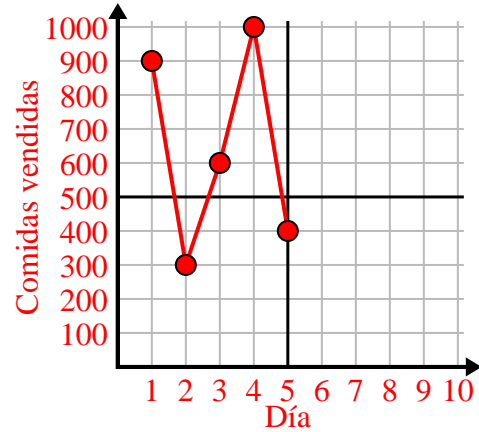
1)

Mes	1	2	3	4	5	6
Precio de la factura eléctrica	175	50	250	200	100	150



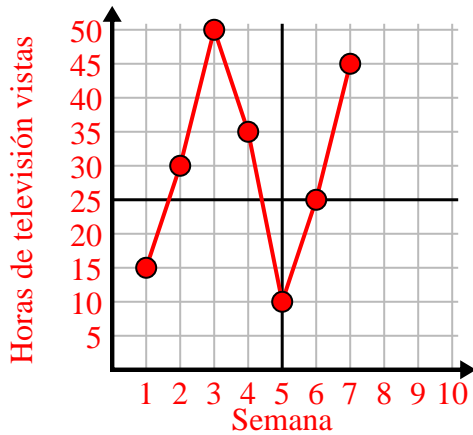
2)

Día	1	2	3	4	5
Comidas vendidas	900	300	600	1,000	400



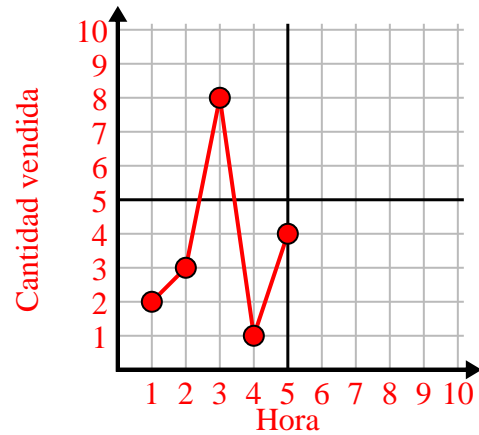
3)

Semana	1	2	3	4	5	6	7
Horas de televisión vistas	15	30	50	35	10	25	45



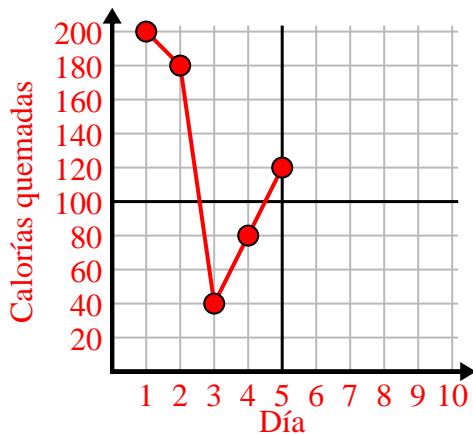
4)

Hora	1	2	3	4	5
Cantidad vendida	2	3	8	1	4



5)

Día	1	2	3	4	5
Calorías quemadas	200	180	40	80	120



6)

Año	1	2	3	4	5	6
Cartuchos de tinta usados	18	20	14	16	12	8

