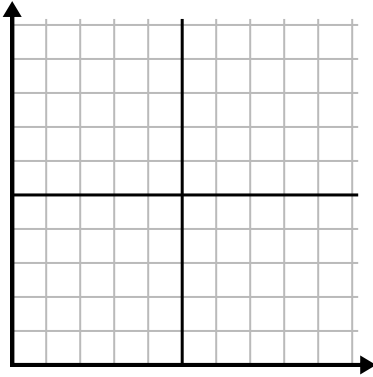




Complete la cuadrícula utilizando la gráfica.

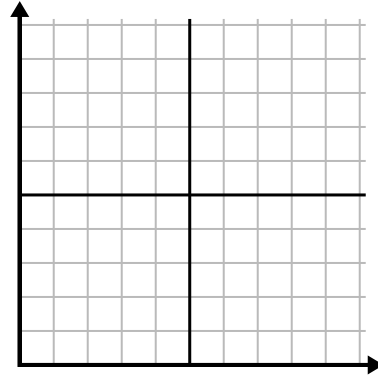
1) 

Día	1	2	3	4	5
Calorías quemadas	160	40	100	20	180



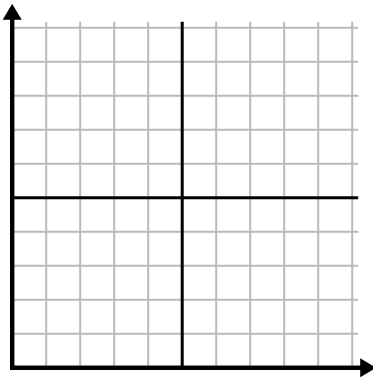
2) 

Año	1	2	3	4	5
Cajas de bolígrafos utilizados	9	2	8	6	10



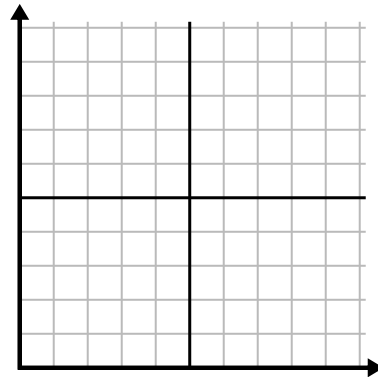
3) 

Día	1	2	3	4	5
Mensajes enviados	40	25	45	5	30



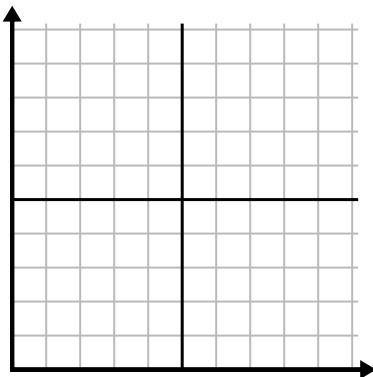
4) 

Día	1	2	3	4	5	6	7
Comidas vendidas	600	900	200	1,000	500	400	700



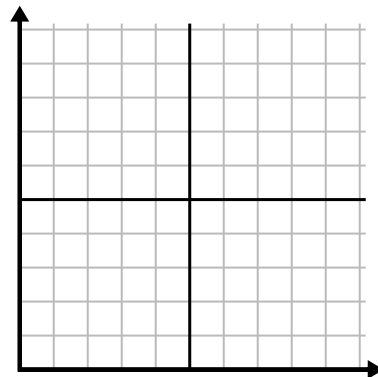
5) 

Hora	1	2	3	4	5
Cantidad vendida	8	5	10	3	9



6) 

Semana	1	2	3	4	5
Agua usada (galones)	70	80	10	40	100

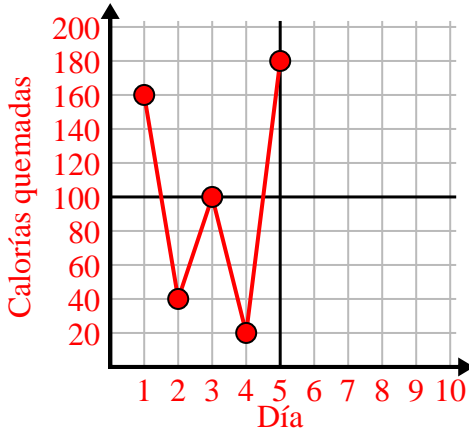




Complete la cuadrícula utilizando la gráfica.

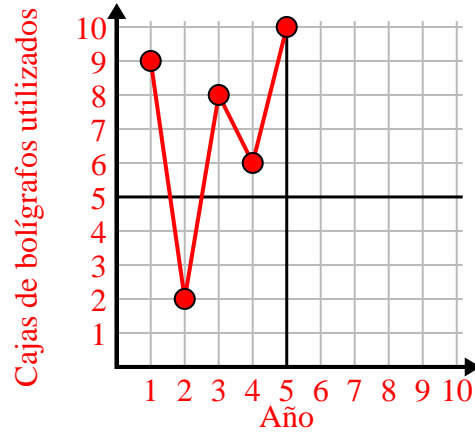
1)

Día	1	2	3	4	5
Calorías quemadas	160	40	100	20	180



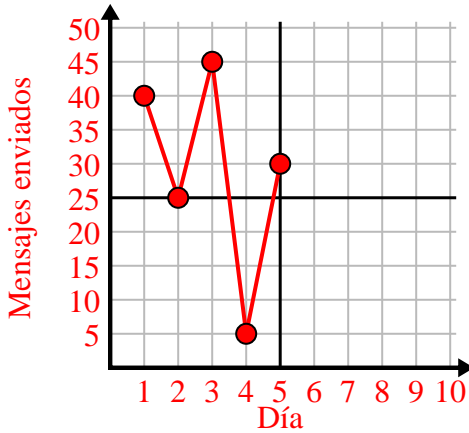
2)

Año	1	2	3	4	5
Cajas de bolígrafos utilizados	9	2	8	6	10



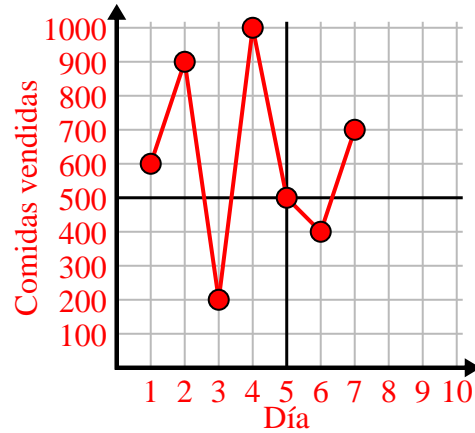
3)

Día	1	2	3	4	5
Mensajes enviados	40	25	45	5	30



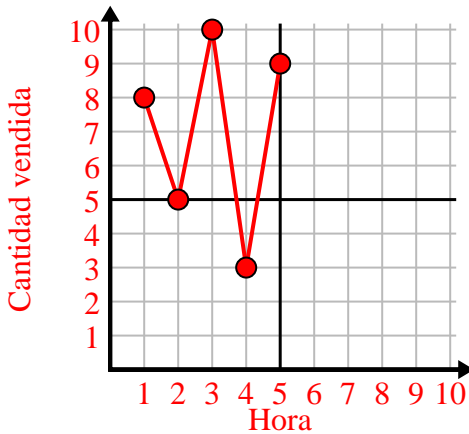
4)

Día	1	2	3	4	5	6	7
Comidas vendidas	600	900	200	1,000	500	400	700



5)

Hora	1	2	3	4	5
Cantidad vendida	8	5	10	3	9



6)

Semana	1	2	3	4	5
Agua usada (galones)	70	80	10	40	100

