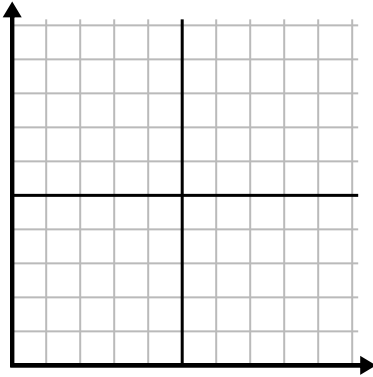




Complete la cuadrícula utilizando la gráfica.

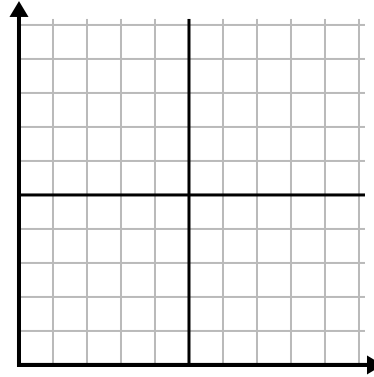
1)

Mes	1	2	3	4	5
Precio de la factura eléctrica	125	25	150	75	50



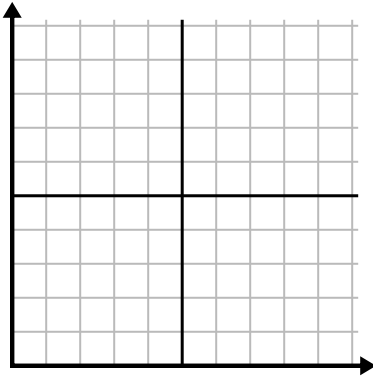
2)

Hora	1	2	3	4	5	6
Cantidad vendida	9	3	5	2	1	4



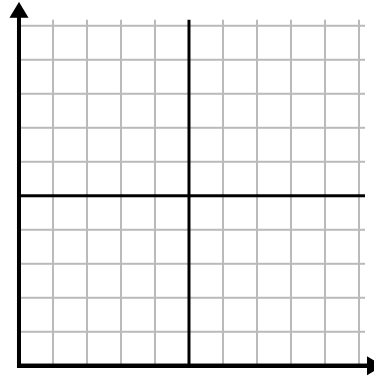
3)

Año	1	2	3	4	5
Cajas de bolígrafos utilizados	4	10	6	7	5



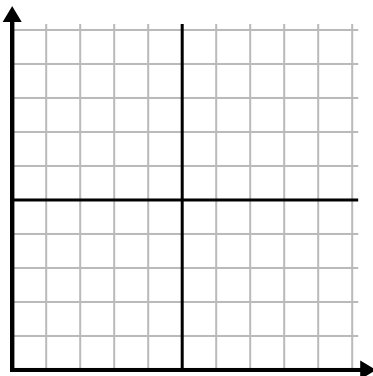
4)

Día	1	2	3	4	5
Dinero gastado	4	2	1	5	7



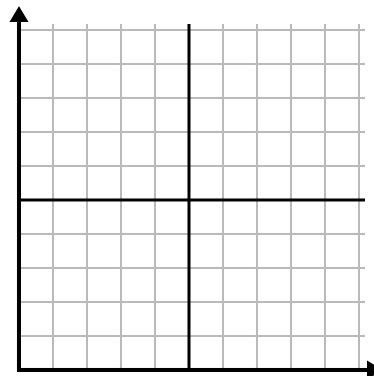
5)

Semana	1	2	3	4	5	6	7
Agua usada (galones)	20	80	30	100	60	10	50



6)

Día	1	2	3	4	5	6	7
Comidas vendidas	500	100	400	600	800	200	700

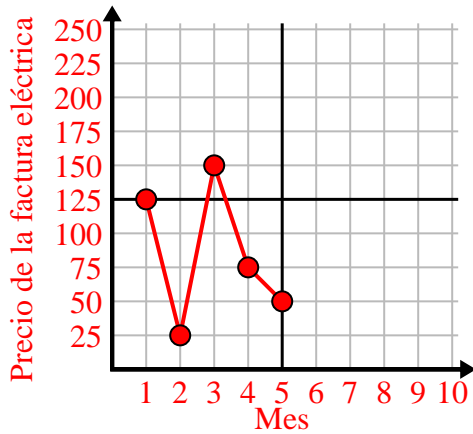




Complete la cuadrícula utilizando la gráfica.

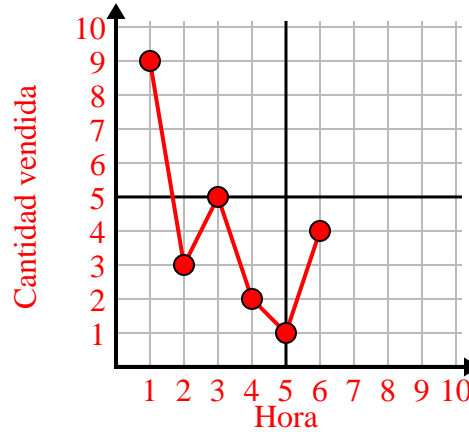
1)

Mes	1	2	3	4	5
Precio de la factura eléctrica	125	25	150	75	50



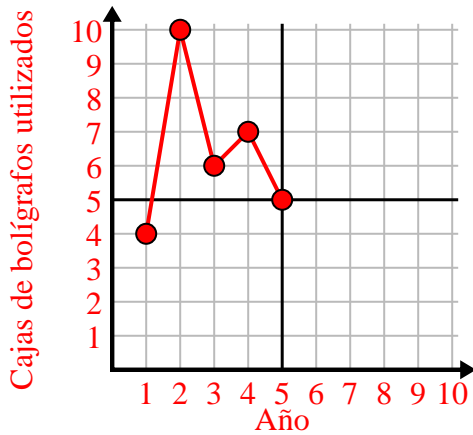
2)

Hora	1	2	3	4	5	6
Cantidad vendida	9	3	5	2	1	4



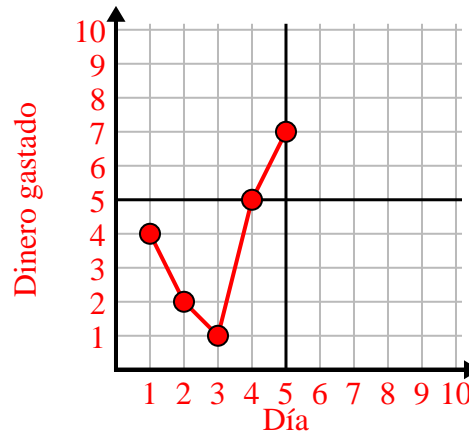
3)

Año	1	2	3	4	5
Cajas de bolígrafos utilizados	4	10	6	7	5



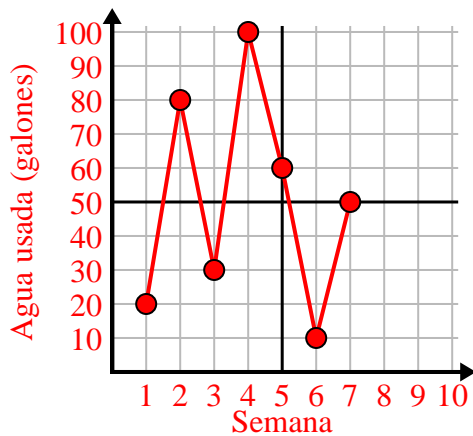
4)

Día	1	2	3	4	5
Dinero gastado	4	2	1	5	7



5)

Semana	1	2	3	4	5	6	7
Agua usada (galones)	20	80	30	100	60	10	50



6)

Día	1	2	3	4	5	6	7
Comidas vendidas	500	100	400	600	800	200	700

