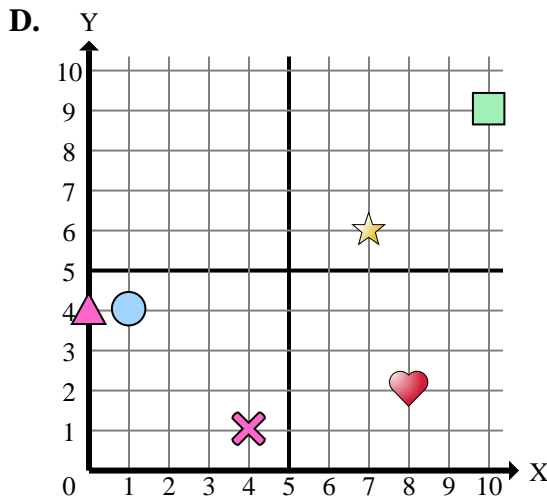
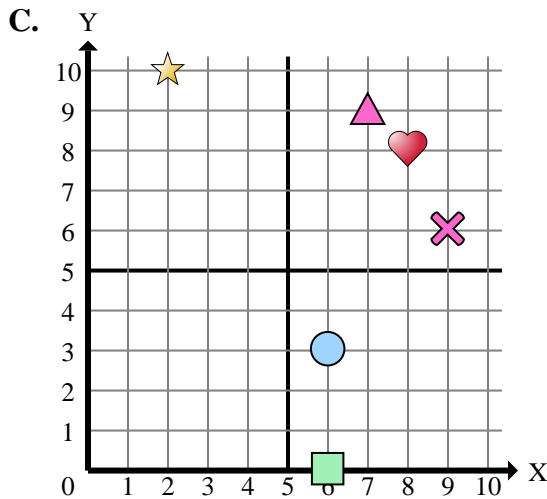
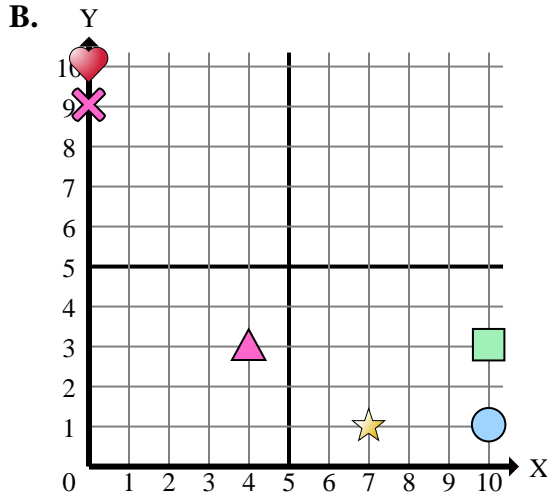
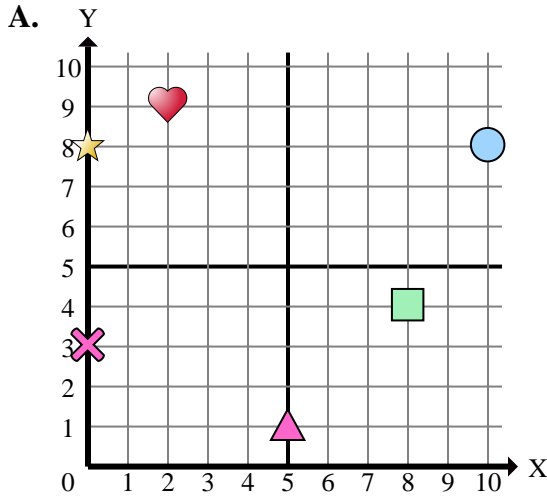




Determinar cuál plano cartesiano corresponde a cada pregunta.



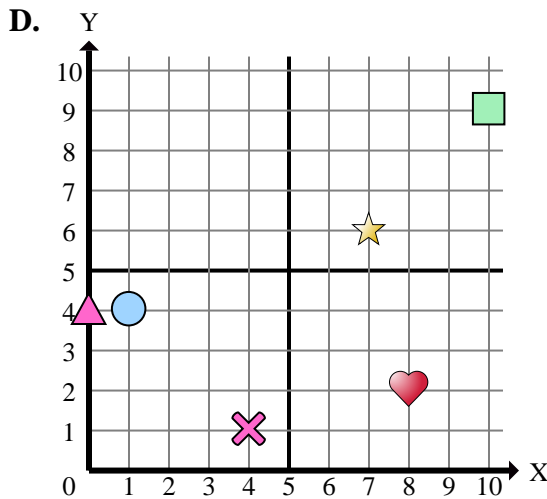
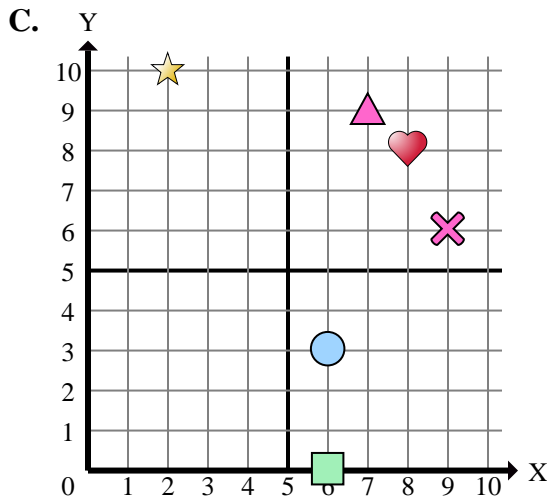
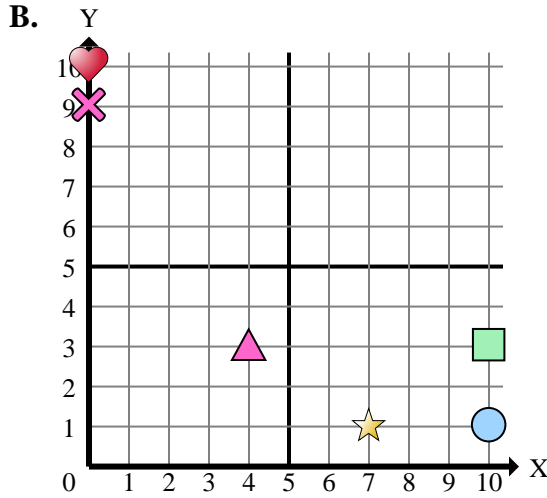
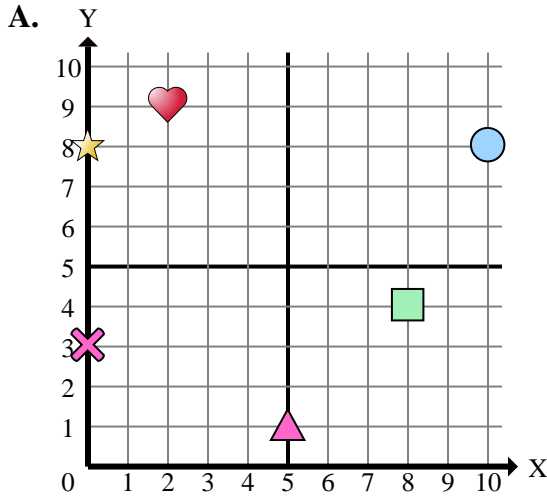
**Respuestas**

1. \_\_\_\_\_
2. \_\_\_\_\_
3. \_\_\_\_\_
4. \_\_\_\_\_
5. \_\_\_\_\_
6. \_\_\_\_\_
7. \_\_\_\_\_
8. \_\_\_\_\_
9. \_\_\_\_\_
10. \_\_\_\_\_
11. \_\_\_\_\_
12. \_\_\_\_\_
13. \_\_\_\_\_
14. \_\_\_\_\_
15. \_\_\_\_\_

- 1) ¿Qué coordenadas del plano tiene una forma en (7 , 6)?
- 2) ¿Qué coordenadas del plano tiene una forma en (8 , 4)?
- 3) ¿Qué coordenadas del plano tiene una forma en (0 , 10)?
- 4) ¿Qué coordenadas del plano tiene una forma en (6 , 3)?
- 5) ¿Qué coordenadas del plano tiene una forma en (2 , 9)?
- 6) ¿Qué coordenadas del plano tiene una forma en (8 , 2)?
- 7) ¿Qué coordenadas del plano tiene una forma en (0 , 4)?
- 8) ¿Qué coordenadas del plano tiene una forma en (1 , 4)?
- 9) ¿Qué coordenadas del plano tiene una forma en (0 , 8)?
- 10) ¿Qué coordenadas del plano tiene una forma en (4 , 3)?
- 11) ¿Qué coordenadas del plano tiene una forma en (0 , 3)?
- 12) ¿Qué coordenadas del plano tiene una forma en (6 , 0)?
- 13) ¿Qué coordenadas del plano tiene una forma en (7 , 1)?
- 14) ¿Qué coordenadas del plano tiene una forma en (2 , 10)?
- 15) ¿Qué coordenadas del plano tiene una forma en (10 , 9)?



Determinar cuál plano cartesiano corresponde a cada pregunta.



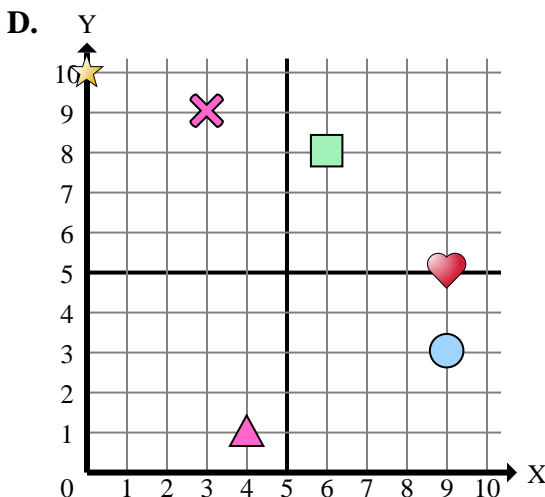
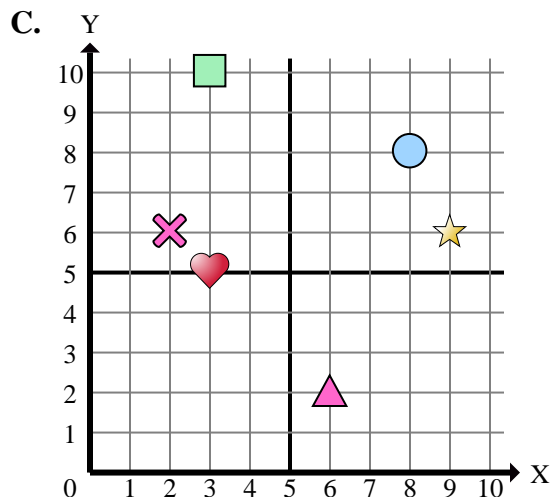
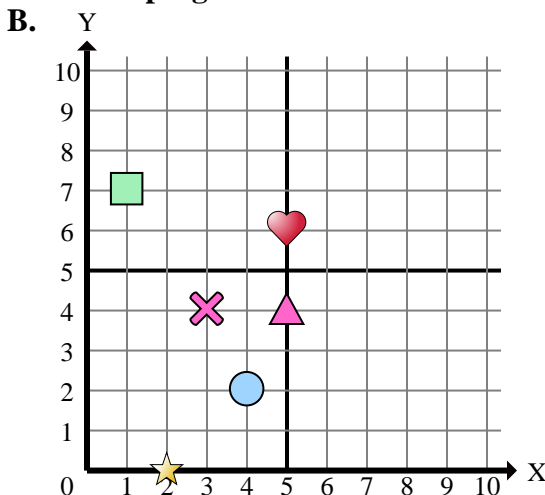
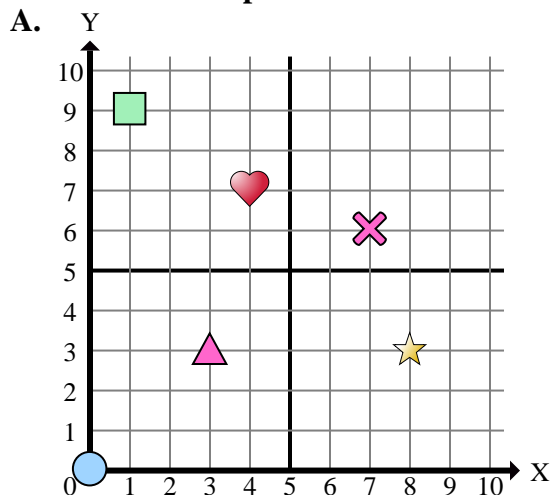
- 1) ¿Qué coordenadas del plano tiene una forma en (7 , 6)?
- 2) ¿Qué coordenadas del plano tiene una forma en (8 , 4)?
- 3) ¿Qué coordenadas del plano tiene una forma en (0 , 10)?
- 4) ¿Qué coordenadas del plano tiene una forma en (6 , 3)?
- 5) ¿Qué coordenadas del plano tiene una forma en (2 , 9)?
- 6) ¿Qué coordenadas del plano tiene una forma en (8 , 2)?
- 7) ¿Qué coordenadas del plano tiene una forma en (0 , 4)?
- 8) ¿Qué coordenadas del plano tiene una forma en (1 , 4)?
- 9) ¿Qué coordenadas del plano tiene una forma en (0 , 8)?
- 10) ¿Qué coordenadas del plano tiene una forma en (4 , 3)?
- 11) ¿Qué coordenadas del plano tiene una forma en (0 , 3)?
- 12) ¿Qué coordenadas del plano tiene una forma en (6 , 0)?
- 13) ¿Qué coordenadas del plano tiene una forma en (7 , 1)?
- 14) ¿Qué coordenadas del plano tiene una forma en (2 , 10)?
- 15) ¿Qué coordenadas del plano tiene una forma en (10 , 9)?

**Respuestas**

1.           **D**
2.           **A**
3.           **B**
4.           **C**
5.           **A**
6.           **D**
7.           **D**
8.           **D**
9.           **A**
10.          **B**
11.           **A**
12.           **C**
13.           **B**
14.           **C**
15.           **D**



Determinar cuál plano cartesiano corresponde a cada pregunta.



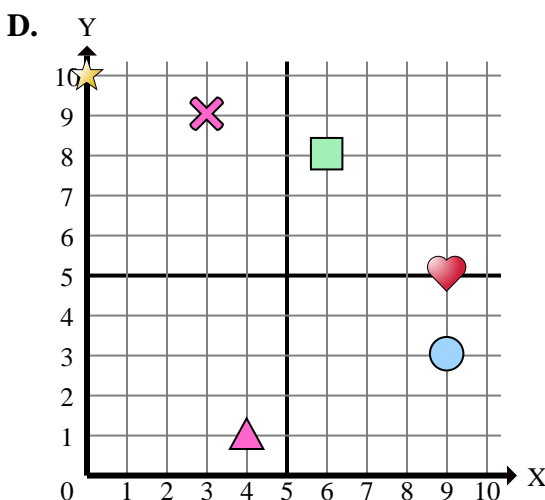
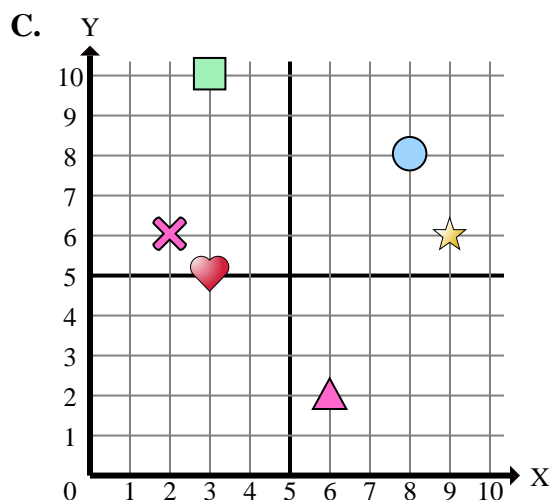
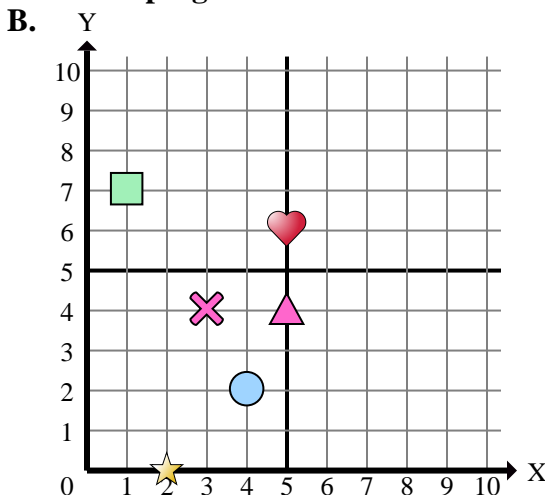
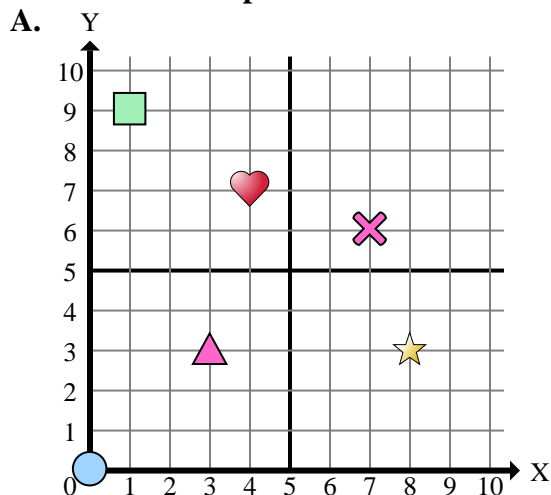
- 1) ¿Qué coordenadas del plano tiene una forma en (5 , 4)?
- 2) ¿Qué coordenadas del plano tiene una forma en (3 , 10)?
- 3) ¿Qué coordenadas del plano tiene una forma en (2 , 0)?
- 4) ¿Qué coordenadas del plano tiene una forma en (8 , 8)?
- 5) ¿Qué coordenadas del plano tiene una forma en (9 , 6)?
- 6) ¿Qué coordenadas del plano tiene una forma en (0 , 10)?
- 7) ¿Qué coordenadas del plano tiene una forma en (3 , 4)?
- 8) ¿Qué coordenadas del plano tiene una forma en (3 , 5)?
- 9) ¿Qué coordenadas del plano tiene una forma en (7 , 6)?
- 10) ¿Qué coordenadas del plano tiene una forma en (4 , 7)?
- 11) ¿Qué coordenadas del plano tiene una forma en (6 , 8)?
- 12) ¿Qué coordenadas del plano tiene una forma en (3 , 3)?
- 13) ¿Qué coordenadas del plano tiene una forma en (4 , 1)?
- 14) ¿Qué coordenadas del plano tiene una forma en (6 , 2)?
- 15) ¿Qué coordenadas del plano tiene una forma en (0 , 0)?

**Respuestas**

1. \_\_\_\_\_
2. \_\_\_\_\_
3. \_\_\_\_\_
4. \_\_\_\_\_
5. \_\_\_\_\_
6. \_\_\_\_\_
7. \_\_\_\_\_
8. \_\_\_\_\_
9. \_\_\_\_\_
10. \_\_\_\_\_
11. \_\_\_\_\_
12. \_\_\_\_\_
13. \_\_\_\_\_
14. \_\_\_\_\_
15. \_\_\_\_\_



Determinar cuál plano cartesiano corresponde a cada pregunta.



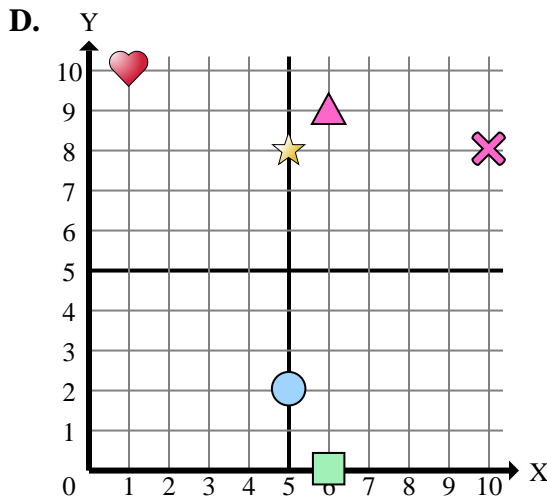
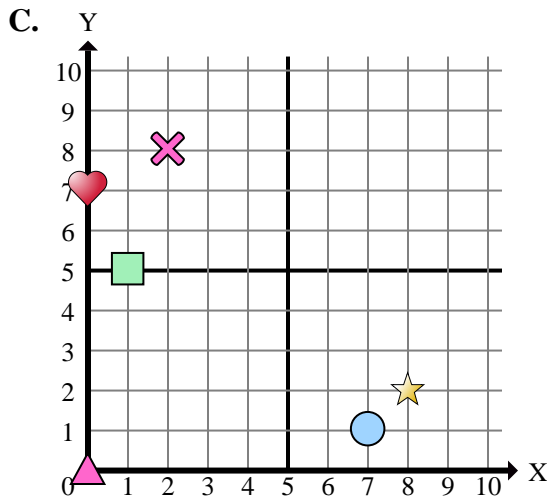
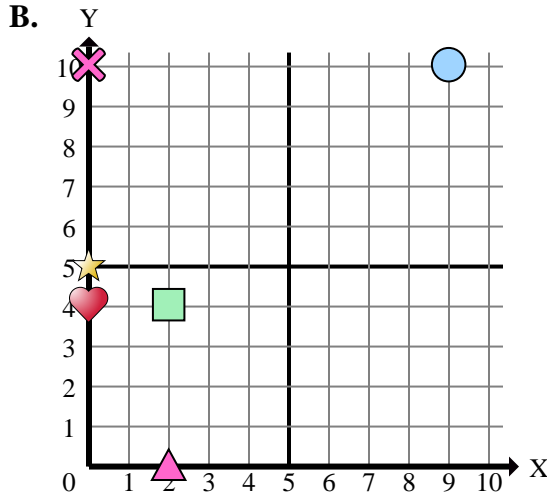
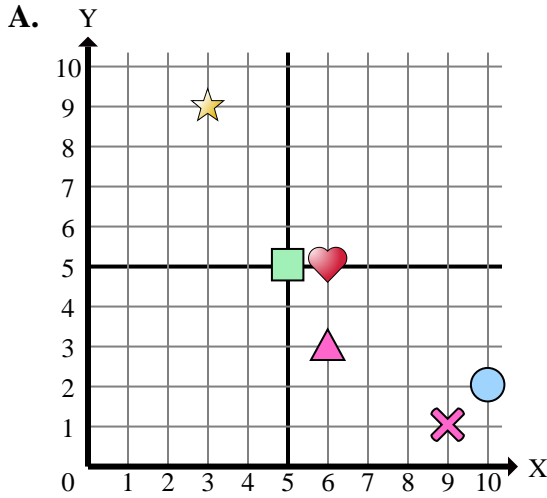
- 1) ¿Qué coordenadas del plano tiene una forma en (5 , 4)?
- 2) ¿Qué coordenadas del plano tiene una forma en (3 , 10)?
- 3) ¿Qué coordenadas del plano tiene una forma en (2 , 0)?
- 4) ¿Qué coordenadas del plano tiene una forma en (8 , 8)?
- 5) ¿Qué coordenadas del plano tiene una forma en (9 , 6)?
- 6) ¿Qué coordenadas del plano tiene una forma en (0 , 10)?
- 7) ¿Qué coordenadas del plano tiene una forma en (3 , 4)?
- 8) ¿Qué coordenadas del plano tiene una forma en (3 , 5)?
- 9) ¿Qué coordenadas del plano tiene una forma en (7 , 6)?
- 10) ¿Qué coordenadas del plano tiene una forma en (4 , 7)?
- 11) ¿Qué coordenadas del plano tiene una forma en (6 , 8)?
- 12) ¿Qué coordenadas del plano tiene una forma en (3 , 3)?
- 13) ¿Qué coordenadas del plano tiene una forma en (4 , 1)?
- 14) ¿Qué coordenadas del plano tiene una forma en (6 , 2)?
- 15) ¿Qué coordenadas del plano tiene una forma en (0 , 0)?

**Respuestas**

1.     **B**
2.     **C**
3.     **B**
4.     **C**
5.     **C**
6.     **D**
7.     **B**
8.     **C**
9.     **A**
10.     **A**
11.     **D**
12.     **A**
13.     **D**
14.     **C**
15.     **A**



Determinar cuál plano cartesiano corresponde a cada pregunta.



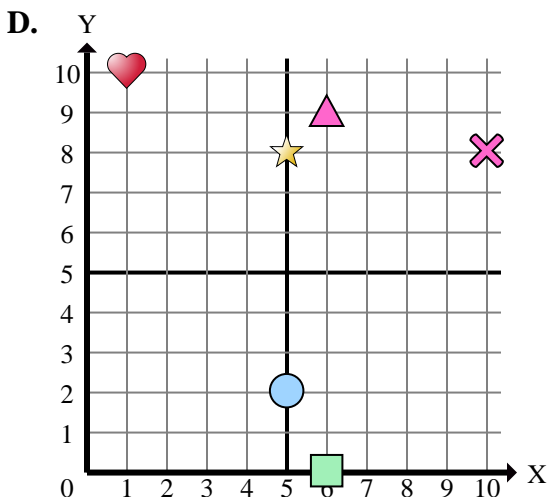
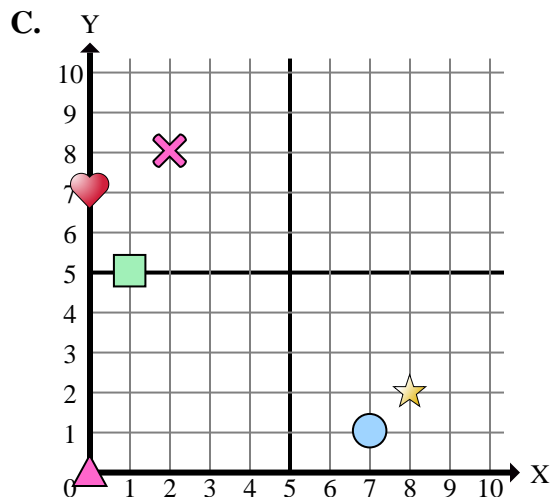
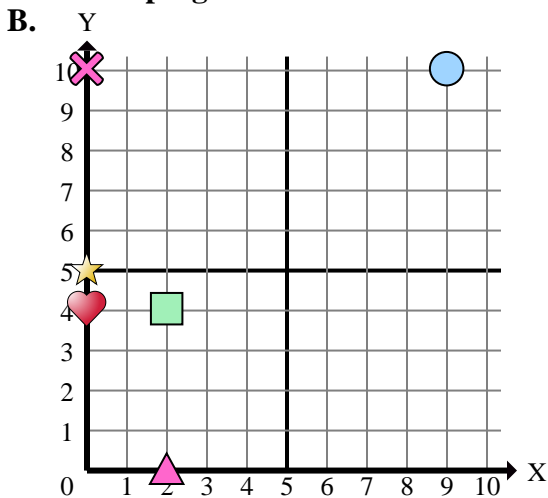
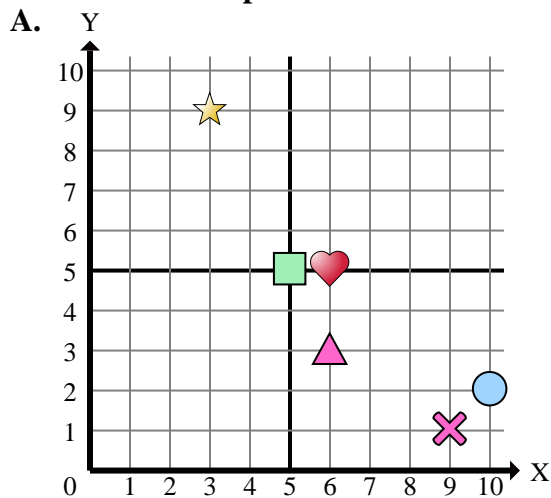
**Respuestas**

1. \_\_\_\_\_
2. \_\_\_\_\_
3. \_\_\_\_\_
4. \_\_\_\_\_
5. \_\_\_\_\_
6. \_\_\_\_\_
7. \_\_\_\_\_
8. \_\_\_\_\_
9. \_\_\_\_\_
10. \_\_\_\_\_
11. \_\_\_\_\_
12. \_\_\_\_\_
13. \_\_\_\_\_
14. \_\_\_\_\_
15. \_\_\_\_\_

- 1) ¿Qué coordenadas del plano tiene una forma en (0 , 5)?
- 2) ¿Qué coordenadas del plano tiene una forma en (2 , 0)?
- 3) ¿Qué coordenadas del plano tiene una forma en (5 , 5)?
- 4) ¿Qué coordenadas del plano tiene una forma en (3 , 9)?
- 5) ¿Qué coordenadas del plano tiene una forma en (0 , 7)?
- 6) ¿Qué coordenadas del plano tiene una forma en (6 , 9)?
- 7) ¿Qué coordenadas del plano tiene una forma en (6 , 5)?
- 8) ¿Qué coordenadas del plano tiene una forma en (8 , 2)?
- 9) ¿Qué coordenadas del plano tiene una forma en (5 , 8)?
- 10) ¿Qué coordenadas del plano tiene una forma en (9 , 10)?
- 11) ¿Qué coordenadas del plano tiene una forma en (0 , 0)?
- 12) ¿Qué coordenadas del plano tiene una forma en (2 , 4)?
- 13) ¿Qué coordenadas del plano tiene una forma en (0 , 10)?
- 14) ¿Qué coordenadas del plano tiene una forma en (6 , 0)?
- 15) ¿Qué coordenadas del plano tiene una forma en (10 , 8)?



Determinar cuál plano cartesiano corresponde a cada pregunta.



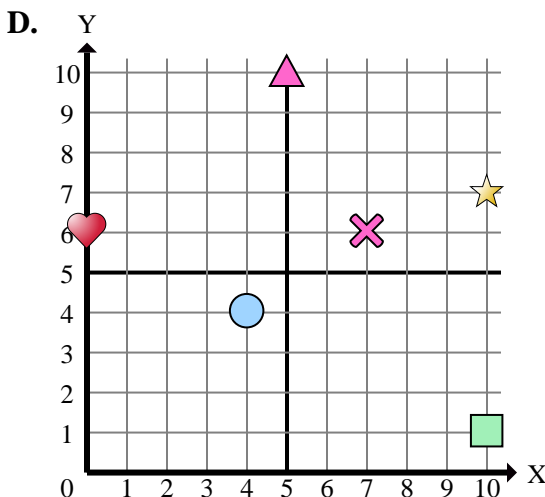
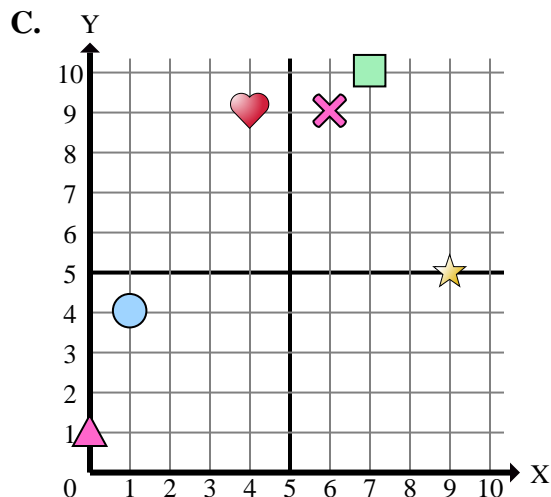
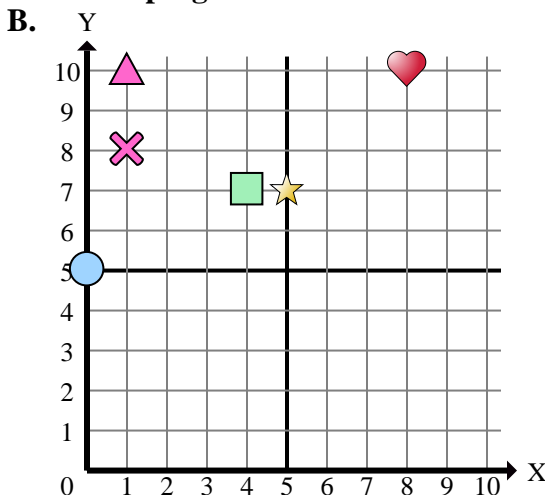
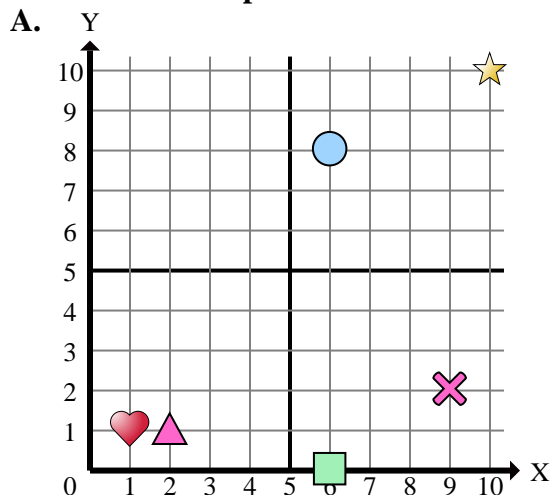
- 1) ¿Qué coordenadas del plano tiene una forma en (0 , 5)?
- 2) ¿Qué coordenadas del plano tiene una forma en (2 , 0)?
- 3) ¿Qué coordenadas del plano tiene una forma en (5 , 5)?
- 4) ¿Qué coordenadas del plano tiene una forma en (3 , 9)?
- 5) ¿Qué coordenadas del plano tiene una forma en (0 , 7)?
- 6) ¿Qué coordenadas del plano tiene una forma en (6 , 9)?
- 7) ¿Qué coordenadas del plano tiene una forma en (6 , 5)?
- 8) ¿Qué coordenadas del plano tiene una forma en (8 , 2)?
- 9) ¿Qué coordenadas del plano tiene una forma en (5 , 8)?
- 10) ¿Qué coordenadas del plano tiene una forma en (9 , 10)?
- 11) ¿Qué coordenadas del plano tiene una forma en (0 , 0)?
- 12) ¿Qué coordenadas del plano tiene una forma en (2 , 4)?
- 13) ¿Qué coordenadas del plano tiene una forma en (0 , 10)?
- 14) ¿Qué coordenadas del plano tiene una forma en (6 , 0)?
- 15) ¿Qué coordenadas del plano tiene una forma en (10 , 8)?

**Respuestas**

1.           **B**
2.           **B**
3.           **A**
4.           **A**
5.           **C**
6.           **D**
7.           **A**
8.           **C**
9.           **D**
10.          **B**
11.           **C**
12.           **B**
13.           **B**
14.           **D**
15.           **D**



Determinar cuál plano cartesiano corresponde a cada pregunta.



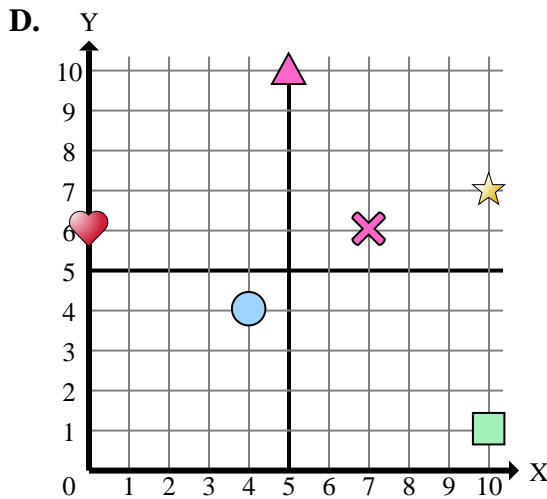
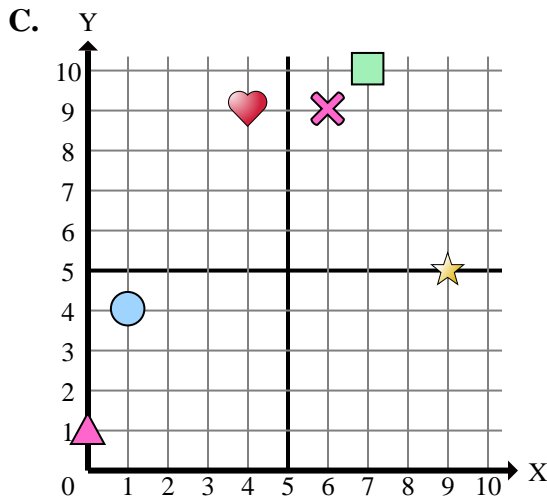
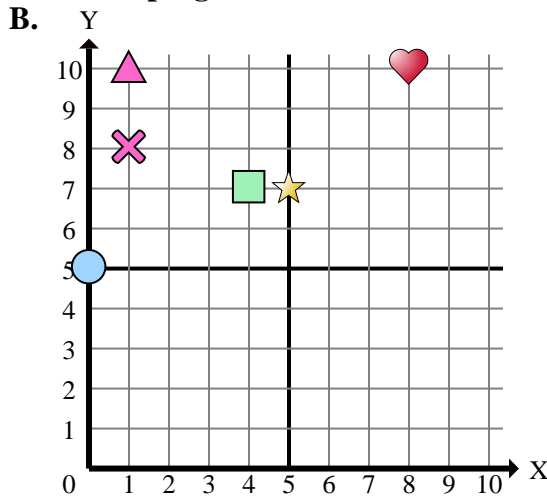
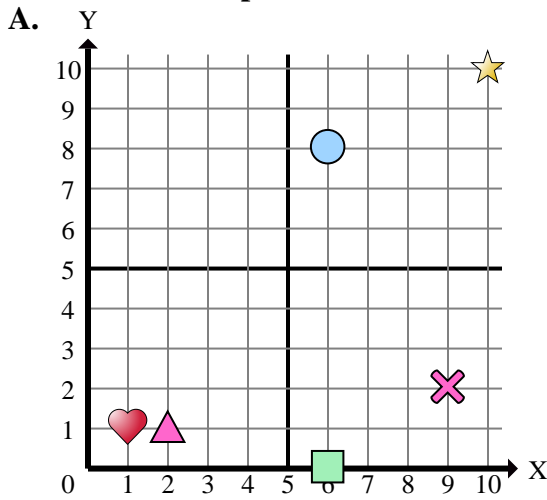
- 1) ¿Qué coordenadas del plano tiene una forma en (6 , 8)?
- 2) ¿Qué coordenadas del plano tiene una forma en (9 , 5)?
- 3) ¿Qué coordenadas del plano tiene una forma en (4 , 4)?
- 4) ¿Qué coordenadas del plano tiene una forma en (1 , 8)?
- 5) ¿Qué coordenadas del plano tiene una forma en (10 , 7)?
- 6) ¿Qué coordenadas del plano tiene una forma en (0 , 5)?
- 7) ¿Qué coordenadas del plano tiene una forma en (0 , 1)?
- 8) ¿Qué coordenadas del plano tiene una forma en (5 , 10)?
- 9) ¿Qué coordenadas del plano tiene una forma en (8 , 10)?
- 10) ¿Qué coordenadas del plano tiene una forma en (2 , 1)?
- 11) ¿Qué coordenadas del plano tiene una forma en (10 , 10)?
- 12) ¿Qué coordenadas del plano tiene una forma en (4 , 7)?
- 13) ¿Qué coordenadas del plano tiene una forma en (1 , 4)?
- 14) ¿Qué coordenadas del plano tiene una forma en (9 , 2)?
- 15) ¿Qué coordenadas del plano tiene una forma en (1 , 10)?

**Respuestas**

1. \_\_\_\_\_
2. \_\_\_\_\_
3. \_\_\_\_\_
4. \_\_\_\_\_
5. \_\_\_\_\_
6. \_\_\_\_\_
7. \_\_\_\_\_
8. \_\_\_\_\_
9. \_\_\_\_\_
10. \_\_\_\_\_
11. \_\_\_\_\_
12. \_\_\_\_\_
13. \_\_\_\_\_
14. \_\_\_\_\_
15. \_\_\_\_\_



Determinar cuál plano cartesiano corresponde a cada pregunta.



- 1) ¿Qué coordenadas del plano tiene una forma en (6 , 8)?
- 2) ¿Qué coordenadas del plano tiene una forma en (9 , 5)?
- 3) ¿Qué coordenadas del plano tiene una forma en (4 , 4)?
- 4) ¿Qué coordenadas del plano tiene una forma en (1 , 8)?
- 5) ¿Qué coordenadas del plano tiene una forma en (10 , 7)?
- 6) ¿Qué coordenadas del plano tiene una forma en (0 , 5)?
- 7) ¿Qué coordenadas del plano tiene una forma en (0 , 1)?
- 8) ¿Qué coordenadas del plano tiene una forma en (5 , 10)?
- 9) ¿Qué coordenadas del plano tiene una forma en (8 , 10)?
- 10) ¿Qué coordenadas del plano tiene una forma en (2 , 1)?
- 11) ¿Qué coordenadas del plano tiene una forma en (10 , 10)?
- 12) ¿Qué coordenadas del plano tiene una forma en (4 , 7)?
- 13) ¿Qué coordenadas del plano tiene una forma en (1 , 4)?
- 14) ¿Qué coordenadas del plano tiene una forma en (9 , 2)?
- 15) ¿Qué coordenadas del plano tiene una forma en (1 , 10)?

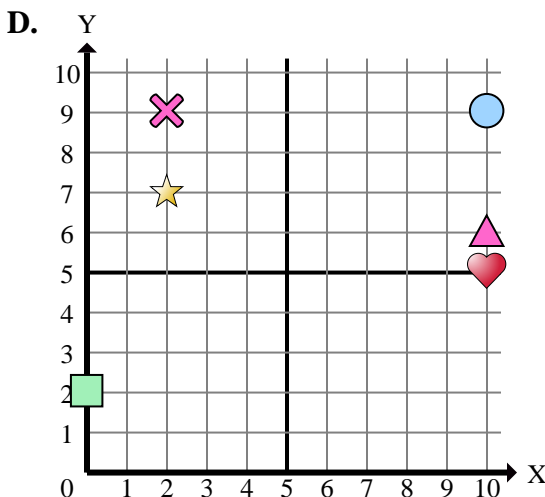
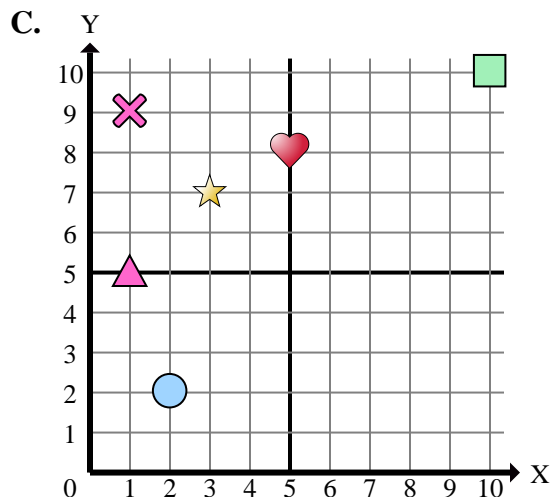
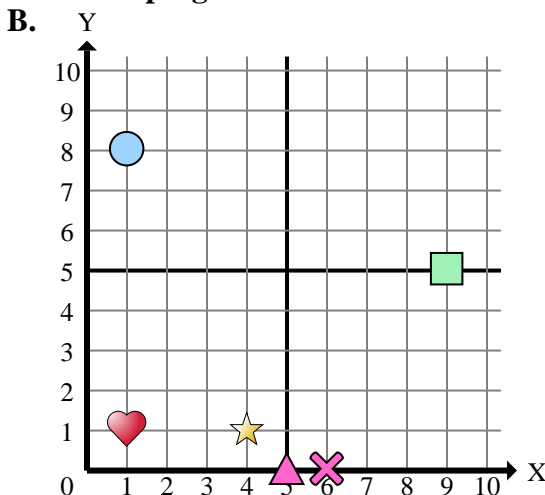
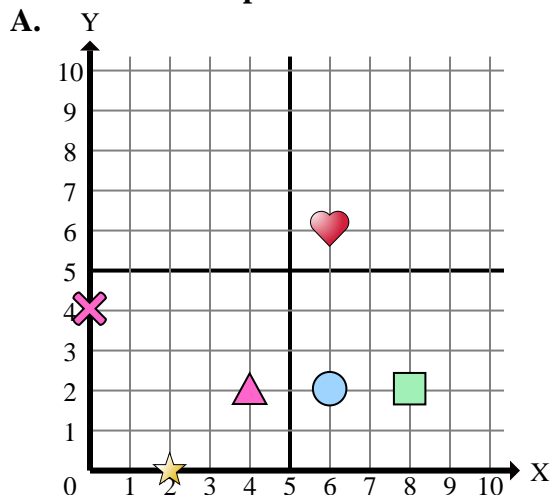
**Respuestas**

1.           **A**
2.           **C**
3.           **D**
4.           **B**
5.           **D**
6.           **B**
7.           **C**
8.           **D**
9.           **B**
10.          **A**
11.          **A**
12.          **B**
13.          **C**
14.          **A**
15.          **B**





Determinar cuál plano cartesiano corresponde a cada pregunta.



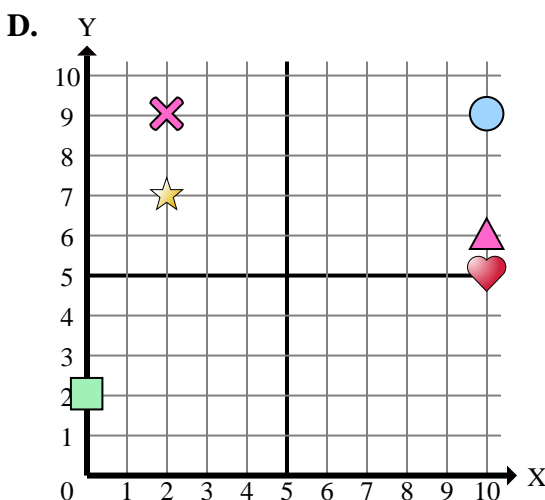
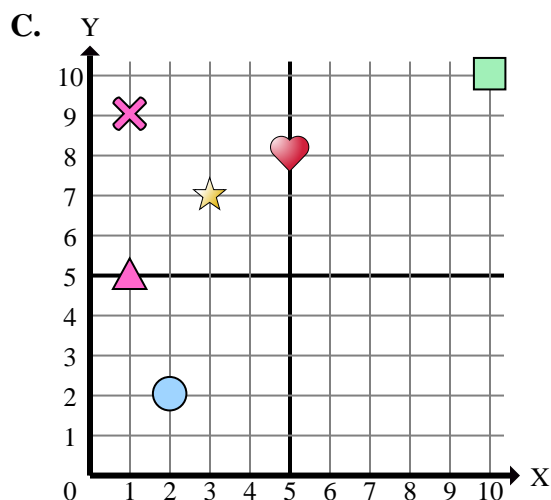
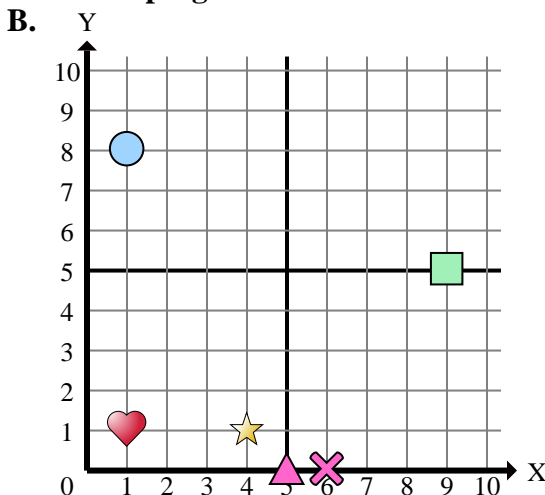
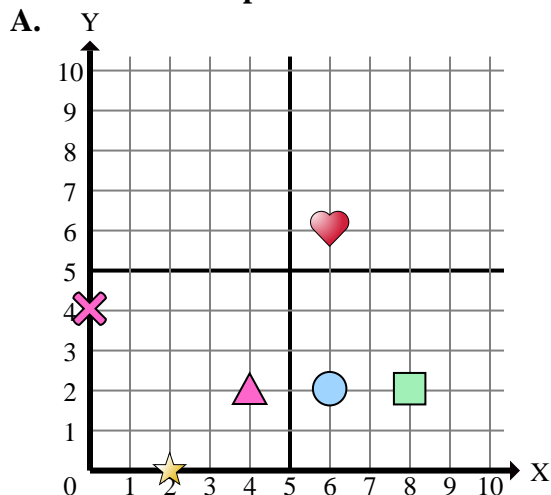
- 1) ¿Qué coordenadas del plano tiene una forma en (1 , 8)?
- 2) ¿Qué coordenadas del plano tiene una forma en (0 , 4)?
- 3) ¿Qué coordenadas del plano tiene una forma en (1 , 1)?
- 4) ¿Qué coordenadas del plano tiene una forma en (6 , 0)?
- 5) ¿Qué coordenadas del plano tiene una forma en (10 , 5)?
- 6) ¿Qué coordenadas del plano tiene una forma en (9 , 5)?
- 7) ¿Qué coordenadas del plano tiene una forma en (2 , 0)?
- 8) ¿Qué coordenadas del plano tiene una forma en (6 , 2)?
- 9) ¿Qué coordenadas del plano tiene una forma en (4 , 2)?
- 10) ¿Qué coordenadas del plano tiene una forma en (10 , 10)?
- 11) ¿Qué coordenadas del plano tiene una forma en (8 , 2)?
- 12) ¿Qué coordenadas del plano tiene una forma en (2 , 7)?
- 13) ¿Qué coordenadas del plano tiene una forma en (1 , 5)?
- 14) ¿Qué coordenadas del plano tiene una forma en (6 , 6)?
- 15) ¿Qué coordenadas del plano tiene una forma en (3 , 7)?

**Respuestas**

1. \_\_\_\_\_
2. \_\_\_\_\_
3. \_\_\_\_\_
4. \_\_\_\_\_
5. \_\_\_\_\_
6. \_\_\_\_\_
7. \_\_\_\_\_
8. \_\_\_\_\_
9. \_\_\_\_\_
10. \_\_\_\_\_
11. \_\_\_\_\_
12. \_\_\_\_\_
13. \_\_\_\_\_
14. \_\_\_\_\_
15. \_\_\_\_\_



Determinar cuál plano cartesiano corresponde a cada pregunta.



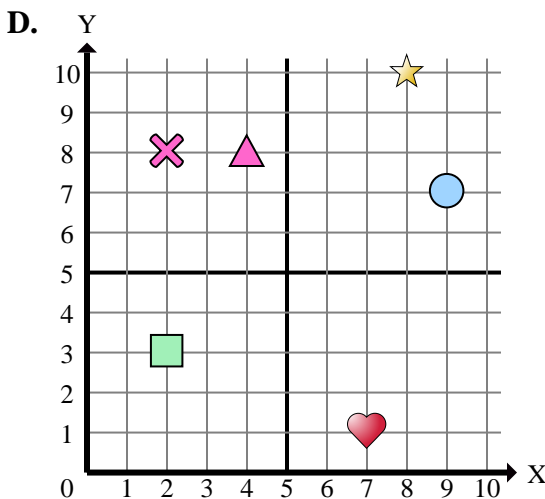
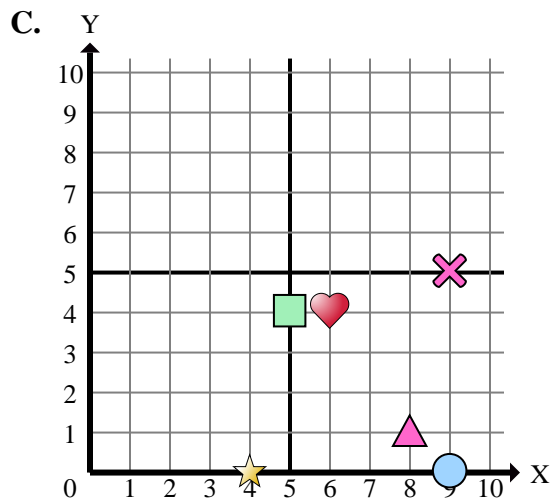
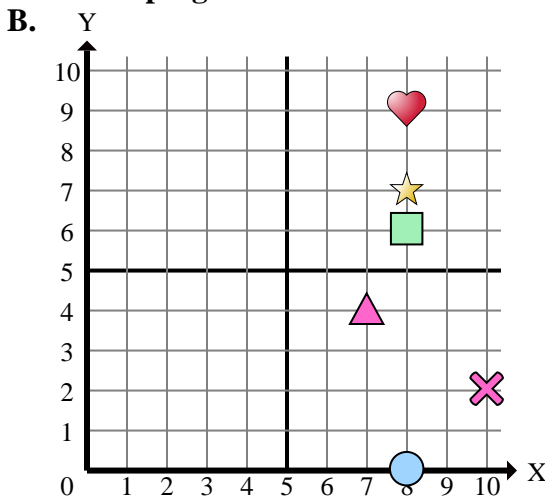
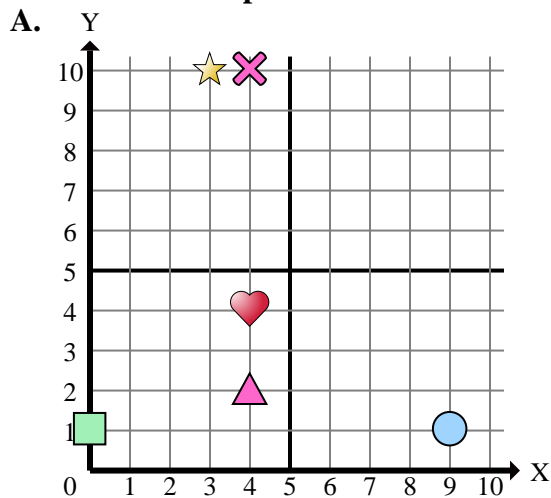
- 1) ¿Qué coordenadas del plano tiene una forma en (1 , 8)?
- 2) ¿Qué coordenadas del plano tiene una forma en (0 , 4)?
- 3) ¿Qué coordenadas del plano tiene una forma en (1 , 1)?
- 4) ¿Qué coordenadas del plano tiene una forma en (6 , 0)?
- 5) ¿Qué coordenadas del plano tiene una forma en (10 , 5)?
- 6) ¿Qué coordenadas del plano tiene una forma en (9 , 5)?
- 7) ¿Qué coordenadas del plano tiene una forma en (2 , 0)?
- 8) ¿Qué coordenadas del plano tiene una forma en (6 , 2)?
- 9) ¿Qué coordenadas del plano tiene una forma en (4 , 2)?
- 10) ¿Qué coordenadas del plano tiene una forma en (10 , 10)?
- 11) ¿Qué coordenadas del plano tiene una forma en (8 , 2)?
- 12) ¿Qué coordenadas del plano tiene una forma en (2 , 7)?
- 13) ¿Qué coordenadas del plano tiene una forma en (1 , 5)?
- 14) ¿Qué coordenadas del plano tiene una forma en (6 , 6)?
- 15) ¿Qué coordenadas del plano tiene una forma en (3 , 7)?

**Respuestas**

1.           **B**
2.           **A**
3.           **B**
4.           **B**
5.           **D**
6.           **B**
7.           **A**
8.           **A**
9.           **A**
10.          **C**
11.           **A**
12.           **D**
13.           **C**
14.           **A**
15.           **C**



Determinar cuál plano cartesiano corresponde a cada pregunta.



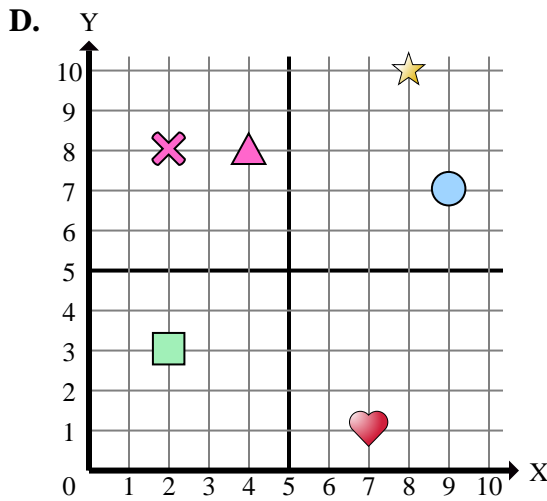
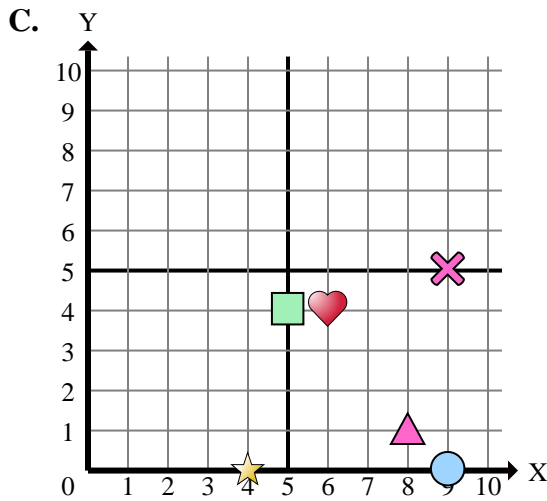
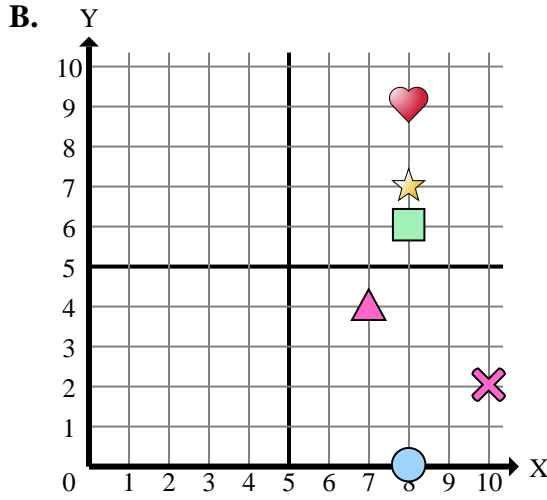
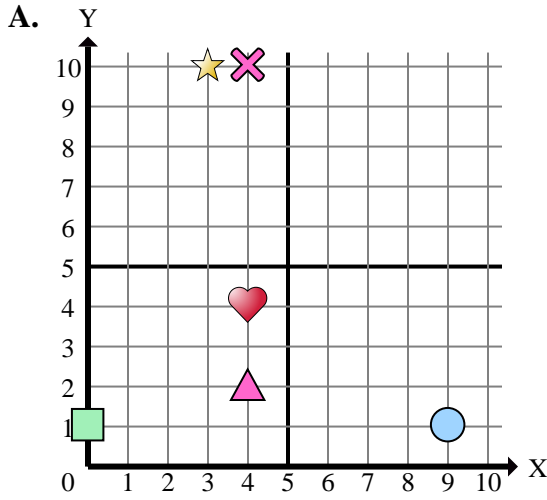
**Respuestas**

1. \_\_\_\_\_
2. \_\_\_\_\_
3. \_\_\_\_\_
4. \_\_\_\_\_
5. \_\_\_\_\_
6. \_\_\_\_\_
7. \_\_\_\_\_
8. \_\_\_\_\_
9. \_\_\_\_\_
10. \_\_\_\_\_
11. \_\_\_\_\_
12. \_\_\_\_\_
13. \_\_\_\_\_
14. \_\_\_\_\_
15. \_\_\_\_\_

- 1) ¿Qué coordenadas del plano tiene una forma en (4 , 0)?
- 2) ¿Qué coordenadas del plano tiene una forma en (3 , 10)?
- 3) ¿Qué coordenadas del plano tiene una forma en (4 , 8)?
- 4) ¿Qué coordenadas del plano tiene una forma en (4 , 4)?
- 5) ¿Qué coordenadas del plano tiene una forma en (10 , 2)?
- 6) ¿Qué coordenadas del plano tiene una forma en (8 , 6)?
- 7) ¿Qué coordenadas del plano tiene una forma en (4 , 2)?
- 8) ¿Qué coordenadas del plano tiene una forma en (4 , 10)?
- 9) ¿Qué coordenadas del plano tiene una forma en (8 , 0)?
- 10) ¿Qué coordenadas del plano tiene una forma en (8 , 1)?
- 11) ¿Qué coordenadas del plano tiene una forma en (2 , 3)?
- 12) ¿Qué coordenadas del plano tiene una forma en (8 , 10)?
- 13) ¿Qué coordenadas del plano tiene una forma en (6 , 4)?
- 14) ¿Qué coordenadas del plano tiene una forma en (9 , 0)?
- 15) ¿Qué coordenadas del plano tiene una forma en (9 , 7)?



Determinar cuál plano cartesiano corresponde a cada pregunta.



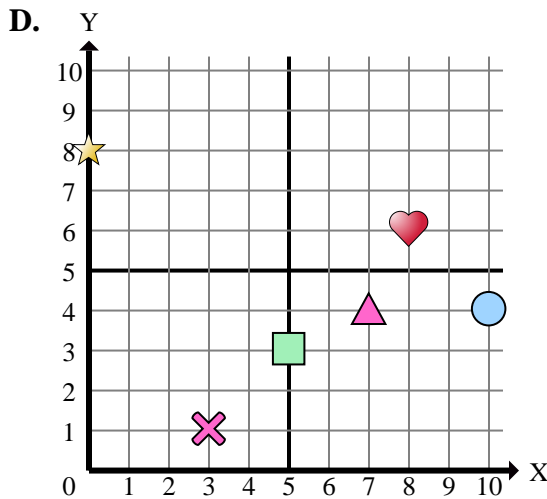
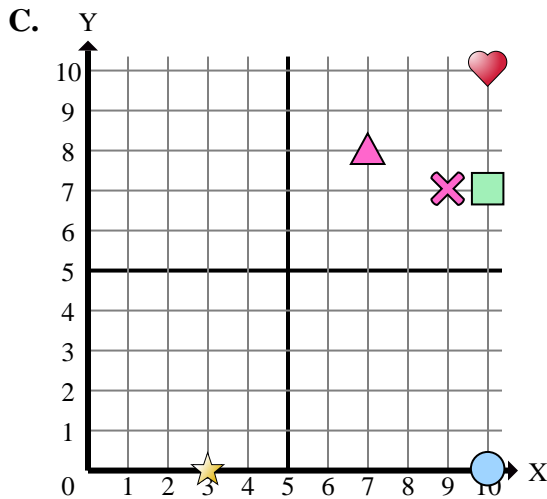
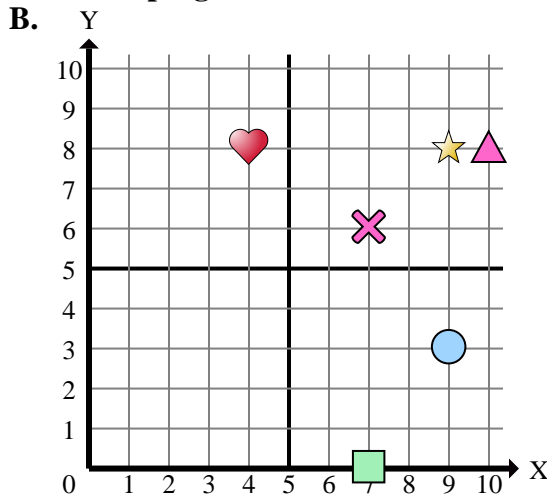
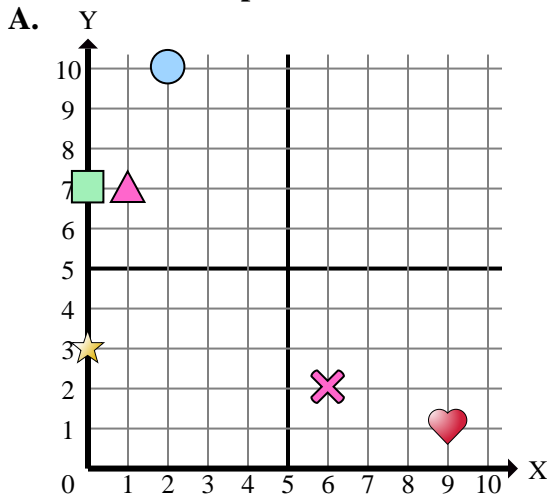
- 1) ¿Qué coordenadas del plano tiene una forma en (4 , 0)?
- 2) ¿Qué coordenadas del plano tiene una forma en (3 , 10)?
- 3) ¿Qué coordenadas del plano tiene una forma en (4 , 8)?
- 4) ¿Qué coordenadas del plano tiene una forma en (4 , 4)?
- 5) ¿Qué coordenadas del plano tiene una forma en (10 , 2)?
- 6) ¿Qué coordenadas del plano tiene una forma en (8 , 6)?
- 7) ¿Qué coordenadas del plano tiene una forma en (4 , 2)?
- 8) ¿Qué coordenadas del plano tiene una forma en (4 , 10)?
- 9) ¿Qué coordenadas del plano tiene una forma en (8 , 0)?
- 10) ¿Qué coordenadas del plano tiene una forma en (8 , 1)?
- 11) ¿Qué coordenadas del plano tiene una forma en (2 , 3)?
- 12) ¿Qué coordenadas del plano tiene una forma en (8 , 10)?
- 13) ¿Qué coordenadas del plano tiene una forma en (6 , 4)?
- 14) ¿Qué coordenadas del plano tiene una forma en (9 , 0)?
- 15) ¿Qué coordenadas del plano tiene una forma en (9 , 7)?

**Respuestas**

1.           **C**
2.           **A**
3.           **D**
4.           **A**
5.           **B**
6.           **B**
7.           **A**
8.           **A**
9.           **B**
10.          **C**
11.          **D**
12.          **D**
13.          **C**
14.          **C**
15.          **D**



Determinar cuál plano cartesiano corresponde a cada pregunta.



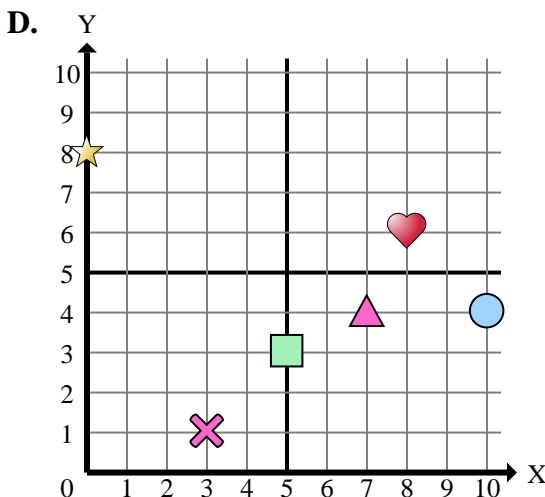
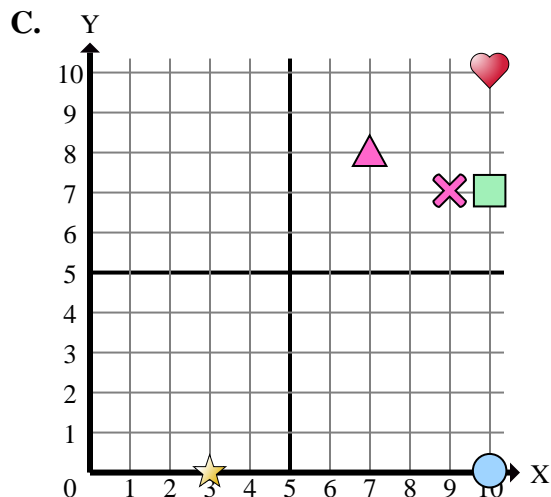
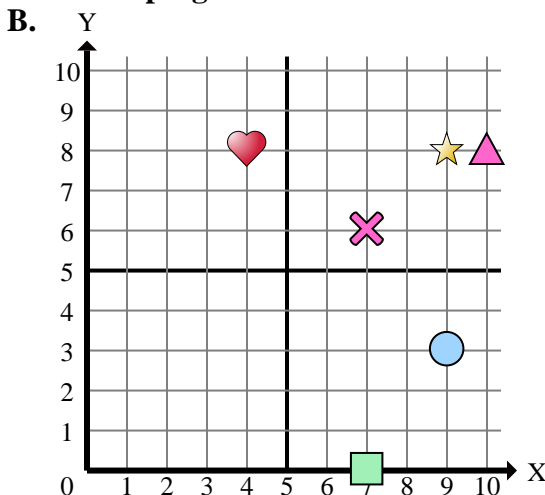
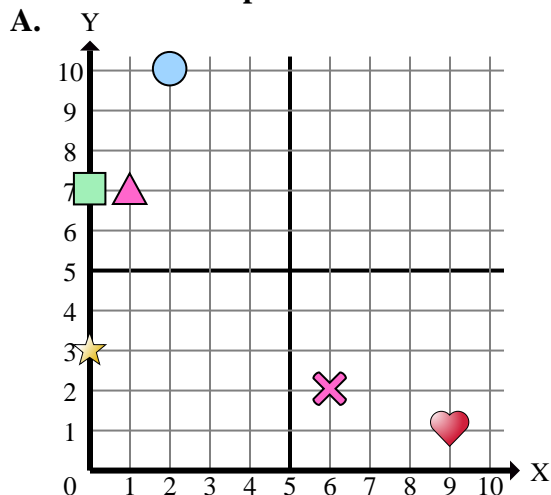
- 1) ¿Qué coordenadas del plano tiene una forma en (9 , 8)?
- 2) ¿Qué coordenadas del plano tiene una forma en (0 , 7)?
- 3) ¿Qué coordenadas del plano tiene una forma en (3 , 0)?
- 4) ¿Qué coordenadas del plano tiene una forma en (2 , 10)?
- 5) ¿Qué coordenadas del plano tiene una forma en (9 , 3)?
- 6) ¿Qué coordenadas del plano tiene una forma en (6 , 2)?
- 7) ¿Qué coordenadas del plano tiene una forma en (10 , 0)?
- 8) ¿Qué coordenadas del plano tiene una forma en (0 , 8)?
- 9) ¿Qué coordenadas del plano tiene una forma en (10 , 10)?
- 10) ¿Qué coordenadas del plano tiene una forma en (1 , 7)?
- 11) ¿Qué coordenadas del plano tiene una forma en (10 , 8)?
- 12) ¿Qué coordenadas del plano tiene una forma en (10 , 7)?
- 13) ¿Qué coordenadas del plano tiene una forma en (0 , 3)?
- 14) ¿Qué coordenadas del plano tiene una forma en (7 , 0)?
- 15) ¿Qué coordenadas del plano tiene una forma en (4 , 8)?

**Respuestas**

1. \_\_\_\_\_
2. \_\_\_\_\_
3. \_\_\_\_\_
4. \_\_\_\_\_
5. \_\_\_\_\_
6. \_\_\_\_\_
7. \_\_\_\_\_
8. \_\_\_\_\_
9. \_\_\_\_\_
10. \_\_\_\_\_
11. \_\_\_\_\_
12. \_\_\_\_\_
13. \_\_\_\_\_
14. \_\_\_\_\_
15. \_\_\_\_\_



Determinar cuál plano cartesiano corresponde a cada pregunta.



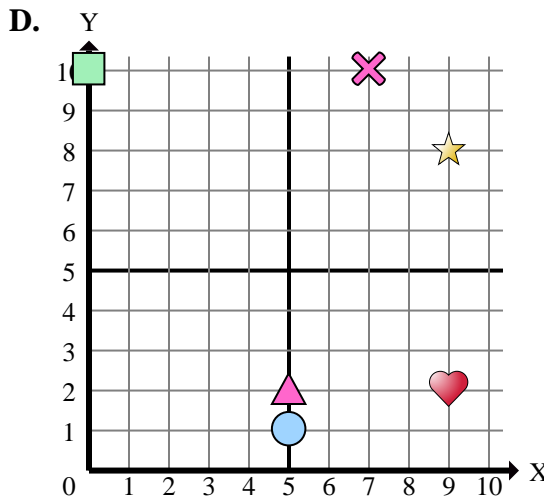
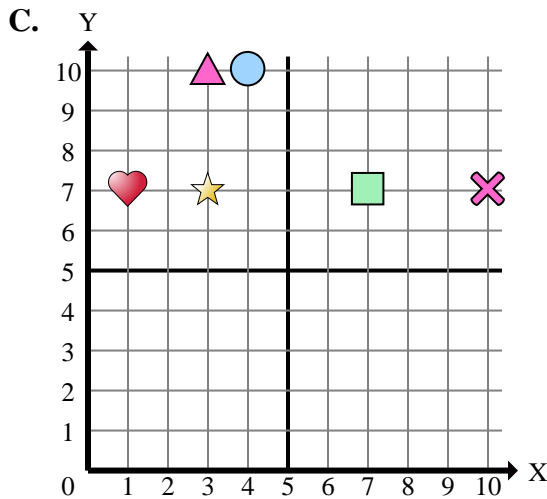
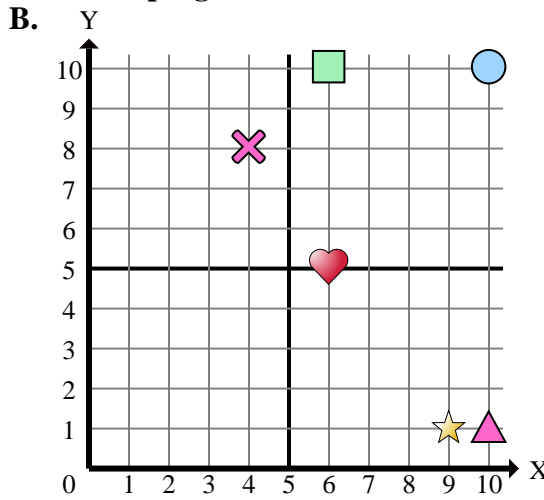
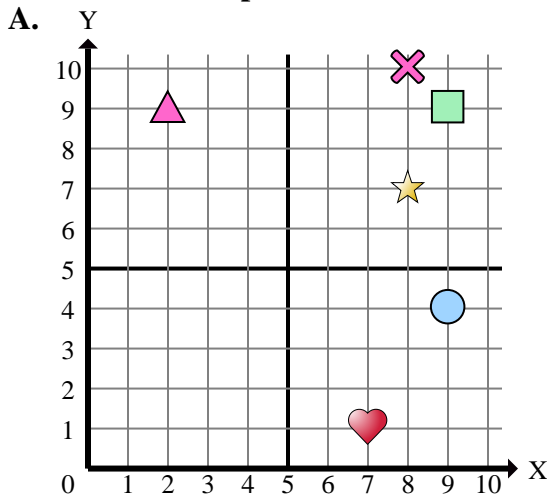
- 1) ¿Qué coordenadas del plano tiene una forma en (9 , 8)?
- 2) ¿Qué coordenadas del plano tiene una forma en (0 , 7)?
- 3) ¿Qué coordenadas del plano tiene una forma en (3 , 0)?
- 4) ¿Qué coordenadas del plano tiene una forma en (2 , 10)?
- 5) ¿Qué coordenadas del plano tiene una forma en (9 , 3)?
- 6) ¿Qué coordenadas del plano tiene una forma en (6 , 2)?
- 7) ¿Qué coordenadas del plano tiene una forma en (10 , 0)?
- 8) ¿Qué coordenadas del plano tiene una forma en (0 , 8)?
- 9) ¿Qué coordenadas del plano tiene una forma en (10 , 10)?
- 10) ¿Qué coordenadas del plano tiene una forma en (1 , 7)?
- 11) ¿Qué coordenadas del plano tiene una forma en (10 , 8)?
- 12) ¿Qué coordenadas del plano tiene una forma en (10 , 7)?
- 13) ¿Qué coordenadas del plano tiene una forma en (0 , 3)?
- 14) ¿Qué coordenadas del plano tiene una forma en (7 , 0)?
- 15) ¿Qué coordenadas del plano tiene una forma en (4 , 8)?

**Respuestas**

1.     **B**
2.     **A**
3.     **C**
4.     **A**
5.     **B**
6.     **A**
7.     **C**
8.     **D**
9.     **C**
10.     **A**
11.     **B**
12.     **C**
13.     **A**
14.     **B**
15.     **B**



Determinar cuál plano cartesiano corresponde a cada pregunta.



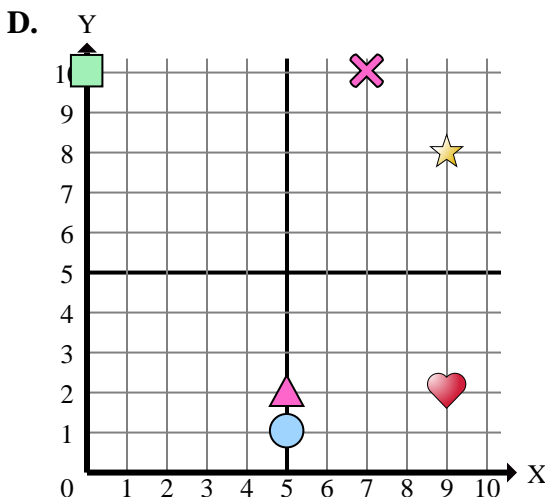
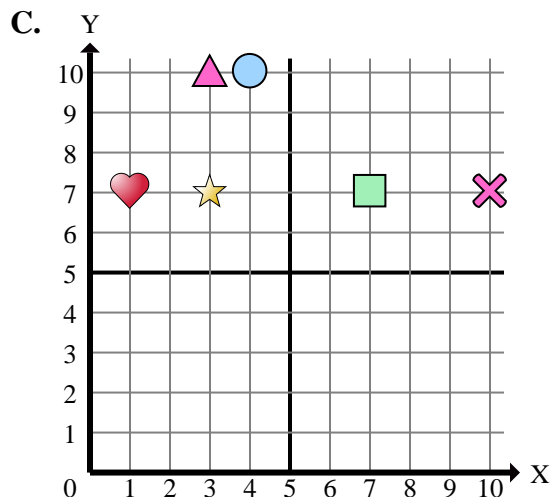
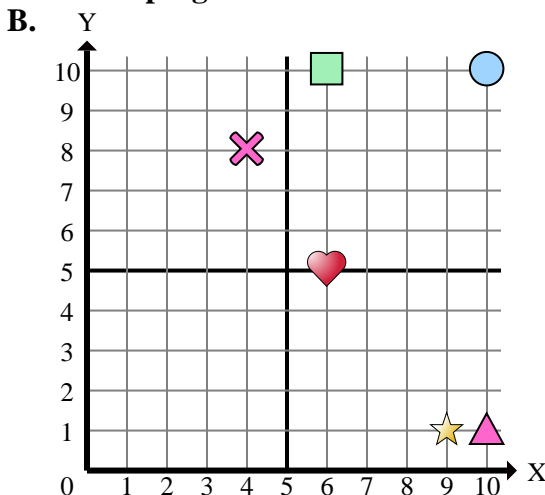
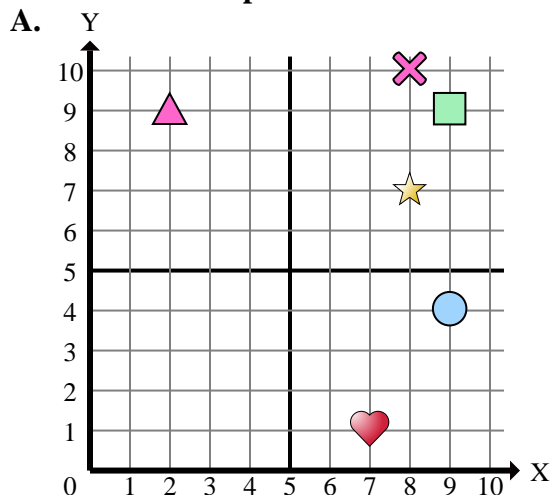
- 1) ¿Qué coordenadas del plano tiene una forma en (9 , 2)?
- 2) ¿Qué coordenadas del plano tiene una forma en (10 , 7)?
- 3) ¿Qué coordenadas del plano tiene una forma en (7 , 7)?
- 4) ¿Qué coordenadas del plano tiene una forma en (9 , 4)?
- 5) ¿Qué coordenadas del plano tiene una forma en (6 , 10)?
- 6) ¿Qué coordenadas del plano tiene una forma en (2 , 9)?
- 7) ¿Qué coordenadas del plano tiene una forma en (3 , 7)?
- 8) ¿Qué coordenadas del plano tiene una forma en (7 , 10)?
- 9) ¿Qué coordenadas del plano tiene una forma en (9 , 9)?
- 10) ¿Qué coordenadas del plano tiene una forma en (6 , 5)?
- 11) ¿Qué coordenadas del plano tiene una forma en (5 , 2)?
- 12) ¿Qué coordenadas del plano tiene una forma en (8 , 10)?
- 13) ¿Qué coordenadas del plano tiene una forma en (10 , 1)?
- 14) ¿Qué coordenadas del plano tiene una forma en (5 , 1)?
- 15) ¿Qué coordenadas del plano tiene una forma en (0 , 10)?

**Respuestas**

1. \_\_\_\_\_
2. \_\_\_\_\_
3. \_\_\_\_\_
4. \_\_\_\_\_
5. \_\_\_\_\_
6. \_\_\_\_\_
7. \_\_\_\_\_
8. \_\_\_\_\_
9. \_\_\_\_\_
10. \_\_\_\_\_
11. \_\_\_\_\_
12. \_\_\_\_\_
13. \_\_\_\_\_
14. \_\_\_\_\_
15. \_\_\_\_\_



Determinar cuál plano cartesiano corresponde a cada pregunta.



- 1) ¿Qué coordenadas del plano tiene una forma en (9 , 2)?
- 2) ¿Qué coordenadas del plano tiene una forma en (10 , 7)?
- 3) ¿Qué coordenadas del plano tiene una forma en (7 , 7)?
- 4) ¿Qué coordenadas del plano tiene una forma en (9 , 4)?
- 5) ¿Qué coordenadas del plano tiene una forma en (6 , 10)?
- 6) ¿Qué coordenadas del plano tiene una forma en (2 , 9)?
- 7) ¿Qué coordenadas del plano tiene una forma en (3 , 7)?
- 8) ¿Qué coordenadas del plano tiene una forma en (7 , 10)?
- 9) ¿Qué coordenadas del plano tiene una forma en (9 , 9)?
- 10) ¿Qué coordenadas del plano tiene una forma en (6 , 5)?
- 11) ¿Qué coordenadas del plano tiene una forma en (5 , 2)?
- 12) ¿Qué coordenadas del plano tiene una forma en (8 , 10)?
- 13) ¿Qué coordenadas del plano tiene una forma en (10 , 1)?
- 14) ¿Qué coordenadas del plano tiene una forma en (5 , 1)?
- 15) ¿Qué coordenadas del plano tiene una forma en (0 , 10)?

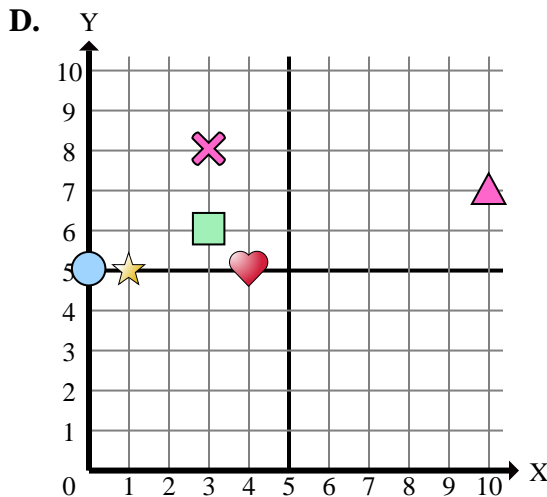
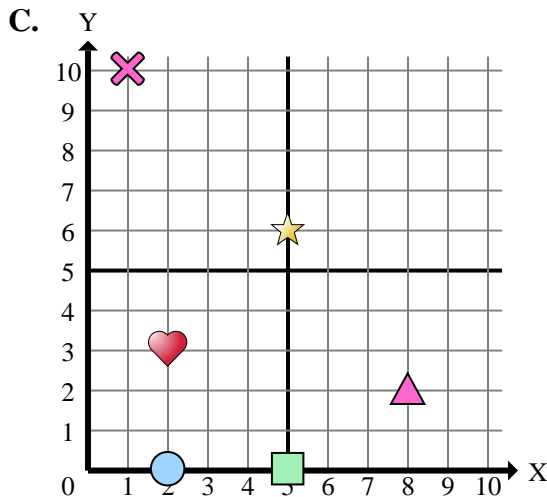
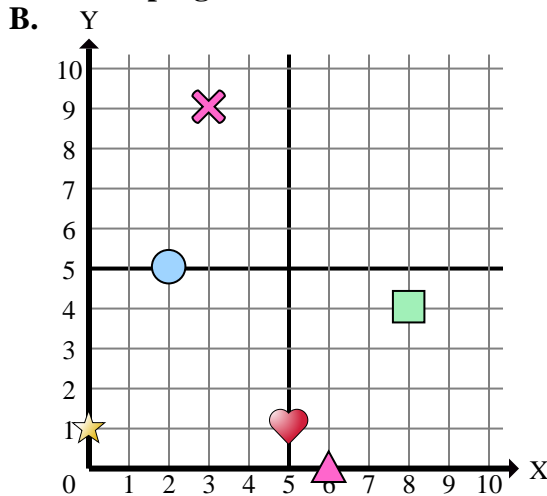
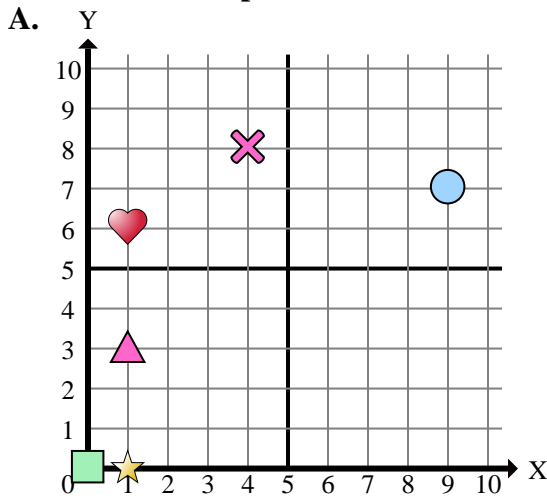
**Respuestas**

1.           **D**
2.           **C**
3.           **C**
4.           **A**
5.           **B**
6.           **A**
7.           **C**
8.           **D**
9.           **A**
10.          **B**
11.           **D**
12.           **A**
13.           **B**
14.           **D**
15.           **D**





Determinar cuál plano cartesiano corresponde a cada pregunta.



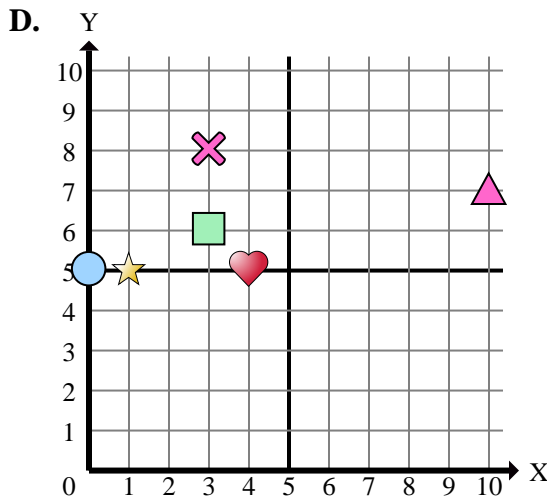
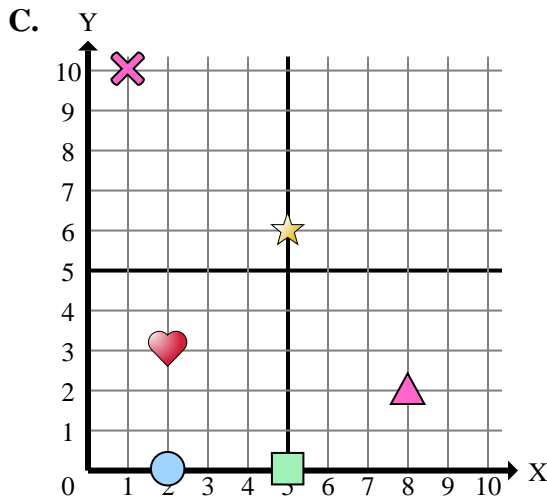
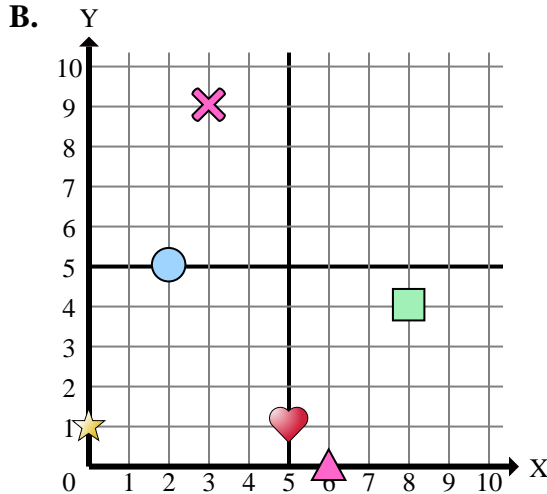
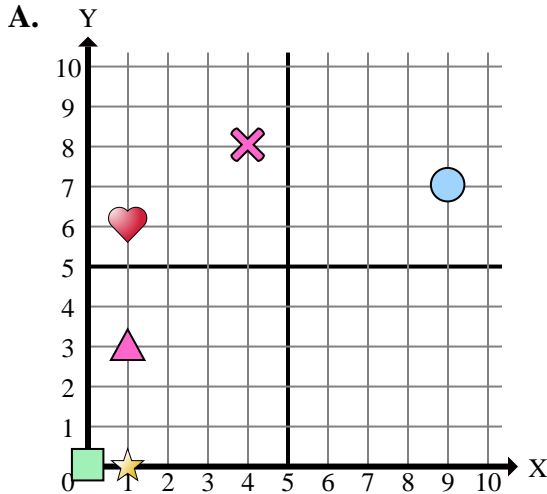
**Respuestas**

1. \_\_\_\_\_
2. \_\_\_\_\_
3. \_\_\_\_\_
4. \_\_\_\_\_
5. \_\_\_\_\_
6. \_\_\_\_\_
7. \_\_\_\_\_
8. \_\_\_\_\_
9. \_\_\_\_\_
10. \_\_\_\_\_
11. \_\_\_\_\_
12. \_\_\_\_\_
13. \_\_\_\_\_
14. \_\_\_\_\_
15. \_\_\_\_\_

- 1) ¿Qué coordenadas del plano tiene una forma en (0 , 1)?
- 2) ¿Qué coordenadas del plano tiene una forma en (3 , 9)?
- 3) ¿Qué coordenadas del plano tiene una forma en (8 , 4)?
- 4) ¿Qué coordenadas del plano tiene una forma en (8 , 2)?
- 5) ¿Qué coordenadas del plano tiene una forma en (10 , 7)?
- 6) ¿Qué coordenadas del plano tiene una forma en (4 , 5)?
- 7) ¿Qué coordenadas del plano tiene una forma en (1 , 0)?
- 8) ¿Qué coordenadas del plano tiene una forma en (5 , 1)?
- 9) ¿Qué coordenadas del plano tiene una forma en (4 , 8)?
- 10) ¿Qué coordenadas del plano tiene una forma en (3 , 6)?
- 11) ¿Qué coordenadas del plano tiene una forma en (9 , 7)?
- 12) ¿Qué coordenadas del plano tiene una forma en (2 , 3)?
- 13) ¿Qué coordenadas del plano tiene una forma en (1 , 6)?
- 14) ¿Qué coordenadas del plano tiene una forma en (2 , 0)?
- 15) ¿Qué coordenadas del plano tiene una forma en (0 , 0)?



Determinar cuál plano cartesiano corresponde a cada pregunta.



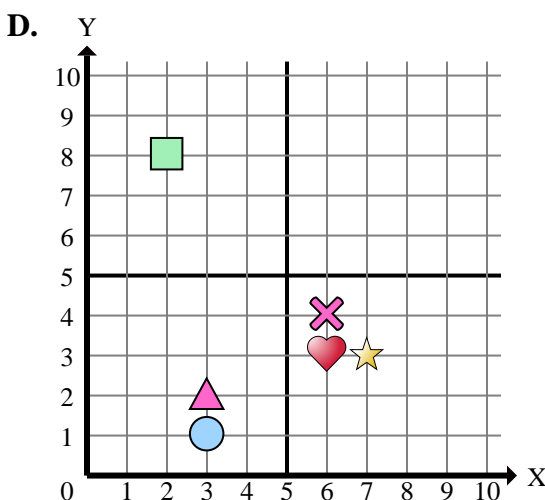
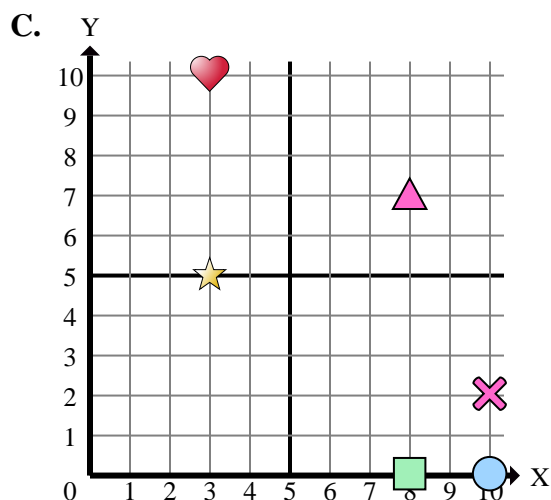
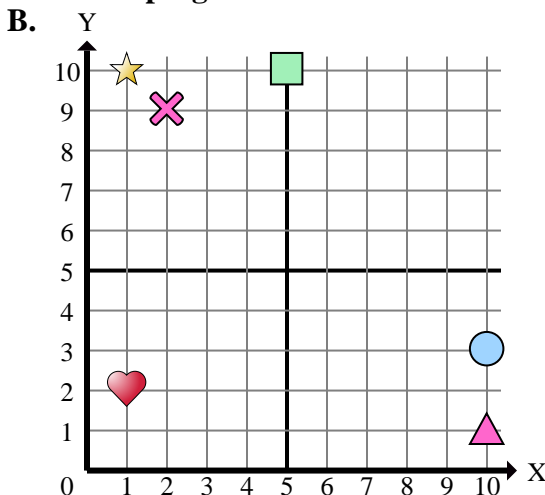
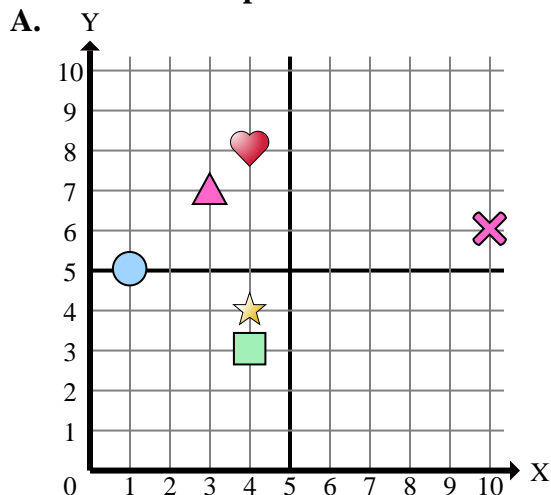
- 1) ¿Qué coordenadas del plano tiene una forma en (0 , 1)?
- 2) ¿Qué coordenadas del plano tiene una forma en (3 , 9)?
- 3) ¿Qué coordenadas del plano tiene una forma en (8 , 4)?
- 4) ¿Qué coordenadas del plano tiene una forma en (8 , 2)?
- 5) ¿Qué coordenadas del plano tiene una forma en (10 , 7)?
- 6) ¿Qué coordenadas del plano tiene una forma en (4 , 5)?
- 7) ¿Qué coordenadas del plano tiene una forma en (1 , 0)?
- 8) ¿Qué coordenadas del plano tiene una forma en (5 , 1)?
- 9) ¿Qué coordenadas del plano tiene una forma en (4 , 8)?
- 10) ¿Qué coordenadas del plano tiene una forma en (3 , 6)?
- 11) ¿Qué coordenadas del plano tiene una forma en (9 , 7)?
- 12) ¿Qué coordenadas del plano tiene una forma en (2 , 3)?
- 13) ¿Qué coordenadas del plano tiene una forma en (1 , 6)?
- 14) ¿Qué coordenadas del plano tiene una forma en (2 , 0)?
- 15) ¿Qué coordenadas del plano tiene una forma en (0 , 0)?

**Respuestas**

1.           **B**
2.           **B**
3.           **B**
4.           **C**
5.           **D**
6.           **D**
7.           **A**
8.           **B**
9.           **A**
10.          **D**
11.           **A**
12.           **C**
13.           **A**
14.           **C**
15.           **A**



Determinar cuál plano cartesiano corresponde a cada pregunta.



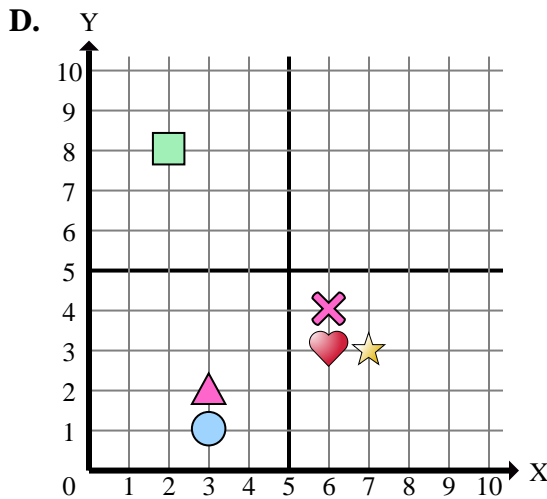
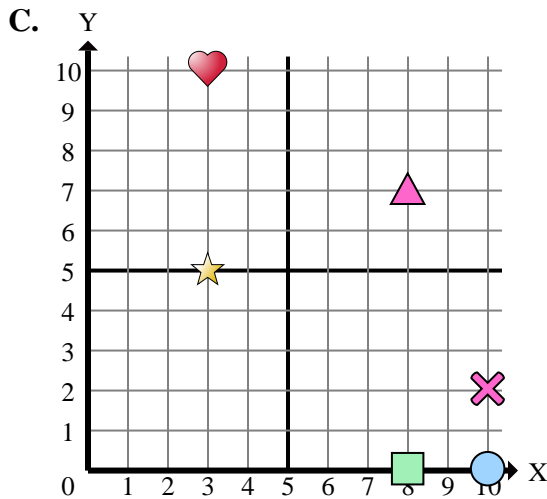
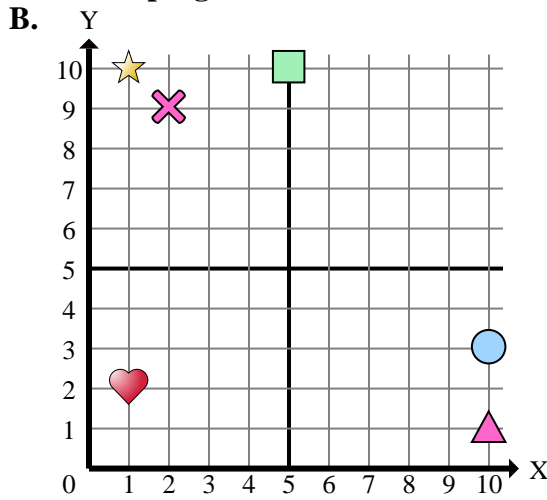
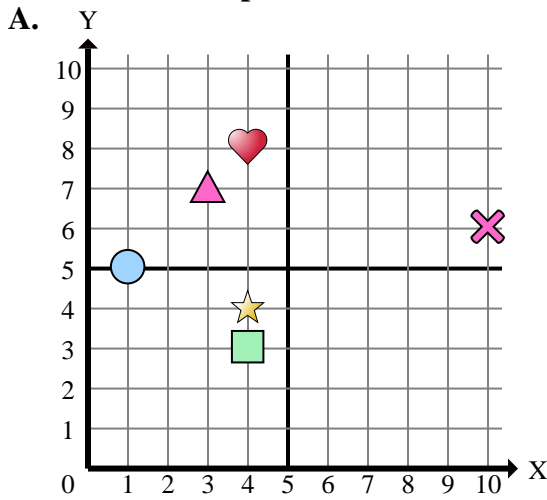
- 1) ¿Qué coordenadas del plano tiene una forma en (2 , 8)?
- 2) ¿Qué coordenadas del plano tiene una forma en (7 , 3)?
- 3) ¿Qué coordenadas del plano tiene una forma en (8 , 7)?
- 4) ¿Qué coordenadas del plano tiene una forma en (3 , 7)?
- 5) ¿Qué coordenadas del plano tiene una forma en (6 , 4)?
- 6) ¿Qué coordenadas del plano tiene una forma en (3 , 2)?
- 7) ¿Qué coordenadas del plano tiene una forma en (4 , 3)?
- 8) ¿Qué coordenadas del plano tiene una forma en (3 , 10)?
- 9) ¿Qué coordenadas del plano tiene una forma en (4 , 8)?
- 10) ¿Qué coordenadas del plano tiene una forma en (10 , 3)?
- 11) ¿Qué coordenadas del plano tiene una forma en (1 , 5)?
- 12) ¿Qué coordenadas del plano tiene una forma en (5 , 10)?
- 13) ¿Qué coordenadas del plano tiene una forma en (2 , 9)?
- 14) ¿Qué coordenadas del plano tiene una forma en (10 , 1)?
- 15) ¿Qué coordenadas del plano tiene una forma en (6 , 3)?

**Respuestas**

1. \_\_\_\_\_
2. \_\_\_\_\_
3. \_\_\_\_\_
4. \_\_\_\_\_
5. \_\_\_\_\_
6. \_\_\_\_\_
7. \_\_\_\_\_
8. \_\_\_\_\_
9. \_\_\_\_\_
10. \_\_\_\_\_
11. \_\_\_\_\_
12. \_\_\_\_\_
13. \_\_\_\_\_
14. \_\_\_\_\_
15. \_\_\_\_\_



Determinar cuál plano cartesiano corresponde a cada pregunta.



- 1) ¿Qué coordenadas del plano tiene una forma en (2 , 8)?
- 2) ¿Qué coordenadas del plano tiene una forma en (7 , 3)?
- 3) ¿Qué coordenadas del plano tiene una forma en (8 , 7)?
- 4) ¿Qué coordenadas del plano tiene una forma en (3 , 7)?
- 5) ¿Qué coordenadas del plano tiene una forma en (6 , 4)?
- 6) ¿Qué coordenadas del plano tiene una forma en (3 , 2)?
- 7) ¿Qué coordenadas del plano tiene una forma en (4 , 3)?
- 8) ¿Qué coordenadas del plano tiene una forma en (3 , 10)?
- 9) ¿Qué coordenadas del plano tiene una forma en (4 , 8)?
- 10) ¿Qué coordenadas del plano tiene una forma en (10 , 3)?
- 11) ¿Qué coordenadas del plano tiene una forma en (1 , 5)?
- 12) ¿Qué coordenadas del plano tiene una forma en (5 , 10)?
- 13) ¿Qué coordenadas del plano tiene una forma en (2 , 9)?
- 14) ¿Qué coordenadas del plano tiene una forma en (10 , 1)?
- 15) ¿Qué coordenadas del plano tiene una forma en (6 , 3)?

**Respuestas**

1. **D**
2. **D**
3. **C**
4. **A**
5. **D**
6. **D**
7. **A**
8. **C**
9. **A**
10. **B**
11. **A**
12. **B**
13. **B**
14. **B**
15. **D**