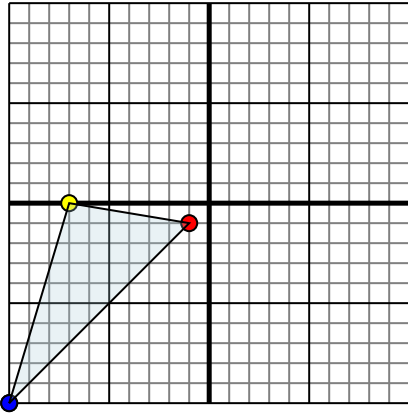




Reflejar cada figura como se describe.

Respuestas

1)

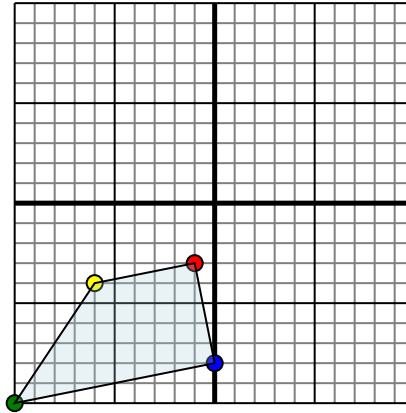


La forma anterior tiene las siguientes coordenadas:

- A. (-1,-1)
- B. (-7,0)
- C. (-10,-10)

Reflejar la forma sobre el eje x.

2)

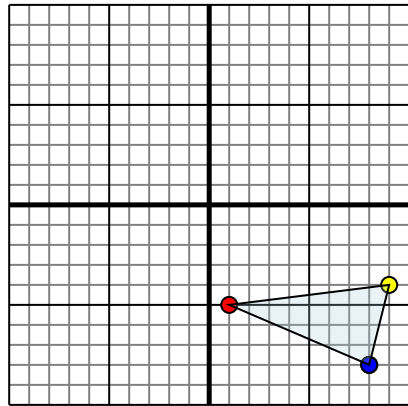


La forma anterior tiene las siguientes coordenadas:

- A. (-1,-3)
- B. (-6,-4)
- C. (-10,-10)

Reflejar la forma sobre el eje x.

3)

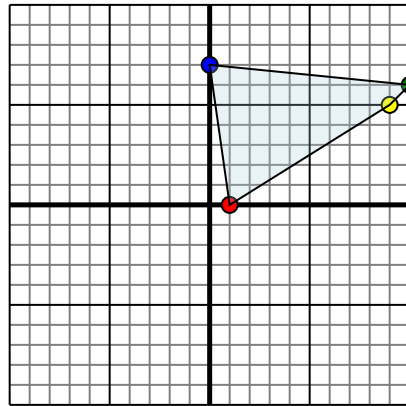


La forma anterior tiene las siguientes coordenadas:

- A. (1,-5)
- B. (9,-4)
- C. (8,-8)

Reflejar la forma sobre el eje x.

4)



La forma anterior tiene las siguientes coordenadas:

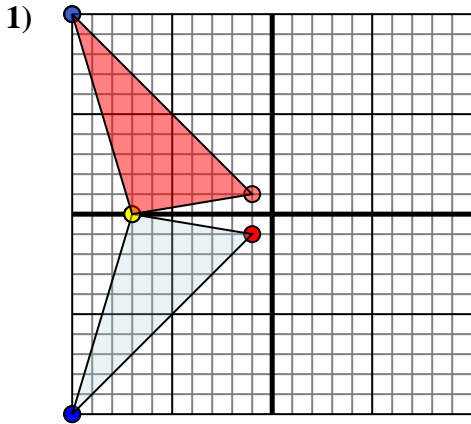
- A. (1,0)
- B. (9,5)
- C. (10,6)

Reflejar la forma sobre el eje x.

- 1. _____
- 2. _____
- 3. _____
- 4. _____



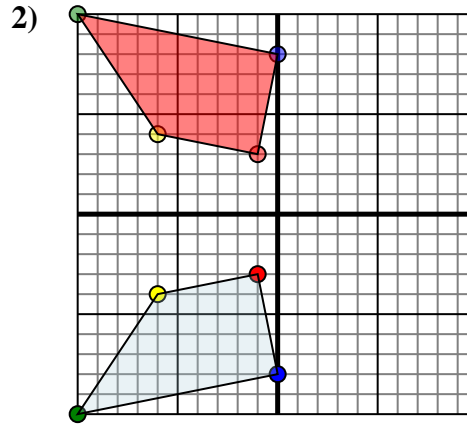
Reflejar cada figura como se describe.



La forma anterior tiene las siguientes coordenadas:

- A. (-1,-1)
- B. (-7,0)
- C. (-10,-10)

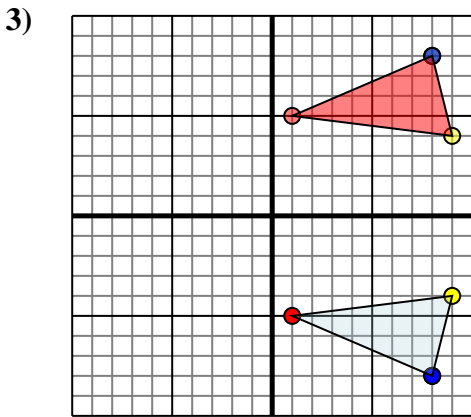
Reflejar la forma sobre el eje x.



La forma anterior tiene las siguientes coordenadas:

- A. (-1,-3)
- B. (-6,-4)
- C. (-10,-10)
- D. (0,-8)

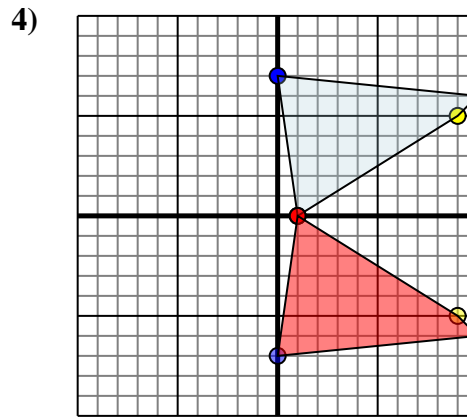
Reflejar la forma sobre el eje x.



La forma anterior tiene las siguientes coordenadas:

- A. (1,-5)
- B. (9,-4)
- C. (8,-8)

Reflejar la forma sobre el eje x.



La forma anterior tiene las siguientes coordenadas:

- A. (1,0)
- B. (9,5)
- C. (10,6)
- D. (0,7)

Reflejar la forma sobre el eje x.

Respuestas

1. **-1,1** **-7,0** **-10,10** gráfica
2. **-1,3** **-6,4** **-10,10** **0,8** gráfica
3. **1,5** **9,4** **8,8** gráfica
4. **1,0** **9,-5** **10,-6** **0,-7** gráfica