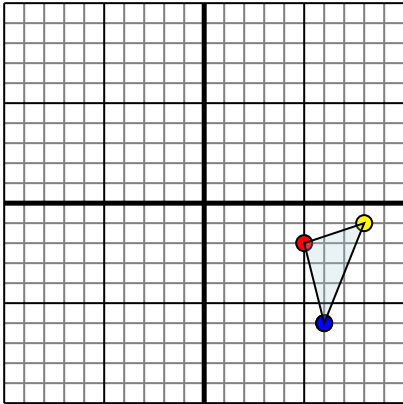




Reflejar cada figura como se describe.

Respuestas

1)

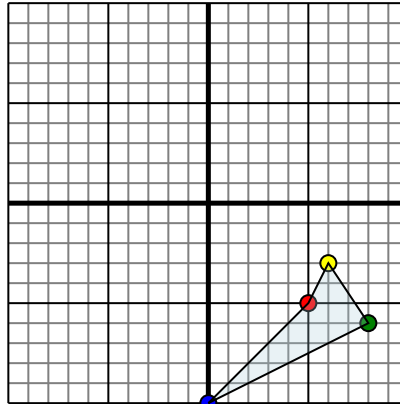


La forma anterior tiene las siguientes coordenadas:

- A. (5,-2)
- B. (8,-1)
- C. (6,-6)

Reflejar la forma sobre el eje x.

2)

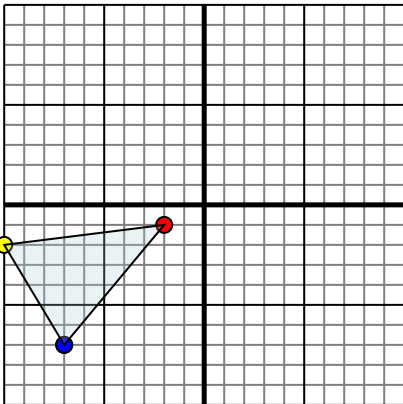


La forma anterior tiene las siguientes coordenadas:

- A. (5,-5)
- B. (6,-3)
- C. (8,-6)
- D. (0,-10)

Reflejar la forma sobre el eje y.

3)

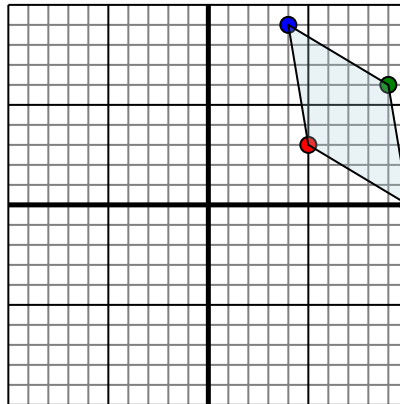


La forma anterior tiene las siguientes coordenadas:

- A. (-2,-1)
- B. (-10,-2)
- C. (-7,-7)

Reflejar la forma sobre el eje x.

4)



La forma anterior tiene las siguientes coordenadas:

- A. (5,3)
- B. (10,0)
- C. (9,6)
- D. (4,9)

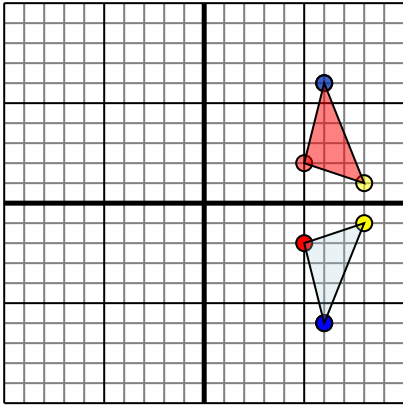
Reflejar la forma sobre el eje x.

- 1. _____
- 2. _____
- 3. _____
- 4. _____



Reflejar cada figura como se describe.

1)

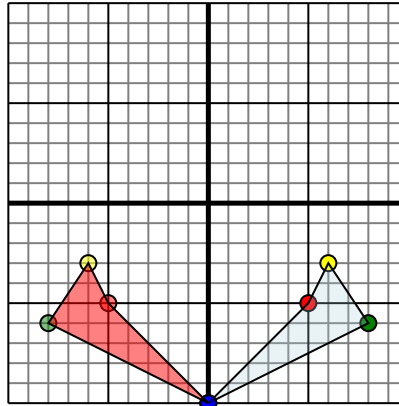


La forma anterior tiene las siguientes coordenadas:

- A. (5,-2)
- B. (8,-1)
- C. (6,-6)

Reflejar la forma sobre el eje x.

2)

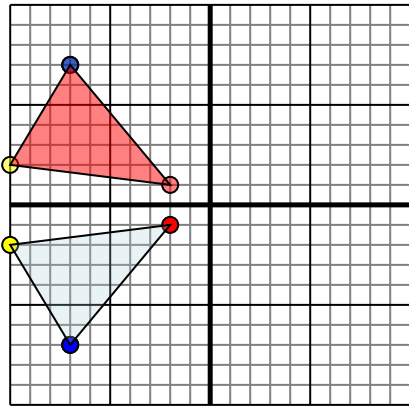


La forma anterior tiene las siguientes coordenadas:

- A. (5,-5)
- B. (6,-3)
- C. (8,-6)
- D. (0,-10)

Reflejar la forma sobre el eje y.

3)

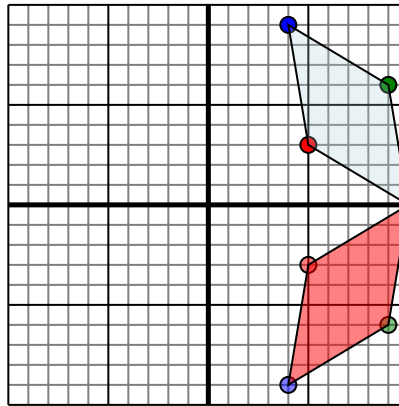


La forma anterior tiene las siguientes coordenadas:

- A. (-2,-1)
- B. (-10,-2)
- C. (-7,-7)

Reflejar la forma sobre el eje x.

4)



La forma anterior tiene las siguientes coordenadas:

- A. (5,3)
- B. (10,0)
- C. (9,6)
- D. (4,9)

Reflejar la forma sobre el eje x.

Respuestas1. **5,2** **8,1** **6,6** gráfica2. **-5,-5** **-6,-3** **-8,-6** **0,-10** gráfica3. **-2,1** **-10,2** **-7,7** gráfica4. **5,-3** **10,0** **9,-6** **4,-9** gráfica