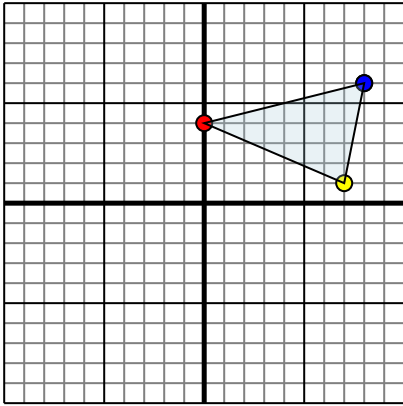




Reflejar cada figura como se describe.

Respuestas

1)

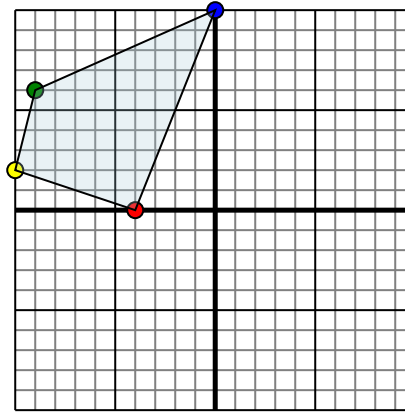


La forma anterior tiene las siguientes coordenadas:

- A. (0,4)
- B. (7,1)
- C. (8,6)

Reflejar la forma sobre el eje x.

2)

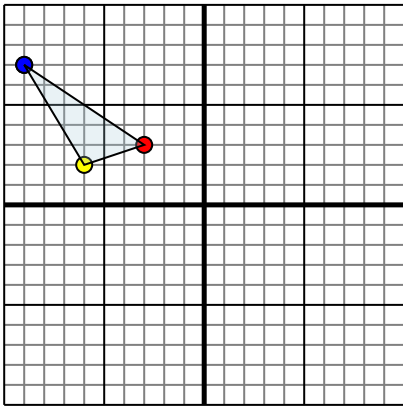


La forma anterior tiene las siguientes coordenadas:

- A. (-4,0)
- B. (-10,2)
- C. (-9,6)
- D. (0,10)

Reflejar la forma sobre el eje y.

3)

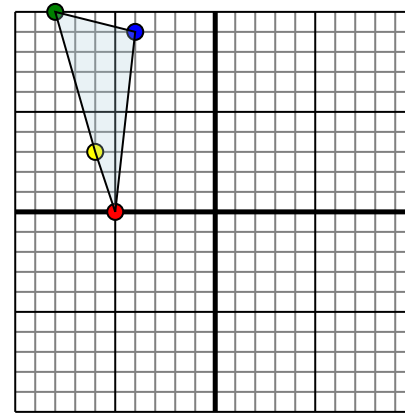


La forma anterior tiene las siguientes coordenadas:

- A. (-3,3)
- B. (-6,2)
- C. (-9,7)

Reflejar la forma sobre el eje y.

4)



La forma anterior tiene las siguientes coordenadas:

- A. (-5,0)
- B. (-6,3)
- C. (-8,10)
- D. (-4,9)

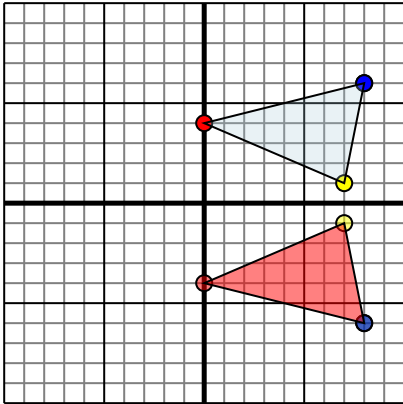
Reflejar la forma sobre el eje x.

- 1. _____
- 2. _____
- 3. _____
- 4. _____



Reflejar cada figura como se describe.

1)

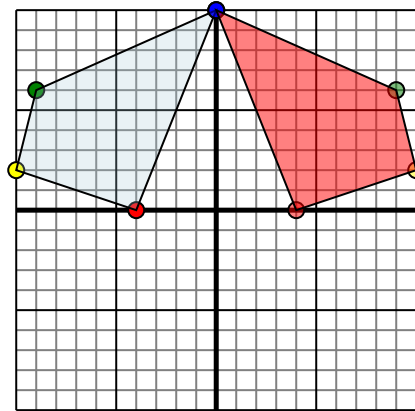


La forma anterior tiene las siguientes coordenadas:

- A. (0,4)
- B. (7,1)
- C. (8,6)

Reflejar la forma sobre el eje x.

2)

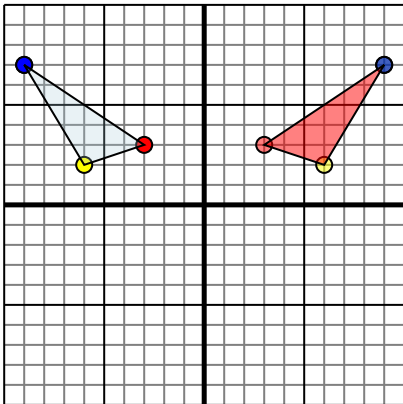


La forma anterior tiene las siguientes coordenadas:

- A. (-4,0)
- B. (-10,2)
- C. (-9,6)
- D. (0,10)

Reflejar la forma sobre el eje y.

3)

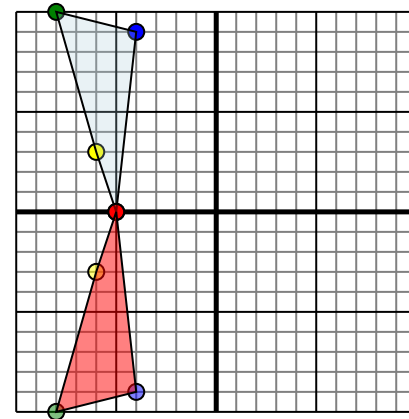


La forma anterior tiene las siguientes coordenadas:

- A. (-3,3)
- B. (-6,2)
- C. (-9,7)

Reflejar la forma sobre el eje y.

4)



La forma anterior tiene las siguientes coordenadas:

- A. (-5,0)
- B. (-6,3)
- C. (-8,10)
- D. (-4,9)

Reflejar la forma sobre el eje x.

Respuestas

1. 0,-4 7,-1 8,-6 gráfica
2. 4,0 10,2 9,6 0,10 gráfica
3. 3,3 6,2 9,7 gráfica
4. -5,0 -6,-3 -8,-10 -4,-9 gráfica