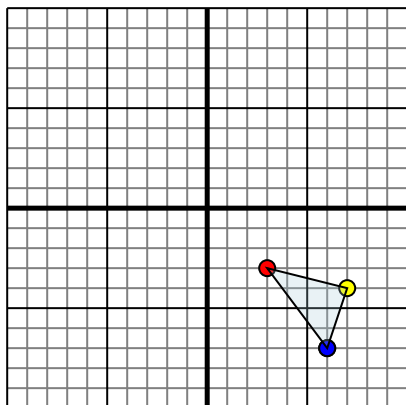




Reflejar cada figura como se describe.

1)

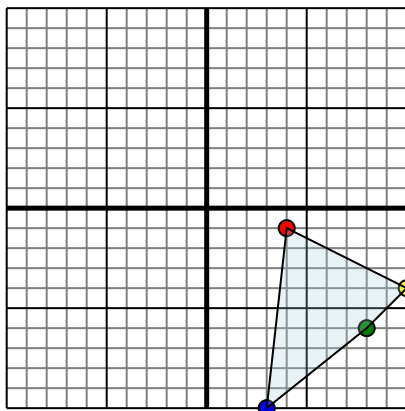


La forma anterior tiene las siguientes coordenadas:

- A. (3,-3)
- B. (7,-4)
- C. (6,-7)

Reflejar la forma sobre el eje x.

2)

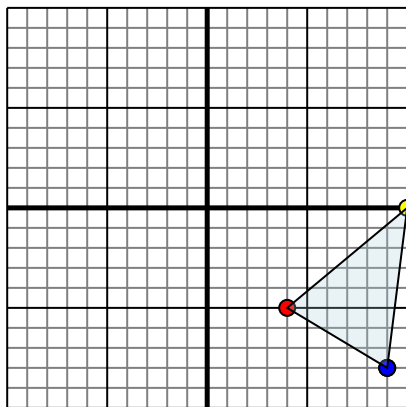


La forma anterior tiene las siguientes coordenadas:

- A. (4,-1)
- B. (10,-4)
- C. (8,-6)
- D. (3,-10)

Reflejar la forma sobre el eje x.

3)

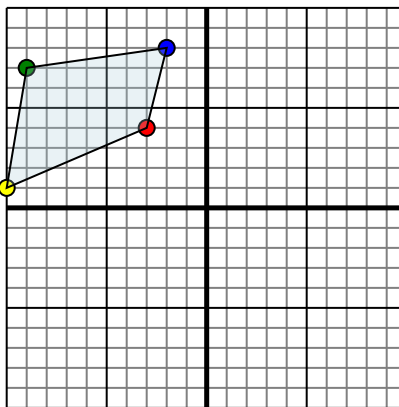


La forma anterior tiene las siguientes coordenadas:

- A. (4,-5)
- B. (10,0)
- C. (9,-8)

Reflejar la forma sobre el eje y.

4)



La forma anterior tiene las siguientes coordenadas:

- A. (-3,4)
- B. (-10,1)
- C. (-9,7)
- D. (-2,8)

Reflejar la forma sobre el eje x.

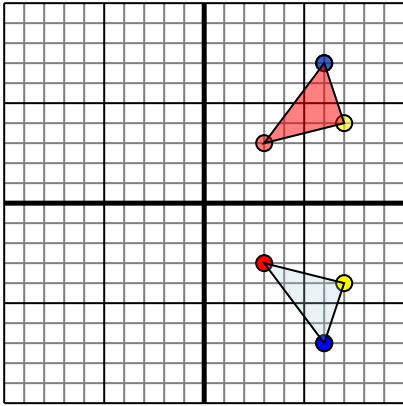
**Respuestas**

- 1. \_\_\_\_\_
- 2. \_\_\_\_\_
- 3. \_\_\_\_\_
- 4. \_\_\_\_\_



Reflejar cada figura como se describe.

1)

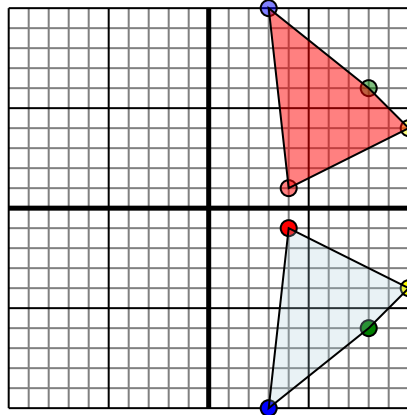


La forma anterior tiene las siguientes coordenadas:

- A. (3,-3)
- B. (7,-4)
- C. (6,-7)

Reflejar la forma sobre el eje x.

2)

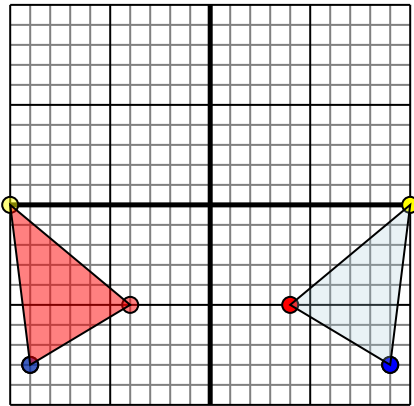


La forma anterior tiene las siguientes coordenadas:

- A. (4,-1)
- B. (10,-4)
- C. (8,-6)
- D. (3,-10)

Reflejar la forma sobre el eje x.

3)

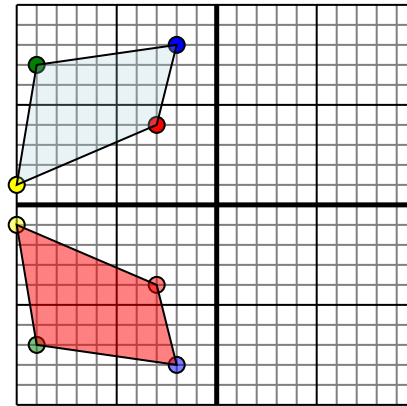


La forma anterior tiene las siguientes coordenadas:

- A. (4,-5)
- B. (10,0)
- C. (9,-8)

Reflejar la forma sobre el eje y.

4)



La forma anterior tiene las siguientes coordenadas:

- A. (-3,4)
- B. (-10,1)
- C. (-9,7)
- D. (-2,8)

Reflejar la forma sobre el eje x.

**Respuestas**1. **3,3 7,4 6,7** gráfica2. **4,1 10,4 8,6 3,10** gráfica3. **-4,-5 -10,0 -9,-8** gráfica4. **-3,-4 -10,-1 -9,-7 -2,-8** gráfica