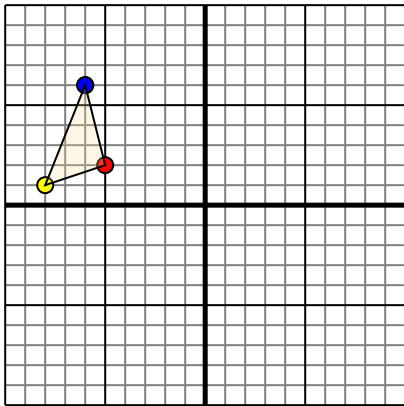




Trasladar cada figura como se describe.

1)

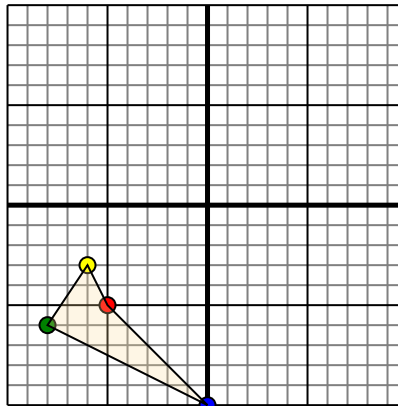


La forma anterior tiene las siguientes coordenadas:

- A. (-5,2)
- B. (-8,1)
- C. (-6,6)

Mueva la forma 6 unidades a la derecha y 10 unidades a la hacia abajo.

2)

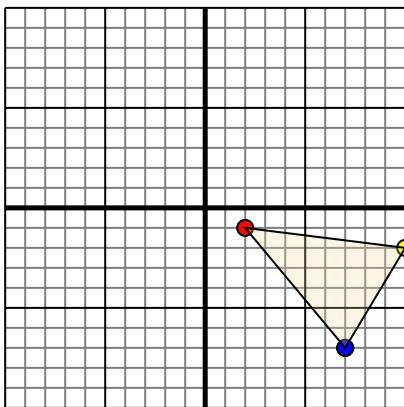


La forma anterior tiene las siguientes coordenadas:

- A. (-5,-5)
- B. (-6,-3)
- C. (-8,-6)
- D. (0,-10)

Mueva la forma 7 unidades a la derecha y 10 unidades a la hacia arriba.

3)

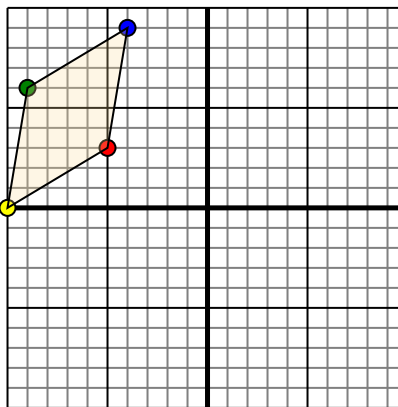


La forma anterior tiene las siguientes coordenadas:

- A. (2,-1)
- B. (10,-2)
- C. (7,-7)

Mueva la forma 7 unidades a la a la izquierda y 5 unidades a la hacia arriba.

4)



La forma anterior tiene las siguientes coordenadas:

- A. (-5,3)
- B. (-10,0)
- C. (-9,6)
- D. (-4,9)

Mueva la forma 5 unidades a la derecha y 3 unidades a la hacia abajo.

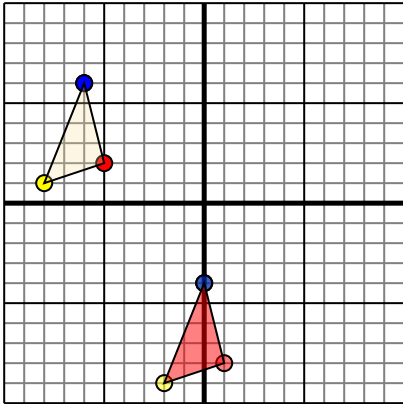
Respuestas

1. _____ [gráfica](#)
2. _____ [gráfica](#)
3. _____ [gráfica](#)
4. _____ [gráfica](#)



Trasladar cada figura como se describe.

1)

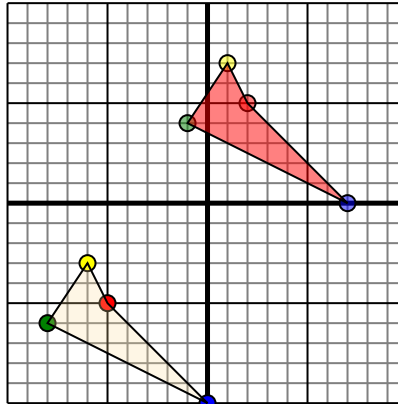


La forma anterior tiene las siguientes coordenadas:

- A. (-5,2)
- B. (-8,1)
- C. (-6,6)

Mueva la forma 6 unidades a la derecha y 10 unidades a la hacia abajo.

2)

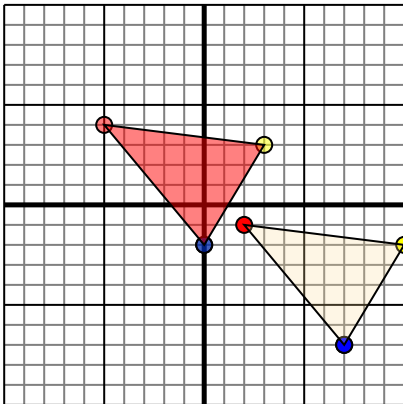


La forma anterior tiene las siguientes coordenadas:

- A. (-5,-5)
- B. (-6,-3)
- C. (-8,-6)
- D. (0,-10)

Mueva la forma 7 unidades a la derecha y 10 unidades a la hacia arriba.

3)

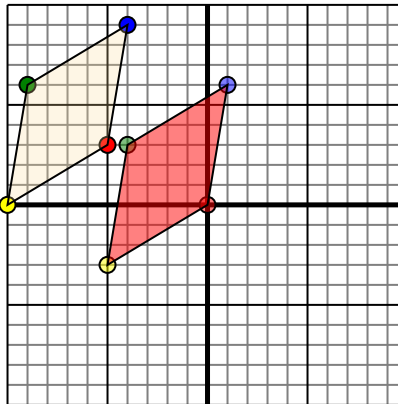


La forma anterior tiene las siguientes coordenadas:

- A. (2,-1)
- B. (10,-2)
- C. (7,-7)

Mueva la forma 7 unidades a la a la izquierda y 5 unidades a la hacia arriba.

4)



La forma anterior tiene las siguientes coordenadas:

- A. (-5,3)
- B. (-10,0)
- C. (-9,6)
- D. (-4,9)

Mueva la forma 5 unidades a la derecha y 3 unidades a la hacia abajo.

Respuestas

1. **1,-8** **-2,-9** **0,-4** gráfica
2. **2,5** **1,7** **-1,4** **7,0** gráfica
3. **-5,4** **3,3** **0,-2** gráfica
4. **0,0** **-5,-3** **-4,3** **1,6** gráfica