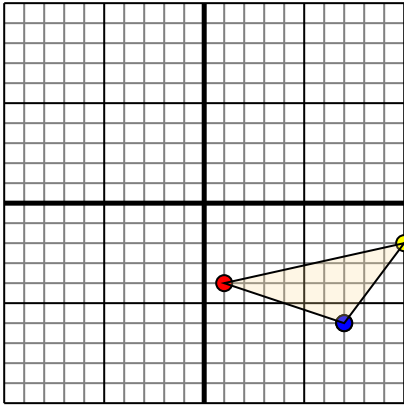




Trasladar cada figura como se describe.

1)

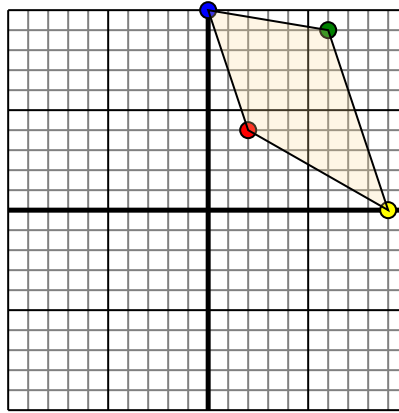


La forma anterior tiene las siguientes coordenadas:

- A. (1,-4)
- B. (10,-2)
- C. (7,-6)

Mueva la forma 9 unidades a la izquierda y 2 unidades a la hacia arriba.

2)

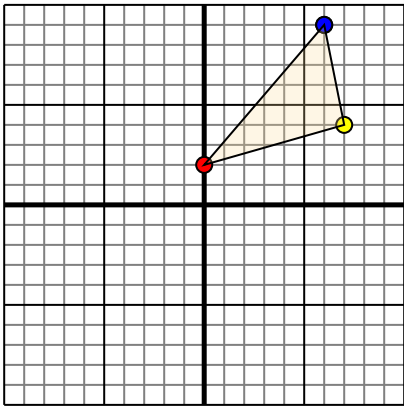


La forma anterior tiene las siguientes coordenadas:

- A. (2,4)
- B. (9,0)
- C. (6,9)
- D. (0,10)

Mueva la forma 8 unidades a la izquierda y 3 unidades a la hacia abajo.

3)

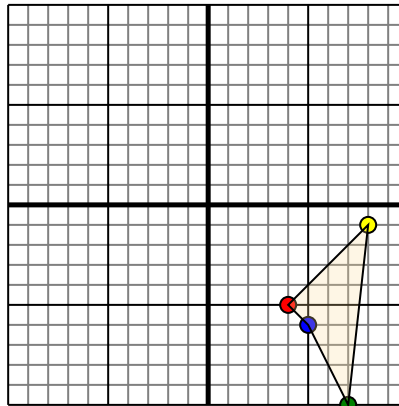


La forma anterior tiene las siguientes coordenadas:

- A. (0,2)
- B. (7,4)
- C. (6,9)

Mueva la forma 5 unidades a la izquierda y 6 unidades a la hacia abajo.

4)



La forma anterior tiene las siguientes coordenadas:

- A. (4,-5)
- B. (8,-1)
- C. (7,-10)
- D. (5,-6)

Mueva la forma 2 unidades a la izquierda y 4 unidades a la hacia arriba.

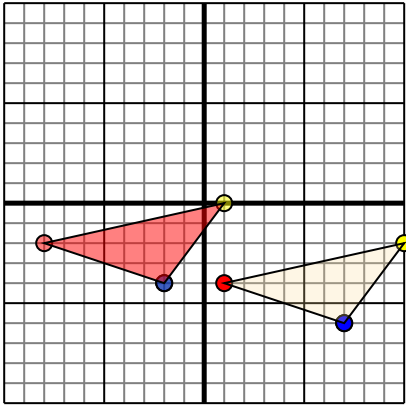
Respuestas

- 1. _____ [gráfica](#)
- 2. _____ [gráfica](#)
- 3. _____ [gráfica](#)
- 4. _____ [gráfica](#)



Trasladar cada figura como se describe.

1)

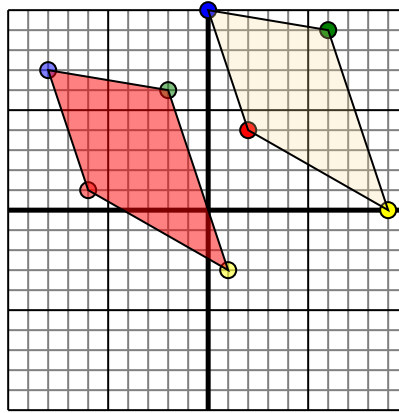


La forma anterior tiene las siguientes coordenadas:

- A. (1,-4)
- B. (10,-2)
- C. (7,-6)

Mueva la forma 9 unidades a la izquierda y 2 unidades a la hacia arriba.

2)

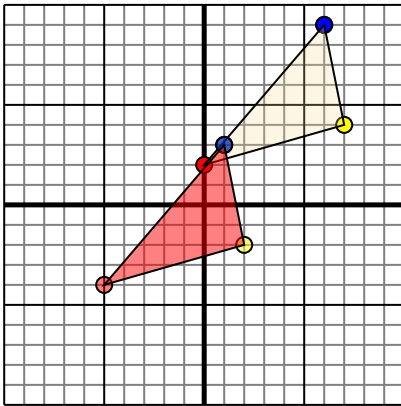


La forma anterior tiene las siguientes coordenadas:

- A. (2,4)
- B. (9,0)
- C. (6,9)
- D. (0,10)

Mueva la forma 8 unidades a la izquierda y 3 unidades a la hacia abajo.

3)

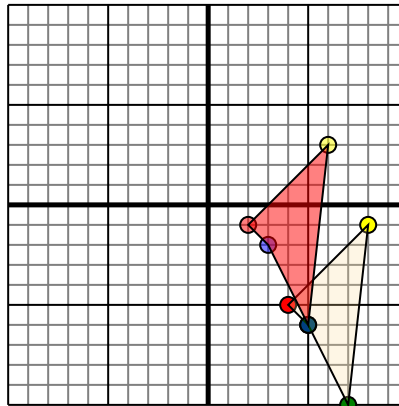


La forma anterior tiene las siguientes coordenadas:

- A. (0,2)
- B. (7,4)
- C. (6,9)

Mueva la forma 5 unidades a la izquierda y 6 unidades a la hacia abajo.

4)



La forma anterior tiene las siguientes coordenadas:

- A. (4,-5)
- B. (8,-1)
- C. (7,-10)
- D. (5,-6)

Mueva la forma 2 unidades a la izquierda y 4 unidades a la hacia arriba.

Respuestas

1. -8,-2 **1,0** -2,-4 [gráfica](#)
2. -6,1 1,-3 -2,6 -8,7 [gráfica](#)
3. -5,-4 2,-2 **1,3** [gráfica](#)
4. 2,-1 **6,3** 5,-6 3,-2 [gráfica](#)