

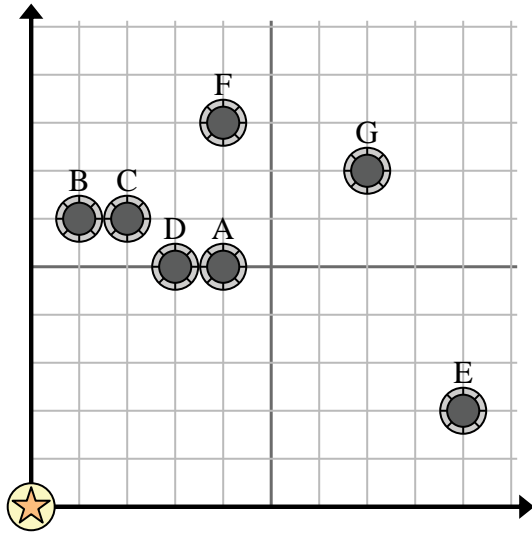


Usa la cuadrícula para resolver cada problema.

= Pozo

= Torre de agua

= 1 Square Milla



- 1) Una nueva ley dice que no se puede construir un pozo dentro de 2 millas de un pozo preexistente. Si quisiera construir un pozo a 9 millas al este y 9 millas al norte de la torre de agua, ¿podría hacerlo?
- 2) ¿Qué pozo está más cerca de la torre de agua?
- 3) ¿Qué pozo está más lejos de la torre de agua?
- 4) ¿Qué pozo está más lejos de north? ¿Bien F o bien E?
- 5) Si tuviera que ir 7 millas al este y 7 millas al norte desde la torre de agua, ¿en qué pozo terminaría?

**Respuestas**

1. \_\_\_\_\_
2. \_\_\_\_\_
3. \_\_\_\_\_
4. \_\_\_\_\_
5. \_\_\_\_\_
6. \_\_\_\_\_
7. \_\_\_\_\_
8. \_\_\_\_\_
9. \_\_\_\_\_
10. \_\_\_\_\_

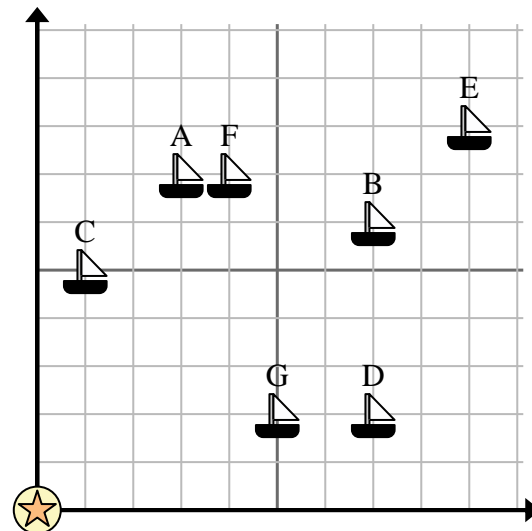
- 6) Un barco nuevo quería pescar, pero el capitán quería asegurarse de que estuvieran al menos a 2 millas de otro barco. Si navegaba 4 millas al este y 6 millas al norte, ¿le vendría bien ese lugar?

= Barco

= Boya

= 1 Square Milla

- 7) ¿Qué barco está más cerca de la boya?
- 8) ¿Qué barco está más lejos de la boya?
- 9) ¿Qué barco está más lejos de south? ¿Enviar F o enviar G?
- 10) ¿Qué barco está a 7 millas al este y 2 millas al norte de la boya?



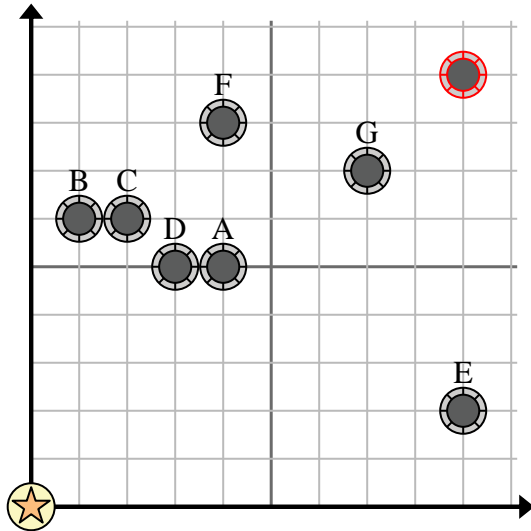


Usa la cuadrícula para resolver cada problema.

= Pozo

= Torre de agua

= 1 Square Milla



- 1) Una nueva ley dice que no se puede construir un pozo dentro de 2 millas de un pozo preexistente. Si quisiera construir un pozo a 9 millas al este y 9 millas al norte de la torre de agua, ¿podría hacerlo?
- 2) ¿Qué pozo está más cerca de la torre de agua?
- 3) ¿Qué pozo está más lejos de la torre de agua?
- 4) ¿Qué pozo está más lejos de north? ¿Bien F o bien E?
- 5) Si tuviera que ir 7 millas al este y 7 millas al norte desde la torre de agua, ¿en qué pozo terminaría?

**Respuestas**

1. **si**
2. **D**
3. **G**
4. **F**
5. **G**
6. **no**
7. **C**
8. **E**
9. **G**
10. **D**

- 6) Un barco nuevo quería pescar, pero el capitán quería asegurarse de que estuvieran al menos a 2 millas de otro barco. Si navegaba 4 millas al este y 6 millas al norte, ¿le vendría bien ese lugar?

= Barco

= Boya

= 1 Square Milla

- 7) ¿Qué barco está más cerca de la boya?
- 8) ¿Qué barco está más lejos de la boya?
- 9) ¿Qué barco está más lejos de south? ¿Enviar F o enviar G?
- 10) ¿Qué barco está a 7 millas al este y 2 millas al norte de la boya?

