

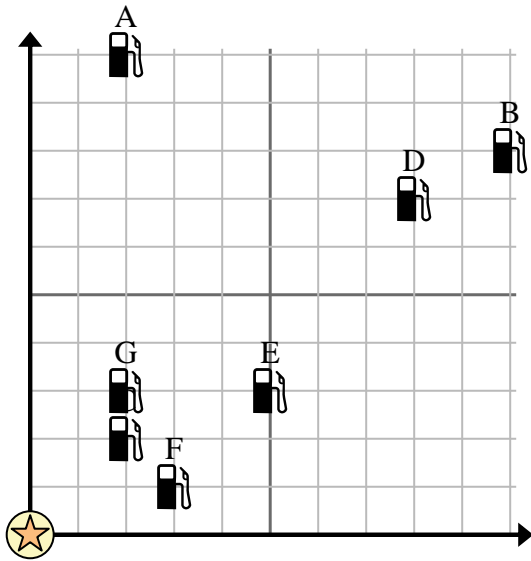


Usa la cuadrícula para resolver cada problema.

 = Gasolinera

 = Centro comercial

 = 1 Square Milla




- 1) Los inversores querían construir una nueva estación de servicio, pero querían asegurarse de que estuviera al menos a 2 millas de una estación preexistente. ¿Deberían construir una gasolinera a 9 millas al este y 5 millas al norte del centro comercial?
- 2) ¿Qué gasolinera está más cerca del centro comercial?
- 3) ¿Qué gasolinera está más lejos del centro comercial?
- 4) ¿Qué gasolinera está más lejos de south? ¿Estación D o estación B?
- 5) Si fueras 3 millas al este y 1 millas al norte desde el centro comercial, ¿en qué gasolinera terminarías?

Respuestas

1. _____
2. _____
3. _____
4. _____
5. _____
6. _____
7. _____
8. _____
9. _____
10. _____

- 6) Una nueva ley dice que no se puede construir un pozo dentro de 2 millas de un pozo preexistente. Si quisiera construir un pozo a 3 millas al este y 3 millas al norte de la torre de agua, ¿podría hacerlo?

 = Pozo

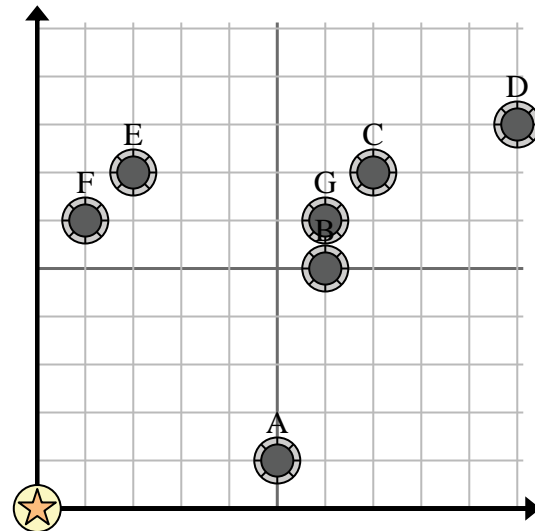
 = Torre de agua

 = 1 Square Milla

- 7) ¿Qué pozo está más cerca de la torre de agua?

- 8) ¿Qué pozo está más lejos de la torre de agua?

- 9) ¿Qué pozo está más lejos de north? ¿Bien F o bien A?



- 10) Si tuviera que ir 10 millas al este y 8 millas al norte desde la torre de agua, ¿en qué pozo terminaría?

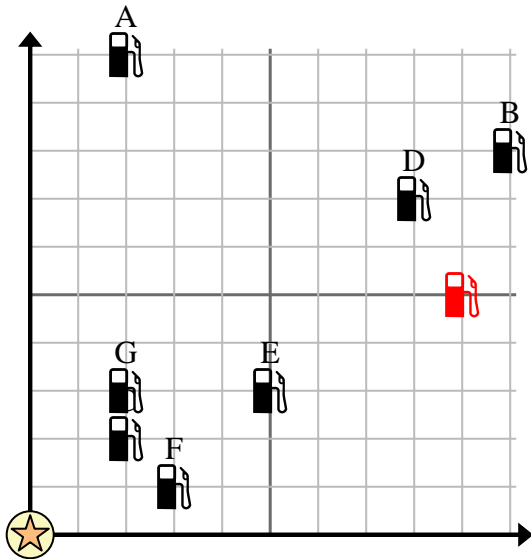


Usa la cuadrícula para resolver cada problema.

 = Gasolinera

 = Centro comercial

 = 1 Square Milla




- 1) Los inversores querían construir una nueva estación de servicio, pero querían asegurarse de que estuviera al menos a 2 millas de una estación preexistente. ¿Deberían construir una gasolinera a 9 millas al este y 5 millas al norte del centro comercial?
- 2) ¿Qué gasolinera está más cerca del centro comercial?
- 3) ¿Qué gasolinera está más lejos del centro comercial?
- 4) ¿Qué gasolinera está más lejos de south?
¿Estación D o estación B?
- 5) Si fueras 3 millas al este y 1 millas al norte desde el centro comercial, ¿en qué gasolinera terminarías?

Respuestas

1. si
2. C
3. B
4. D
5. F
6. si
7. A
8. D
9. F
10. D

- 6) Una nueva ley dice que no se puede construir un pozo dentro de 2 millas de un pozo preexistente. Si quisiera construir un pozo a 3 millas al este y 3 millas al norte de la torre de agua, ¿podría hacerlo?

 = Pozo

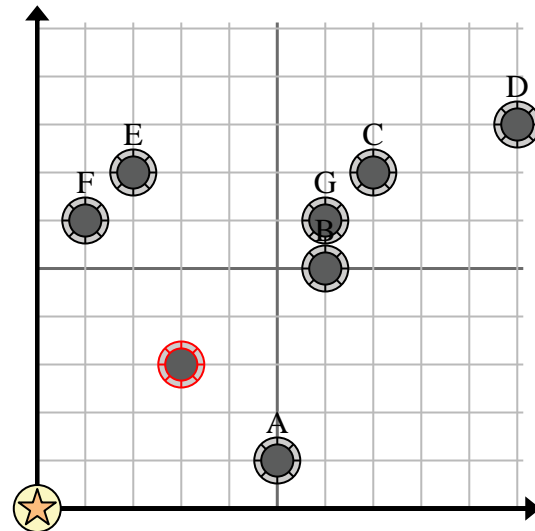
 = Torre de agua

 = 1 Square Milla

- 7) ¿Qué pozo está más cerca de la torre de agua?

- 8) ¿Qué pozo está más lejos de la torre de agua?

- 9) ¿Qué pozo está más lejos de north? ¿Bien F o bien A?



- 10) Si tuviera que ir 10 millas al este y 8 millas al norte desde la torre de agua, ¿en qué pozo terminaría?