



Medir el ancho y alto de cada bloque en pulgadas y en centímetros

Ej)



Respuestas

Ej. 3 0 1/2 7.6 1.3


1. _____

2. _____

3. _____

4. _____

1)




2)



3)



4)






Medir el ancho y alto de cada bloque en pulgadas y en centímetros

Ej)



1)




2)



3)



4)



Respuestas

Ej. 3 0 1/2 7.6 1.3

1. 1 1/2 1 3.8 2.5

2. 0 1/2 1 1.3 2.5

3. 5 1/2 1 14 2.5

4. 1 1 1/2 2.5 3.8