



Medir el ancho y alto de cada bloque en pulgadas y en centímetros

Ej)



Respuestas

Ej. 2 1/2 0 1/2 6.4 1.3


1. _____

2. _____


3. _____

4. _____

1)



2)



3)



4)






Medir el ancho y alto de cada bloque en pulgadas y en centímetros


Ej)




1)



2)



3)



4)



Respuestas

Ej. 2 1/2 0 1/2 6.4 1.3

1. 1 1 1/2 2.5 3.8

2. 0 1/2 1 1/2 1.3 3.8

3. 5 1/2 1 1/2 14 3.8

4. 4 1 1/2 10.2 3.8