


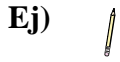




Mida cada ITEM punta a punta y luego coloque sus resultados en la gráfica de línea.

Respuestas



Ej. $\frac{1}{4}$

1. _____

2. _____

3. _____

4. _____

5. _____

6. _____

7. _____

8. _____

9. _____

10. _____

11. _____

