







Determine la cantidad de dinero que se muestra.


Respuestas


1) 


2) 


3) 


4) 


5) 

6) 

7) 

8) 

9) 

10) 

1. _____

2. _____

3. _____

4. _____

5. _____

6. _____

7. _____

8. _____

9. _____

10. _____



Determine la cantidad de dinero que se muestra.



Respuestas

1. \$0.96

2. \$0.91

3. \$0.71

4. \$0.88

5. \$0.95

6. \$0.85

7. \$0.88

8. \$0.90

9. \$0.97

10. \$0.99