



Resuelve cada problema.

Respuestas

- 1) Guadalupe gastó \$6.92 en una entrada al cine. Ella le dio al cajero el dinero que se muestra. ¿Cuánto cambio le deberían regresar?



1. _____

2. _____

3. _____

- 2) Zacarias gastó \$8.05 comprando algunos juguetes nuevos. Los compró usando el dinero que se muestra. ¿Cuánto cambio le deberían regresar?




4. _____

5. _____

6. _____


- 3) En la feria, Julieta gastó \$17.24 comprando comida de feria. Ella le dio al cajero el dinero que se muestra. ¿Cuánto cambio le deberían regresar?



- 4) Humberto gastó \$17.07 en dulces en el centro comercial. Le dio al cajero el dinero mostrado. ¿Cuánto cambio le deberían regresar?



- 5) Carmen compró un nuevo juego de mesa por \$12.24. Ella le dio al cajero el dinero que se muestra. ¿Cuánto cambio le deberían regresar?



- 6) Fernando compró \$12.97 en comestibles. Le dio al cajero el dinero mostrado. ¿Cuánto cambio le deberían regresar?





Resuelve cada problema.


- 1) Guadalupe gastó \$6.92 en una entrada al cine. Ella le dio al cajero el dinero que se muestra. ¿Cuánto cambio le deberían regresar?



- 2) Zacarias gastó \$8.05 comprando algunos juguetes nuevos. Los compró usando el dinero que se muestra. ¿Cuánto cambio le deberían regresar?




- 3) En la feria, Julieta gastó \$17.24 comprando comida de feria. Ella le dio al cajero el dinero que se muestra. ¿Cuánto cambio le deberían regresar?



- 4) Humberto gastó \$17.07 en dulces en el centro comercial. Le dio al cajero el dinero mostrado. ¿Cuánto cambio le deberían regresar?



- 5) Carmen compró un nuevo juego de mesa por \$12.24. Ella le dio al cajero el dinero que se muestra. ¿Cuánto cambio le deberían regresar?



- 6) Fernando compró \$12.97 en comestibles. Le dio al cajero el dinero mostrado. ¿Cuánto cambio le deberían regresar?



Respuestas

1. **\$14.08**

2. **\$2.05**

3. **\$0.10**

4. **\$2.93**

5. **\$0.10**

6. **\$7.03**