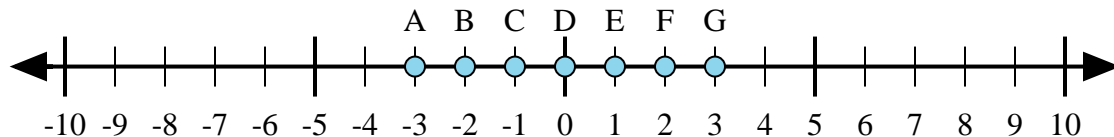




Determina qué letra de la recta numérica representa mejor la respuesta a cada problema.

**Respuestas**



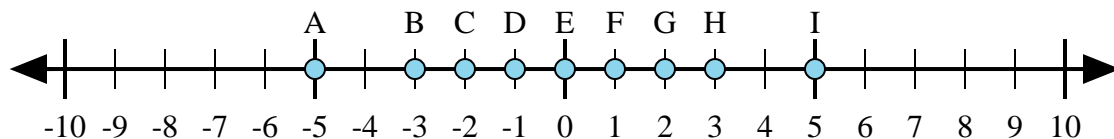
1)  $2 + (-1) =$

2)  $(-1) + 2 =$

3)  $1 + (-2) =$

4)  $1 + 2 =$

5)  $(-1) + (-2) =$



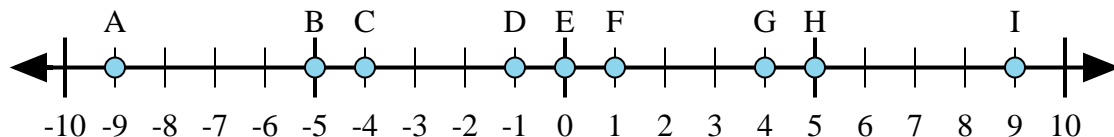
6)  $2 + 3 =$

7)  $(-2) + 3 =$

8)  $(-2) + (-3) =$

9)  $3 + (-2) =$

10)  $(-3) + 2 =$



11)  $4 + (-5) =$

12)  $4 + 5 =$

13)  $(-4) + 5 =$

14)  $(-4) + (-5) =$

15)  $5 + (-4) =$

1. \_\_\_\_\_

2. \_\_\_\_\_

3. \_\_\_\_\_

4. \_\_\_\_\_

5. \_\_\_\_\_

6. \_\_\_\_\_

7. \_\_\_\_\_

8. \_\_\_\_\_

9. \_\_\_\_\_

10. \_\_\_\_\_

11. \_\_\_\_\_

12. \_\_\_\_\_

13. \_\_\_\_\_

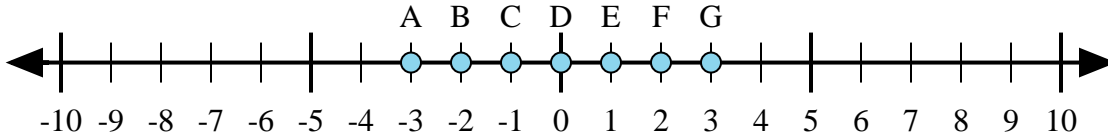
14. \_\_\_\_\_

15. \_\_\_\_\_



Determina qué letra de la recta numérica representa mejor la respuesta a cada problema.

**Respuestas**



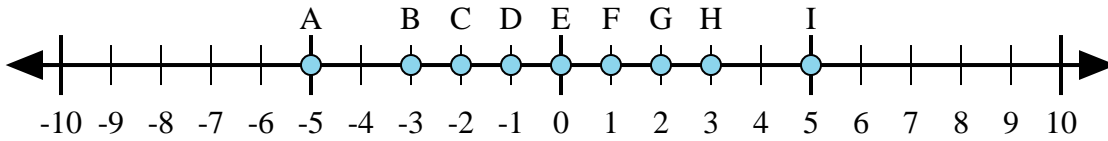
1)  $2 + (-1) =$

2)  $(-1) + 2 =$

3)  $1 + (-2) =$

4)  $1 + 2 =$

5)  $(-1) + (-2) =$



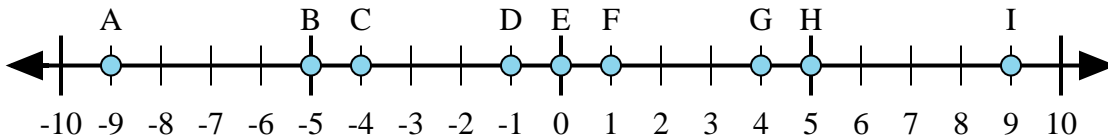
6)  $2 + 3 =$

7)  $(-2) + 3 =$

8)  $(-2) + (-3) =$

9)  $3 + (-2) =$

10)  $(-3) + 2 =$



11)  $4 + (-5) =$

12)  $4 + 5 =$

13)  $(-4) + 5 =$

14)  $(-4) + (-5) =$

15)  $5 + (-4) =$

1.     **E**    

2.     **E**    

3.     **C**    

4.     **G**    

5.     **A**    

6.     **I**    

7.     **F**    

8.     **A**    

9.     **F**    

10.     **D**    

11.     **D**    

12.     **I**    

13.     **F**    

14.     **A**    

15.     **F**