




Resuelve cada problema.


Respuestas

1) ¿Qué letra representa mejor -28



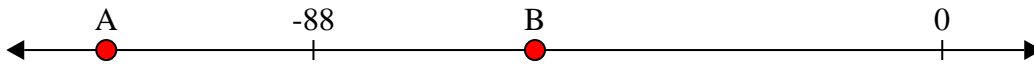
1. _____

2) ¿Qué letra representa mejor -26



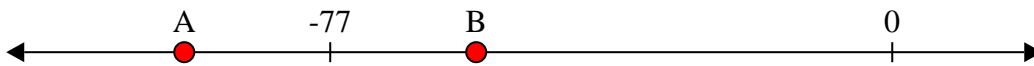
2. _____

3) ¿Qué letra representa mejor -117



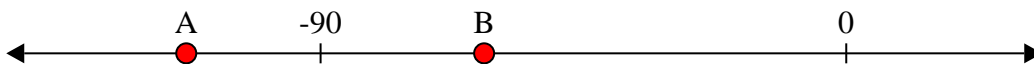
3. _____

4) ¿Qué letra representa mejor -97



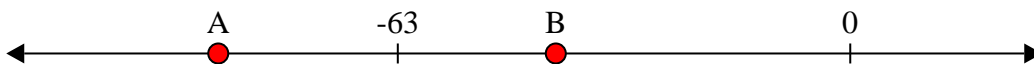
4. _____

5) ¿Qué letra representa mejor -113



5. _____

6) ¿Qué letra representa mejor -88




6. _____

7) ¿Qué letra representa mejor -22




7. _____

8) ¿Qué letra representa mejor -25




8. _____

9) ¿Qué letra representa mejor -82



9. _____

10) ¿Qué letra representa mejor -120



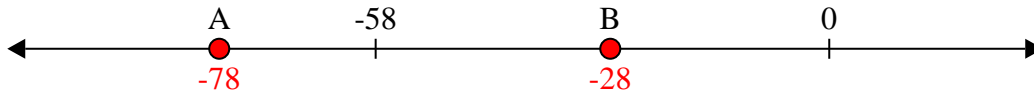
10. _____



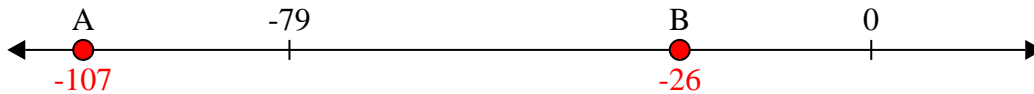
Resuelve cada problema.

Respuestas

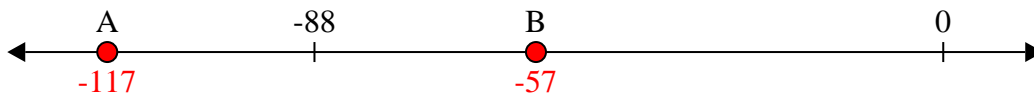
1) ¿Qué letra representa mejor -28

1. **B**

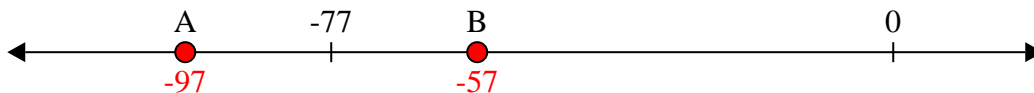
2) ¿Qué letra representa mejor -26

2. **B**

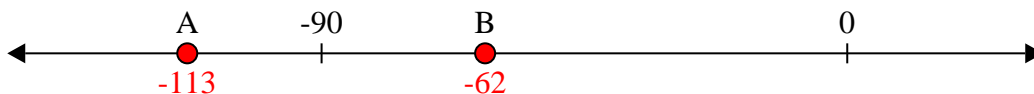
3) ¿Qué letra representa mejor -117

3. **A**

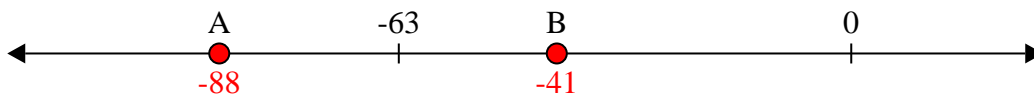
4) ¿Qué letra representa mejor -97

4. **A**


5) ¿Qué letra representa mejor -113

5. **A**


6) ¿Qué letra representa mejor -88

6. **A**


7) ¿Qué letra representa mejor -22

7. **B**


8) ¿Qué letra representa mejor -25

8. **B**

9) ¿Qué letra representa mejor -82

9. **A**

10) ¿Qué letra representa mejor -120

10. **A**