



Resuelve cada problema.


**Respuestas**

1) ¿Qué letra representa mejor -32




1. \_\_\_\_\_

2) ¿Qué letra representa mejor -114




2. \_\_\_\_\_

3) ¿Qué letra representa mejor -117



3. \_\_\_\_\_

4) ¿Qué letra representa mejor -111



4. \_\_\_\_\_

5) ¿Qué letra representa mejor -33



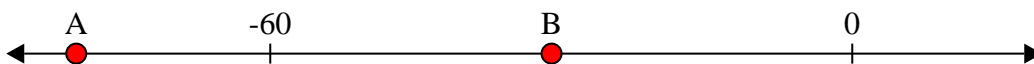
5. \_\_\_\_\_

6) ¿Qué letra representa mejor -29




6. \_\_\_\_\_

7) ¿Qué letra representa mejor -80



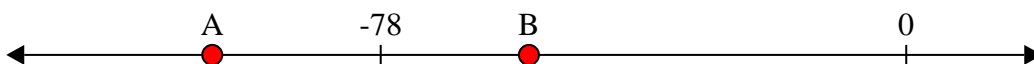
7. \_\_\_\_\_

8) ¿Qué letra representa mejor -86




8. \_\_\_\_\_

9) ¿Qué letra representa mejor -56



9. \_\_\_\_\_

10) ¿Qué letra representa mejor -24



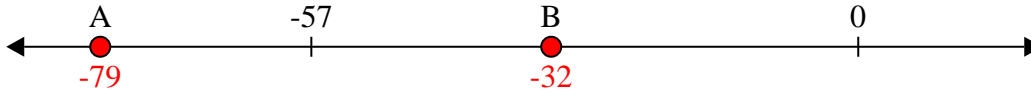
10. \_\_\_\_\_



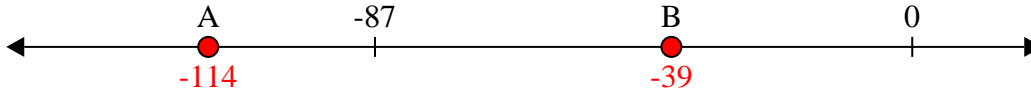
Resuelve cada problema.

**Respuestas**

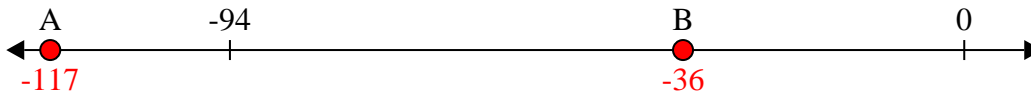
1) ¿Qué letra representa mejor -32

1.     **B**    

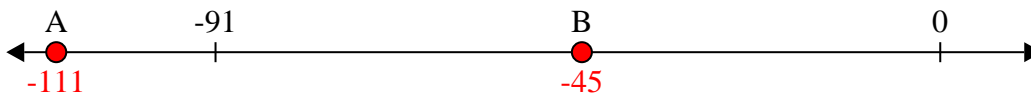
2) ¿Qué letra representa mejor -114

2.     **A**    


3) ¿Qué letra representa mejor -117

3.     **A**    4.     **A**    


4) ¿Qué letra representa mejor -111

5.     **B**    6.     **B**    

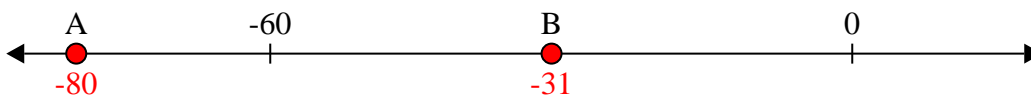
5) ¿Qué letra representa mejor -33

7.     **A**    8.     **A**    


6) ¿Qué letra representa mejor -29

9.     **B**    10.     **B**    

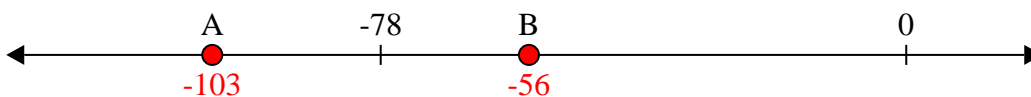
7) ¿Qué letra representa mejor -80



8) ¿Qué letra representa mejor -86



9) ¿Qué letra representa mejor -56



10) ¿Qué letra representa mejor -24

