




Resuelve cada problema.


Respuestas

1) ¿Qué letra representa mejor -29




1. _____

2) ¿Qué letra representa mejor -120




2. _____

3) ¿Qué letra representa mejor -118



3. _____

4) ¿Qué letra representa mejor -14



4. _____

5) ¿Qué letra representa mejor -109



5. _____

6) ¿Qué letra representa mejor -28




6. _____

7) ¿Qué letra representa mejor -21




7. _____

8) ¿Qué letra representa mejor -14




8. _____

9) ¿Qué letra representa mejor -13



9. _____

10) ¿Qué letra representa mejor -114



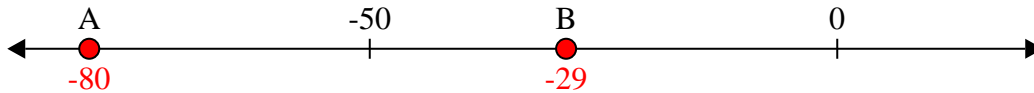
10. _____



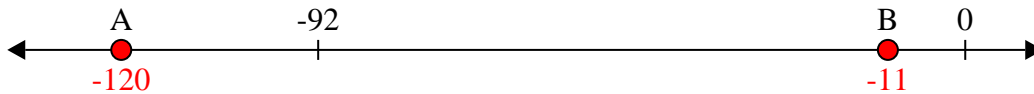
Resuelve cada problema.

Respuestas

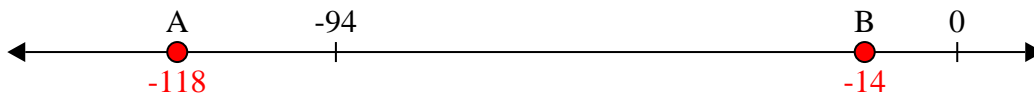
1) ¿Qué letra representa mejor -29

1. **B**

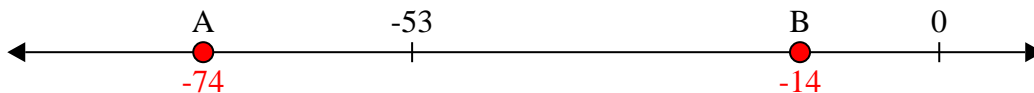
2) ¿Qué letra representa mejor -120

2. **A**


3) ¿Qué letra representa mejor -118

3. **A**


4) ¿Qué letra representa mejor -14

4. **B**


5) ¿Qué letra representa mejor -109

5. **A**


6) ¿Qué letra representa mejor -28

6. **B**


7) ¿Qué letra representa mejor -21

7. **B**


8) ¿Qué letra representa mejor -14

8. **B**

9) ¿Qué letra representa mejor -13

9. **B**

10) ¿Qué letra representa mejor -114

10. **A**