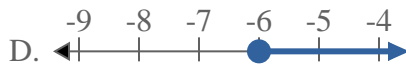
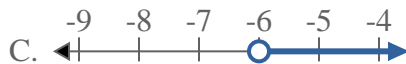
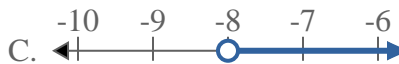
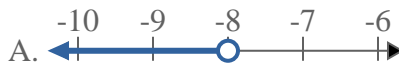
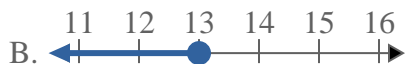
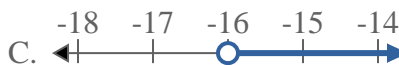
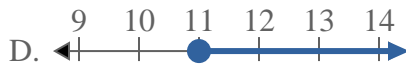
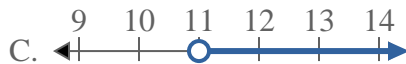
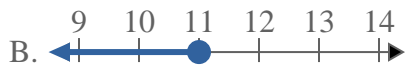
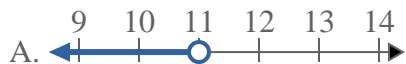
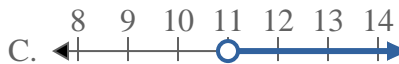
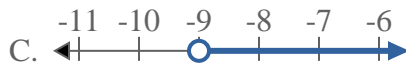
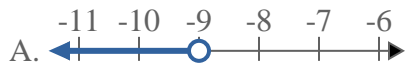
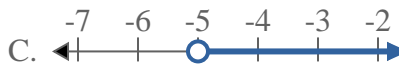
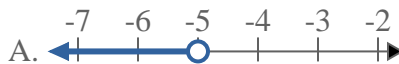




Resuelve cada problema.

**Respuestas**1) ¿Qué opción representa mejor  $X \leq -6$ ?2) ¿Qué opción representa mejor  $X > -8$ ?3) ¿Qué opción representa mejor  $X < 13$ ?4) ¿Qué opción representa mejor  $X < -16$ ?5) ¿Qué opción representa mejor  $X \leq 11$ ?6) ¿Qué opción representa mejor  $X \geq 11$ ?7) ¿Qué opción representa mejor  $X > -9$ ?8) ¿Qué opción representa mejor  $X \geq -5$ ?

1. \_\_\_\_\_

2. \_\_\_\_\_

3. \_\_\_\_\_

4. \_\_\_\_\_

5. \_\_\_\_\_

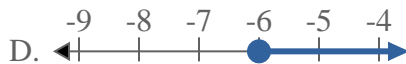
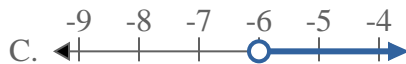
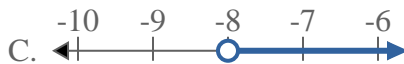
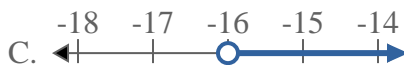
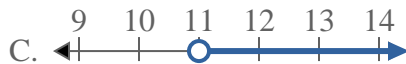
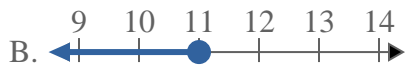
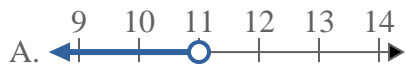
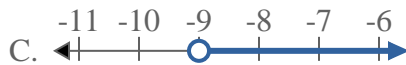
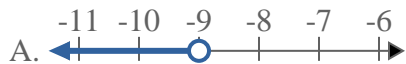
6. \_\_\_\_\_

7. \_\_\_\_\_

8. \_\_\_\_\_



Resuelve cada problema.

**Respuestas**1) ¿Qué opción representa mejor  $X \leq -6$ ?2) ¿Qué opción representa mejor  $X > -8$ ?3) ¿Qué opción representa mejor  $X < 13$ ?4) ¿Qué opción representa mejor  $X < -16$ ?5) ¿Qué opción representa mejor  $X \leq 11$ ?6) ¿Qué opción representa mejor  $X \geq 11$ ?7) ¿Qué opción representa mejor  $X > -9$ ?8) ¿Qué opción representa mejor  $X \geq -5$ ?1.     **B**    2.     **C**    3.     **A**    4.     **A**    5.     **B**    6.     **D**    7.     **C**    8.     **D**