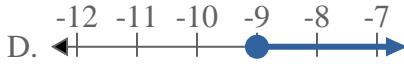
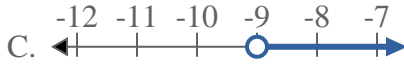
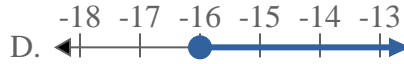
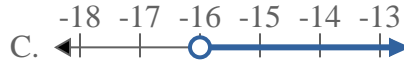
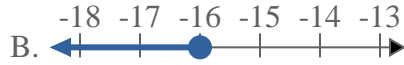
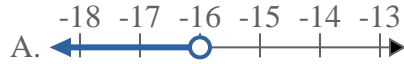
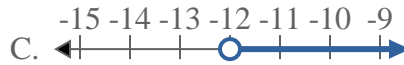
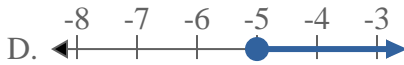
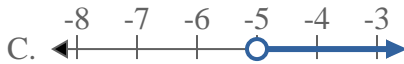
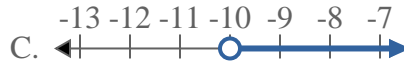
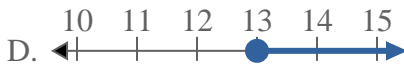
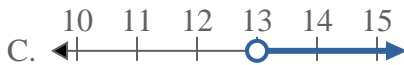
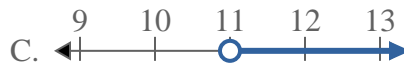




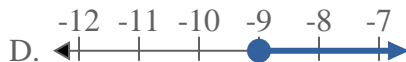
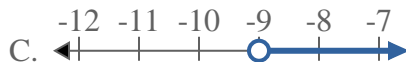
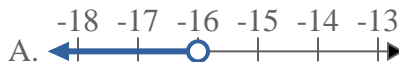
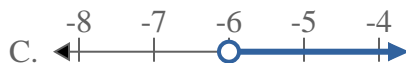
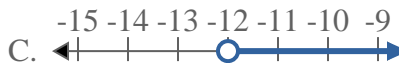
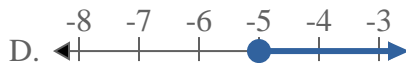
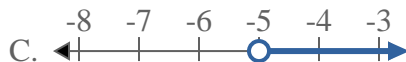
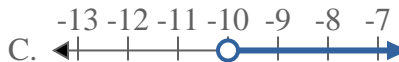
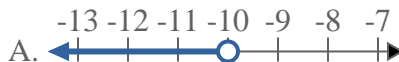
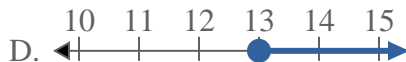
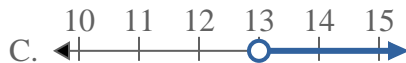
Resuelve cada problema.

Respuestas1) ¿Qué opción representa mejor $X < -9$?2) ¿Qué opción representa mejor $X \leq -16$?3) ¿Qué opción representa mejor $X \geq -6$?4) ¿Qué opción representa mejor $X > -12$?5) ¿Qué opción representa mejor $X \leq -5$?6) ¿Qué opción representa mejor $X < -10$?7) ¿Qué opción representa mejor $X > 13$?8) ¿Qué opción representa mejor $X < 11$?

1. _____
2. _____
3. _____
4. _____
5. _____
6. _____
7. _____
8. _____



Resuelve cada problema.

Respuestas1) ¿Qué opción representa mejor $X < -9$?2) ¿Qué opción representa mejor $X \leq -16$?3) ¿Qué opción representa mejor $X \geq -6$?4) ¿Qué opción representa mejor $X > -12$?5) ¿Qué opción representa mejor $X \leq -5$?6) ¿Qué opción representa mejor $X < -10$?7) ¿Qué opción representa mejor $X > 13$?8) ¿Qué opción representa mejor $X < 11$?1. **A** 2. **B** 3. **D** 4. **C** 5. **B** 6. **A** 7. **C** 8. **A**