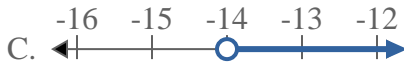
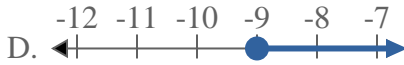
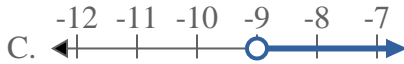
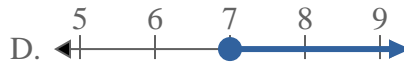
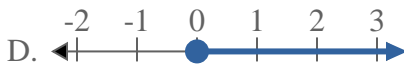
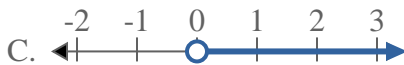
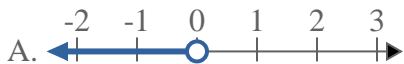
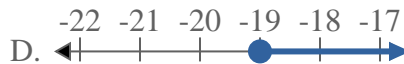
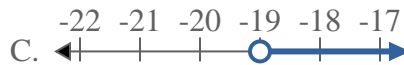




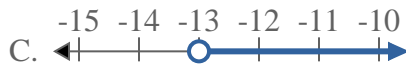
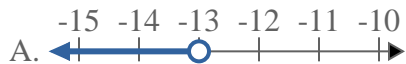
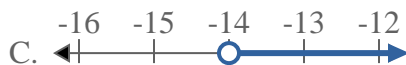
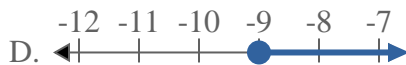
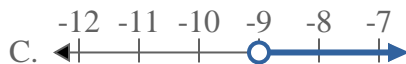
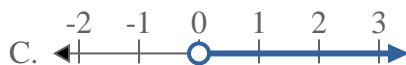
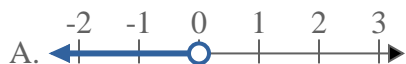
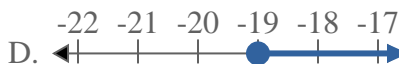
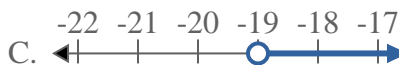
Resuelve cada problema.

Respuestas1) ¿Qué opción representa mejor $X \leq -13$?2) ¿Qué opción representa mejor $X \geq 20$?3) ¿Qué opción representa mejor $X < -14$?4) ¿Qué opción representa mejor $X < -3$?5) ¿Qué opción representa mejor $X > -9$?6) ¿Qué opción representa mejor $X \geq 7$?7) ¿Qué opción representa mejor $X \leq 0$?8) ¿Qué opción representa mejor $X \geq -19$?

1. _____
2. _____
3. _____
4. _____
5. _____
6. _____
7. _____
8. _____



Resuelve cada problema.

Respuestas1) ¿Qué opción representa mejor $X \leq -13$?2) ¿Qué opción representa mejor $X \geq 20$?3) ¿Qué opción representa mejor $X < -14$?4) ¿Qué opción representa mejor $X < -3$?5) ¿Qué opción representa mejor $X > -9$?6) ¿Qué opción representa mejor $X \geq 7$?7) ¿Qué opción representa mejor $X \leq 0$?8) ¿Qué opción representa mejor $X \geq -19$?1. **B** 2. **D** 3. **A** 4. **A** 5. **C** 6. **D** 7. **B** 8. **D**