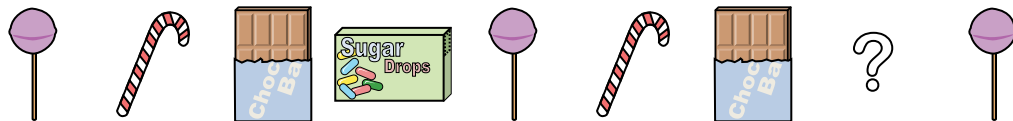




Determinar que letra completa mejor el patrón.

Respuestas

1) Determinar que letra completa mejor el patrón.



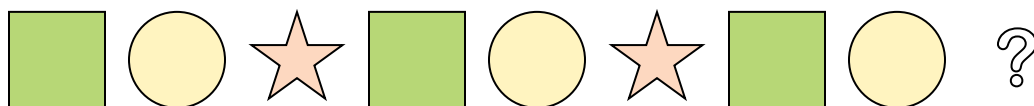
- A.
- B.
- C.
- D.

2) Determinar que letra completa mejor el patrón.



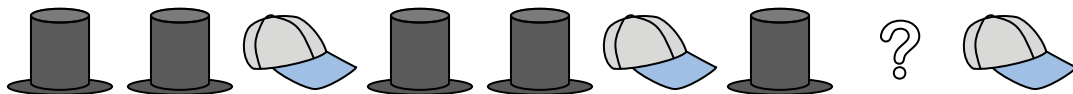
- A.
- B.
- C.
- D.

3) Determinar que letra completa mejor el patrón.



- A.
- B.
- C.
- D.

4) Determinar que letra completa mejor el patrón.



- A.
- B.
- C.
- D.

5) Determinar que letra completa mejor el patrón.



- A.
- B.
- C.
- D.

1. _____

2. _____

3. _____

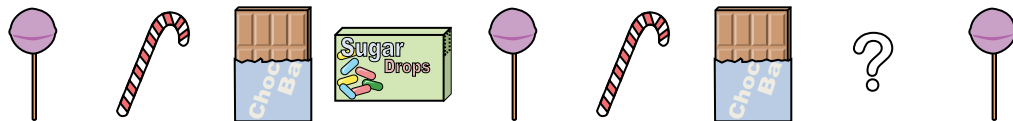
4. _____

5. _____



Determinar que letra completa mejor el patrón.

1) Determinar que letra completa mejor el patrón.




- A.
- B.
- C.
- D.

2) Determinar que letra completa mejor el patrón.



- A.
- B.
- C.
- D.

3) Determinar que letra completa mejor el patrón.



- A.
- B.
- C.
- D.

4) Determinar que letra completa mejor el patrón.



- A.
- B.
- C.
- D.

5) Determinar que letra completa mejor el patrón.



- A.
- B.
- C.
- D.

Respuestas

1. **C**

2. **D**

3. **A**

4. **C**

5. **C**