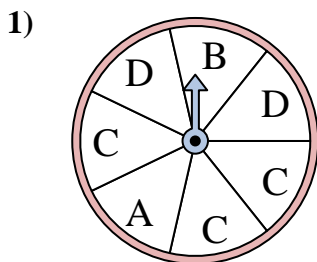


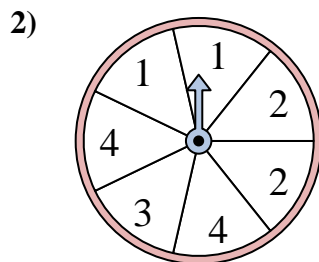


Resuelve cada problema. Redondea tu respuesta a la décima más cercana.

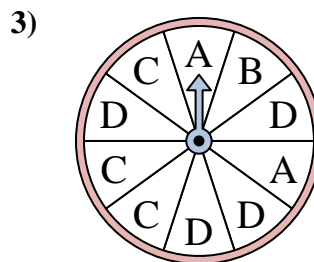
**Respuestas**



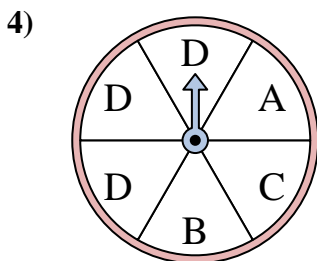
La ruleta tiene un% {EN} {BLANCO} de posibilidades de aterrizar en un D.



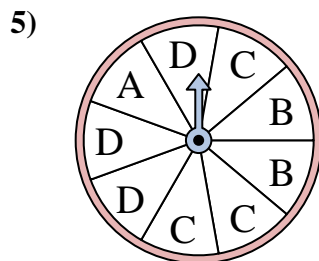
La ruleta tiene un% {EN} {BLANCO} de posibilidades de aterrizar en un 3.



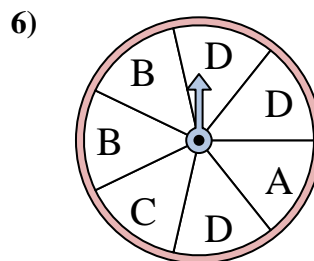
La ruleta tiene un% {EN} {BLANCO} de posibilidades de aterrizar en un B.



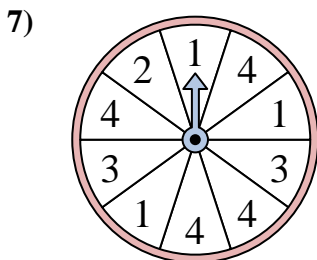
La ruleta tiene un% {EN} {BLANCO} de posibilidades de aterrizar en un B.



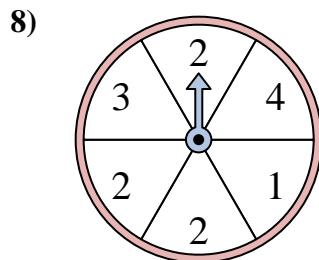
La ruleta tiene un% {EN} {BLANCO} de posibilidades de aterrizar en un C.



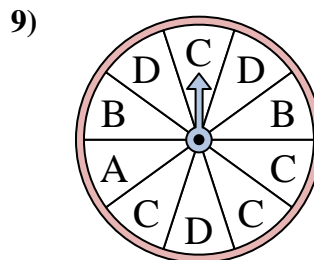
La ruleta tiene un% {EN} {BLANCO} de posibilidades de aterrizar en un B.



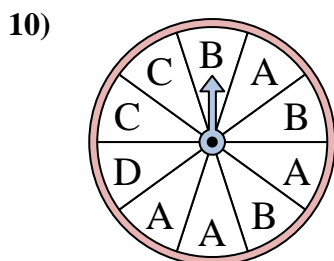
La ruleta tiene un% {EN} {BLANCO} de posibilidades de aterrizar en un 4.



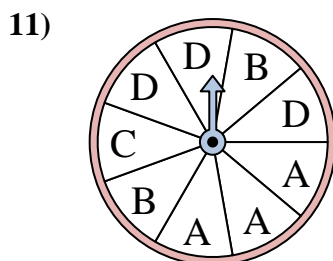
La ruleta tiene un% {EN} {BLANCO} de posibilidades de aterrizar en un 1.



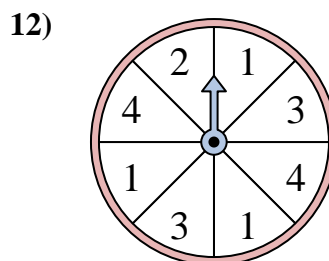
La ruleta tiene un% {EN} {BLANCO} de posibilidades de aterrizar en un C.



La ruleta tiene un% {EN} {BLANCO} de posibilidades de aterrizar en un D.



La ruleta tiene un% {EN} {BLANCO} de posibilidades de aterrizar en un B.



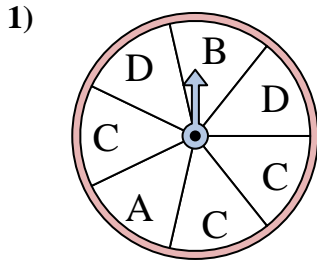
La ruleta tiene un% {EN} {BLANCO} de posibilidades de aterrizar en un 4.

1. \_\_\_\_\_
2. \_\_\_\_\_
3. \_\_\_\_\_
4. \_\_\_\_\_
5. \_\_\_\_\_
6. \_\_\_\_\_
7. \_\_\_\_\_
8. \_\_\_\_\_
9. \_\_\_\_\_
10. \_\_\_\_\_
11. \_\_\_\_\_
12. \_\_\_\_\_

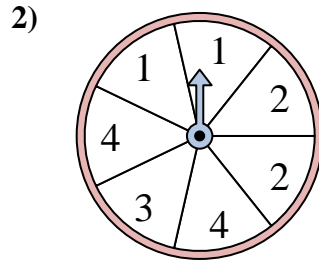


Resuelve cada problema. Redondea tu respuesta a la décima más cercana.

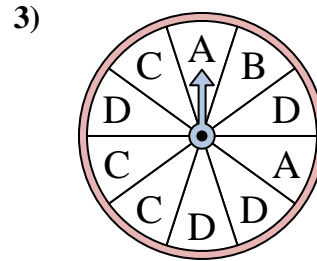
**Respuestas**



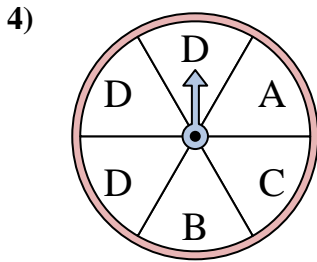
La ruleta tiene un% {EN} {BLANCO} de posibilidades de aterrizar en un D.



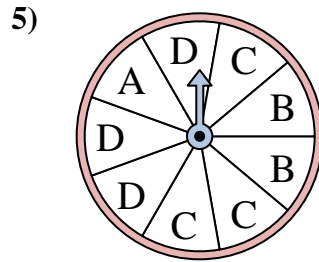
La ruleta tiene un% {EN} {BLANCO} de posibilidades de aterrizar en un 3.



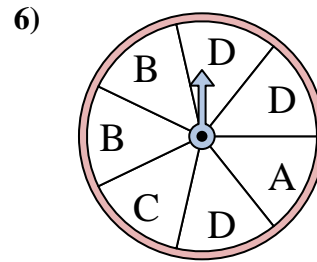
La ruleta tiene un% {EN} {BLANCO} de posibilidades de aterrizar en un B.



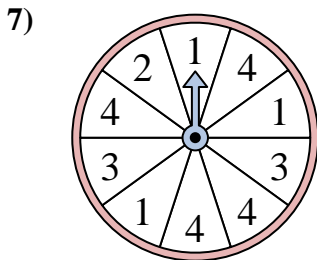
La ruleta tiene un% {EN} {BLANCO} de posibilidades de aterrizar en un B.



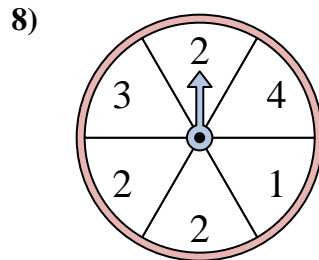
La ruleta tiene un% {EN} {BLANCO} de posibilidades de aterrizar en un C.



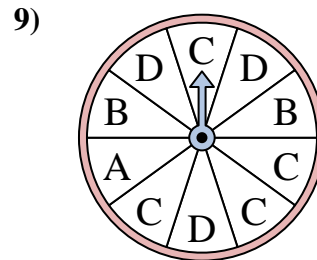
La ruleta tiene un% {EN} {BLANCO} de posibilidades de aterrizar en un B.



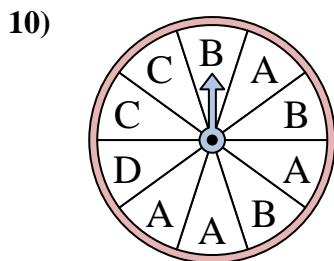
La ruleta tiene un% {EN} {BLANCO} de posibilidades de aterrizar en un 4.



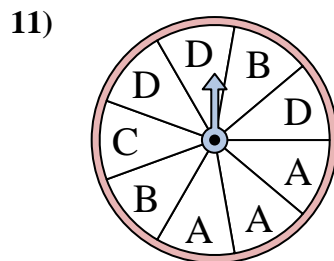
La ruleta tiene un% {EN} {BLANCO} de posibilidades de aterrizar en un 1.



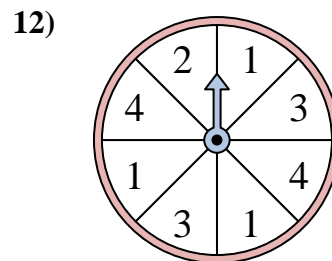
La ruleta tiene un% {EN} {BLANCO} de posibilidades de aterrizar en un C.



La ruleta tiene un% {EN} {BLANCO} de posibilidades de aterrizar en un D.



La ruleta tiene un% {EN} {BLANCO} de posibilidades de aterrizar en un B.



La ruleta tiene un% {EN} {BLANCO} de posibilidades de aterrizar en un 4.

- 1. 28.6
- 2. 14.3
- 3. 10
- 4. 16.7
- 5. 33.3
- 6. 28.6
- 7. 40
- 8. 16.7
- 9. 40
- 10. 10
- 11. 22.2
- 12. 25