




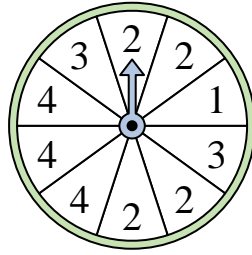
Resuelve cada problema.

**Respuestas**

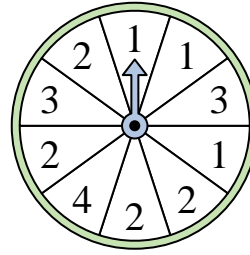
- 1) ¿En qué número es menos probable que caiga la ruleta?



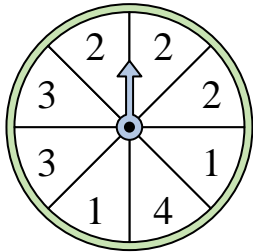
- 2) ¿En qué número es más probable que caiga la ruleta?



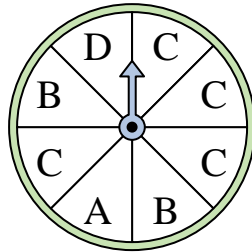
- 3) ¿En qué número es menos probable que caiga la ruleta?



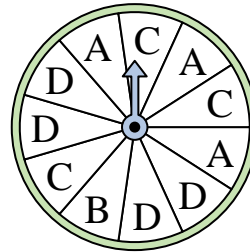
- 4) ¿En qué dos números es igualmente probable que caiga la ruleta?



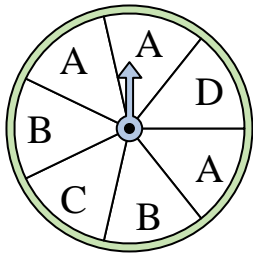
- 5) ¿En qué letra es más probable que caiga la ruleta?




- 6) ¿En qué letra es menos probable que caiga la ruleta?



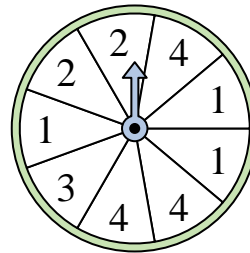
- 7) ¿En qué dos letras es igualmente probable que caiga la ruleta?



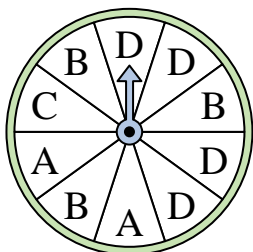
- 8) ¿En qué número es más probable que caiga la ruleta?



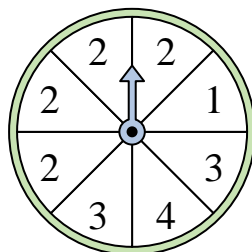
- 9) ¿En qué dos números es igualmente probable que caiga la ruleta?



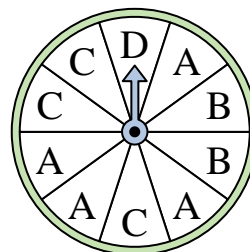
- 10) ¿En qué letra es menos probable que caiga la ruleta?



- 11) ¿En qué número es más probable que caiga la ruleta?



- 12) ¿En qué letra es menos probable que caiga la ruleta?




1. \_\_\_\_\_
2. \_\_\_\_\_
3. \_\_\_\_\_
4. \_\_\_\_\_
5. \_\_\_\_\_
6. \_\_\_\_\_
7. \_\_\_\_\_
8. \_\_\_\_\_
9. \_\_\_\_\_
10. \_\_\_\_\_
11. \_\_\_\_\_
12. \_\_\_\_\_

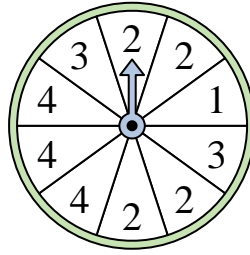


Resuelve cada problema.

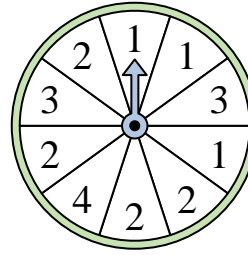
- 1) ¿En qué número es menos probable que caiga la ruleta?



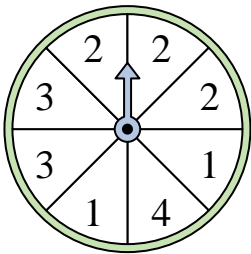
- 2) ¿En qué número es más probable que caiga la ruleta?



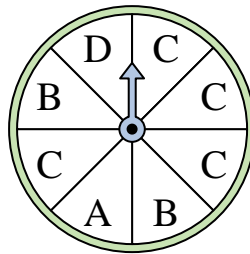
- 3) ¿En qué número es menos probable que caiga la ruleta?



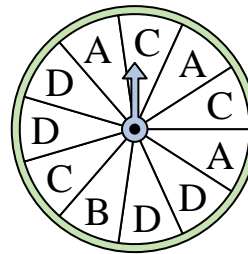
- 4) ¿En qué dos números es igualmente probable que caiga la ruleta?



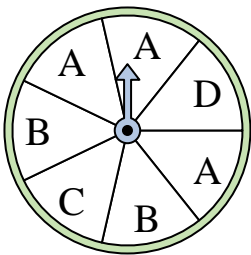
- 5) ¿En qué letra es más probable que caiga la ruleta?




- 6) ¿En qué letra es menos probable que caiga la ruleta?



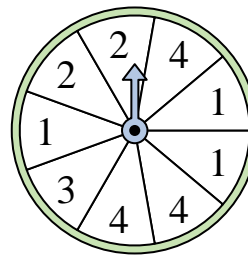
- 7) ¿En qué dos letras es igualmente probable que caiga la ruleta?



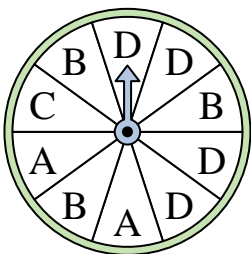
- 8) ¿En qué número es más probable que caiga la ruleta?



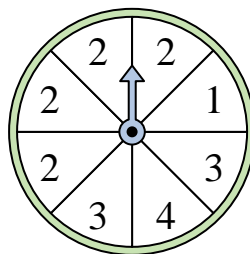
- 9) ¿En qué dos números es igualmente probable que caiga la ruleta?



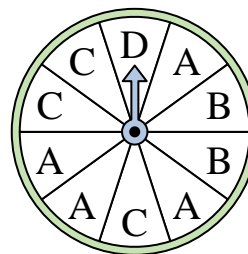
- 10) ¿En qué letra es menos probable que caiga la ruleta?



- 11) ¿En qué número es más probable que caiga la ruleta?



- 12) ¿En qué letra es menos probable que caiga la ruleta?



**Respuestas**

1. 2
2. 2
3. 4
4. 1 & 3
5. C
6. B
7. C & D
8. 3
9. 1 & 4
10. C
11. 2
12. D