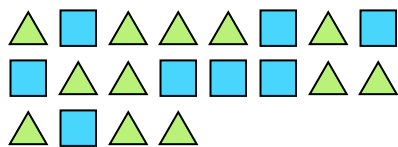





Resuelve cada problema.

Ej) ¿Cuál es la relación de triángulos a cuadros?



1) ¿Cuál es la relación de estrellas a cuadros?



Respuestas

Ej. **12:8**


2) ¿Cuál es la relación de moons a estrellas?



3) ¿Cuál es la relación de moons a estrellas?



4) ¿Cuál es la relación de estrellas a hearts?



5) ¿Cuál es la relación de triángulos a hearts?



6) ¿Cuál es la relación de hearts a moons?



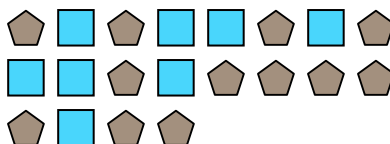
7) ¿Cuál es la relación de hearts a estrellas?



8) ¿Cuál es la relación de hearts a círculos?




9) ¿Cuál es la relación de cuadros a pentagonos?



10) ¿Cuál es la relación de hearts a pentagonos?



11) ¿Cuál es la relación de cuadros a estrellas?



- 1. _____
- 2. _____
- 3. _____
- 4. _____
- 5. _____
- 6. _____
- 7. _____
- 8. _____
- 9. _____
- 10. _____
- 11. _____

