





Resuelve cada problema.

Ej) ¿Cuál es la relación de triángulos a moons?




1) ¿Cuál es la relación de triángulos a moons?



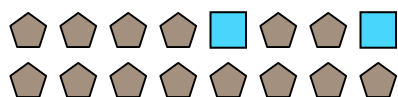
2) ¿Cuál es la relación de moons a estrellas?




3) ¿Cuál es la relación de hearts a triángulos?




4) ¿Cuál es la relación de pentagonos a cuadros?



5) ¿Cuál es la relación de circulos a moons?



6) ¿Cuál es la relación de circulos a estrellas?



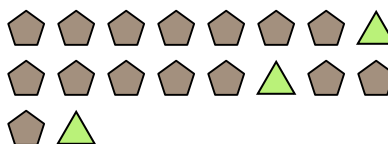
7) ¿Cuál es la relación de pentagonos a estrellas?



8) ¿Cuál es la relación de moons a circulos?




9) ¿Cuál es la relación de pentagonos a triángulos?



10) ¿Cuál es la relación de cuadros a pentagonos?



11) ¿Cuál es la relación de circulos a hearts?



**Respuestas**

Ej. **15:15**

1. \_\_\_\_\_

2. \_\_\_\_\_

3. \_\_\_\_\_

4. \_\_\_\_\_

5. \_\_\_\_\_

6. \_\_\_\_\_

7. \_\_\_\_\_

8. \_\_\_\_\_

9. \_\_\_\_\_

10. \_\_\_\_\_

11. \_\_\_\_\_

