



Usar las rectas numéricas para redondear cada número al 100 más cercano.

Ej)

22,128



1)

7,798



2)

73,791



3)

48,807



4)

1,381



5)

746



6)

140



7)

904



8)

93,445



9)

4,176



10)

369



Respuestas

Ej. 22,100

1. _____

2. _____

3. _____

4. _____

5. _____

6. _____

7. _____

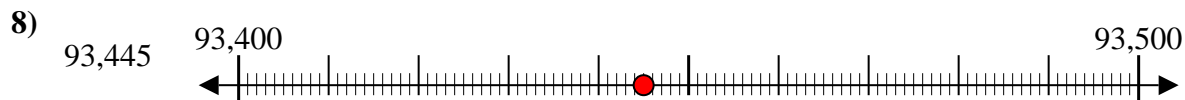
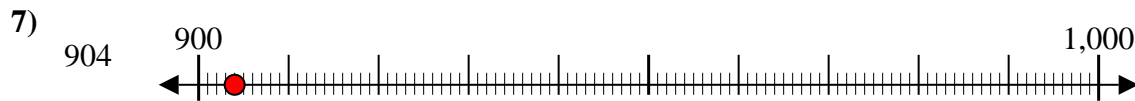
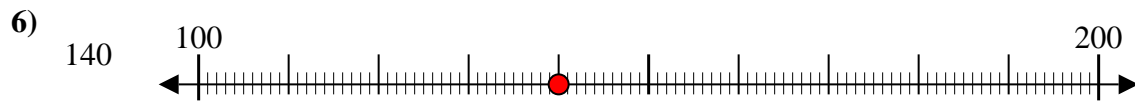
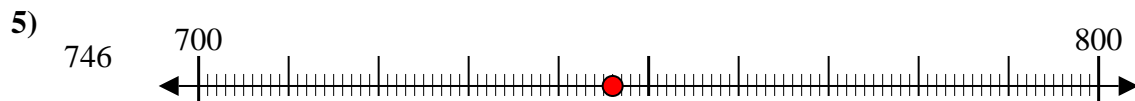
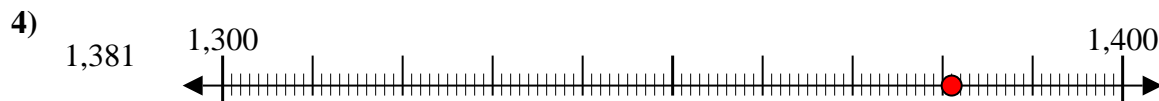
8. _____

9. _____

10. _____



Usar las rectas numéricas para redondear cada número al 100 más cercano.



Respuestas

Ej. 22,100

1. 7,800

2. 73,800

3. 48,800

4. 1,400

5. 700

6. 100

7. 900

8. 93,400

9. 4,200

10. 400