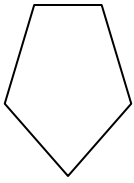




Determine qué letra representa MEJOR las formas que se utilizaron para crear la figura que se muestra.

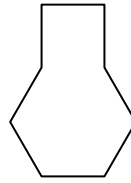
Respuestas

1)



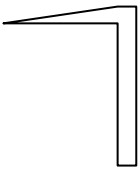
- A. hexágono & triangle
- B. cuadrilátero & triangle
- C. rectangle & pentágono
- D. rectangle & octágonos

2)



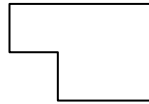
- A. pentágono & square
- B. square & heptágono
- C. hexágono & square
- D. square & triangle

3)




- A. cuadrilátero & triangle
- B. square & cuadrilátero
- C. heptágono & octágonos
- D. hexágono & heptágono

4)



- A. rectangle & square
- B. hexágono & square
- C. cuadrilátero & octágonos
- D. rectangle & triangle

5)



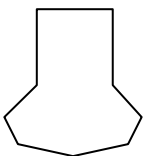
- A. triangle & triangle
- B. rectangle & hexágono
- C. pentágono & cuadrilátero
- D. rectangle & cuadrilátero

6)



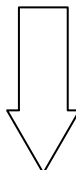
- A. cuadrilátero & hexágono
- B. cuadrilátero & heptágono
- C. hexágono & cuadrilátero
- D. cuadrilátero & triangle

7)



- A. heptágono & rectangle
- B. square & rectangle
- C. heptágono & cuadrilátero
- D. pentágono & octágonos

8)



- A. hexágono & octágonos
- B. octágonos & square
- C. triangle & pentágono
- D. rectangle & triangle

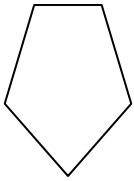
- 1. _____
- 2. _____
- 3. _____
- 4. _____
- 5. _____
- 6. _____
- 7. _____
- 8. _____



Determine qué letra representa **MEJOR** las formas que se utilizaron para crear la figura que se muestra.

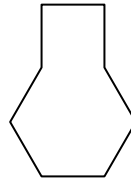
Respuestas

1)



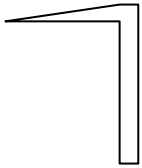
- A. hexágono & triangle
- B. cuadrilátero & triangle
- C. rectangle & pentágono
- D. rectangle & octágonos

2)



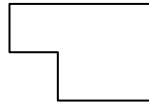
- A. pentágono & square
- B. square & heptágono
- C. hexágono & square
- D. square & triangle

3)




- A. cuadrilátero & triangle
- B. square & cuadrilátero
- C. heptágono & octágonos
- D. hexágono & heptágono

4)



- A. rectangle & square
- B. hexágono & square
- C. cuadrilátero & octágonos
- D. rectangle & triangle

5)



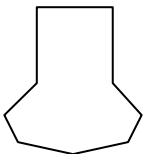
- A. triangle & triangle
- B. rectangle & hexágono
- C. pentágono & cuadrilátero
- D. rectangle & cuadrilátero

6)



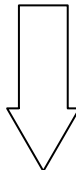
- A. cuadrilátero & hexágono
- B. cuadrilátero & heptágono
- C. hexágono & cuadrilátero
- D. cuadrilátero & triangle

7)



- A. heptágono & rectangle
- B. square & rectangle
- C. heptágono & cuadrilátero
- D. pentágono & octágonos

8)



- A. hexágono & octágonos
- B. octágonos & square
- C. triangle & pentágono
- D. rectangle & triangle

1. **B**2. **C**3. **A**4. **A**5. **A**6. **C**7. **C**8. **D**