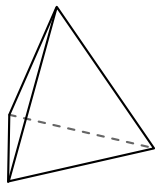




Usar el diagrama para determinar las caras, vértices y bordes de las figuras.

Respuestas

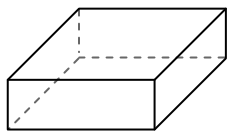
1)



pirámide triangular

caras: _____
vértices: _____
bordes: _____

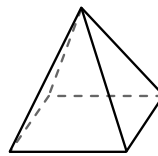
2)



prisma rectangular

caras: _____
vértices: _____
bordes: _____

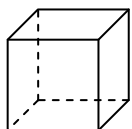
3)



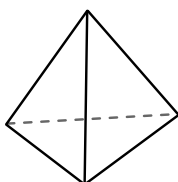
pirámide rectangular

caras: _____
vértices: _____
bordes: _____

4)



cube




pirámide triangular

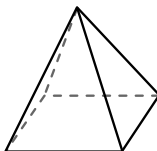
¿Qué forma tiene más caras?

- A.cube
- B.pirámide triangular
- C.Ambos tienen el mismo número de caras.

5)



esfera

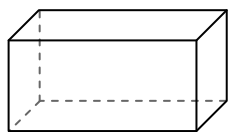


pirámide rectangular


¿Qué forma tiene más vértices?

- A.esfera
- B.pirámide rectangular
- C.Ambos tienen el mismo número de vértices.

6)



prisma rectangular



esfera

¿Qué forma tiene más bordes?

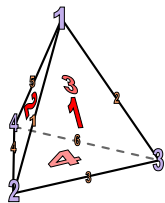
- A.prisma rectangular
- B.esfera
- C.Ambos tienen el mismo número de bordes.

- 1. _____
- 2. _____
- 3. _____
- 4. _____
- 5. _____
- 6. _____



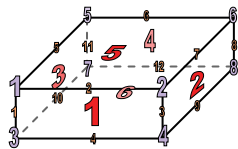
Usar el diagrama para determinar las caras, vértices y bordes de las figuras.

1)



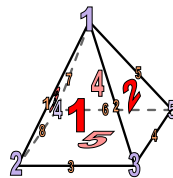
pirámide triangular
 caras: 4
 vértices: 4
 bordes: 6

2)



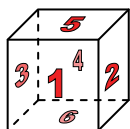
prisma rectangular
 caras: 6
 vértices: 8
 bordes: 12

3)

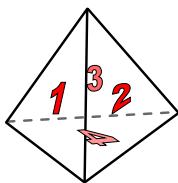


pirámide rectangular
 caras: 5
 vértices: 5
 bordes: 8

4)



cube




pirámide triangular

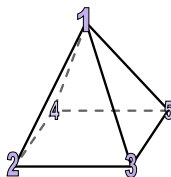
¿Qué forma tiene más caras?

- A.cube
- B.pirámide triangular
- C.Ambos tienen el mismo número de caras.

5)



esfera

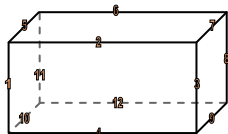


pirámide rectangular


¿Qué forma tiene más vértices?

- A.esfera
- B.pirámide rectangular
- C.Ambos tienen el mismo número de vértices.

6)



prisma rectangular



esfera

¿Qué forma tiene más bordes?

- A.prisma rectangular
- B.esfera
- C.Ambos tienen el mismo número de bordes.

Respuestas

1. 4, 4, 6

2. 6, 8, 12

3. 5, 5, 8

4. A

5. B

6. A