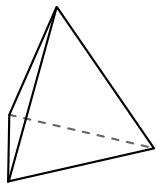




Usar el diagrama para determinar las caras, vértices y bordes de las figuras.

Respuestas

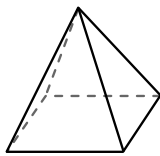
1)



pirámide triangular

caras: _____
vértices: _____
bordes: _____

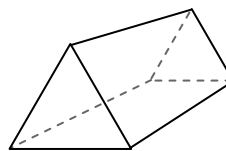
2)



pirámide rectangular

caras: _____
vértices: _____
bordes: _____

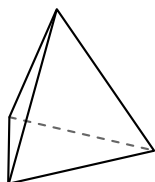
3)



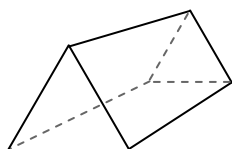
prisma triangular

caras: _____
vértices: _____
bordes: _____

4)



pirámide triangular

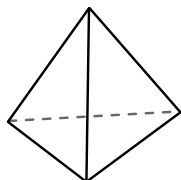


prisma triangular


¿Qué forma tiene más caras?

- A.pirámide triangular
- B.prisma triangular
- C.Ambos tienen el mismo número de caras.

5)



pirámide triangular




esfera

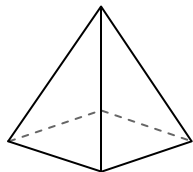
¿Qué forma tiene más vértices?

- A.pirámide triangular
- B.esfera
- C.Ambos tienen el mismo número de vértices.

6)



esfera



pirámide rectangular

¿Qué forma tiene más bordes?

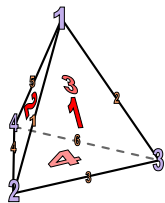
- A.esfera
- B.pirámide rectangular
- C.Ambos tienen el mismo número de bordes.

- 1. _____
- 2. _____
- 3. _____
- 4. _____
- 5. _____
- 6. _____



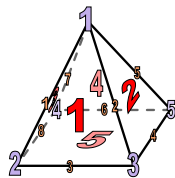
Usar el diagrama para determinar las caras, vértices y bordes de las figuras.

1)



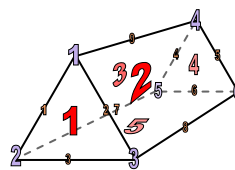
pirámide triangular
 caras: 4
 vértices: 3
 bordes: 6

2)



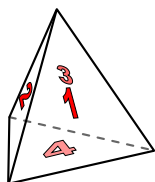
pirámide rectangular
 caras: 5
 vértices: 5
 bordes: 8

3)

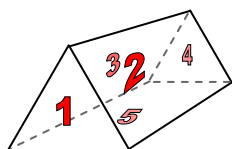


prisma triangular
 caras: 5
 vértices: 6
 bordes: 9

4)



pirámide triangular

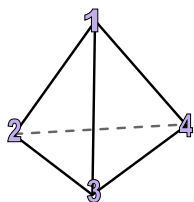


prisma triangular


¿Qué forma tiene más caras?

- A.pirámide triangular
- B.prisma triangular
- C.Ambos tienen el mismo número de caras.

5)



pirámide triangular




esfera

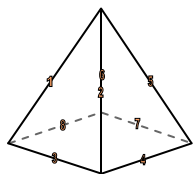
¿Qué forma tiene más vértices?

- A.pirámide triangular
- B.esfera
- C.Ambos tienen el mismo número de vértices.

6)



esfera



pirámide rectangular

¿Qué forma tiene más bordes?

- A.esfera
- B.pirámide rectangular
- C.Ambos tienen el mismo número de bordes.

Respuestas

1. 4, 4, 6

2. 5, 5, 8

3. 5, 6, 9

4. B

5. A

6. B