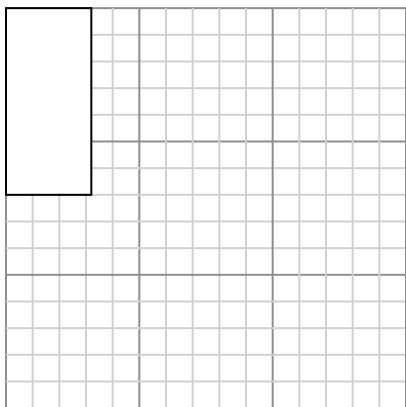





Dibuja cada rectángulo a la escala que se muestra y determinar las nuevas dimensiones.

- 1) The rectangle below has the dimensions: 3.2×7




Cree otro rectángulo que esté escalado a 4 multiplicado por el tamaño del rectángulo actual.

- 3) The rectangle below has the dimensions: 3.3×2.4



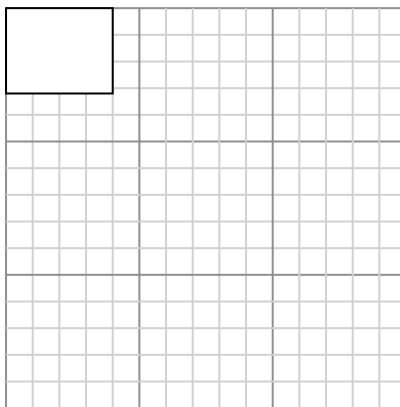
Cree otro rectángulo que esté escalado a 9 multiplicado por el tamaño del rectángulo actual.

- 5) The rectangle below has the dimensions: 4.4×2



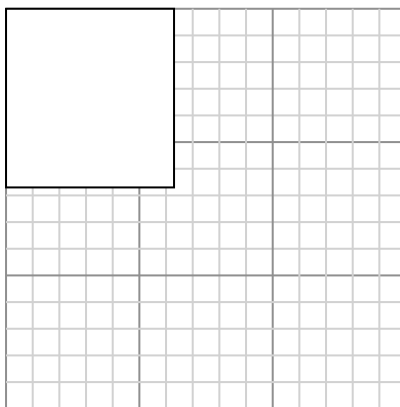
Cree otro rectángulo que esté escalado a 9 multiplicado por el tamaño del rectángulo

- 2) The rectangle below has the dimensions: 4×3.2



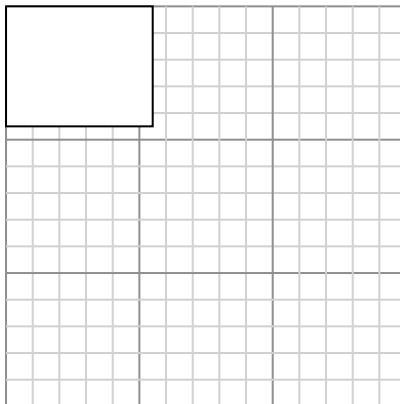
Cree otro rectángulo que esté escalado a 9 multiplicado por el tamaño del rectángulo actual.

- 4) The rectangle below has the dimensions: 6.3×6.7



Cree otro rectángulo que esté escalado a 4 multiplicado por el tamaño del rectángulo actual.

- 6) The rectangle below has the dimensions: 5.5×4.5



Cree otro rectángulo que esté escalado a 4 multiplicado por el tamaño del rectángulo

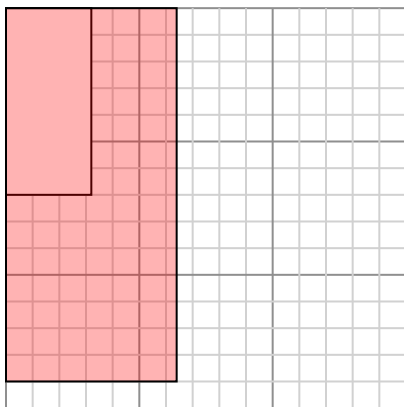
Respuestas

- 1. _____
- 2. _____
- 3. _____
- 4. _____
- 5. _____
- 6. _____



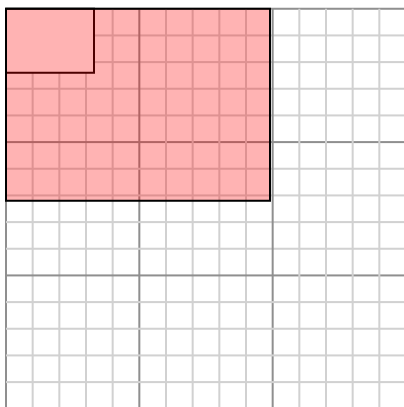
Dibuja cada rectángulo a la escala que se muestra y determinar las nuevas dimensiones.

- 1) The rectangle below has the dimensions:
 3.2×7



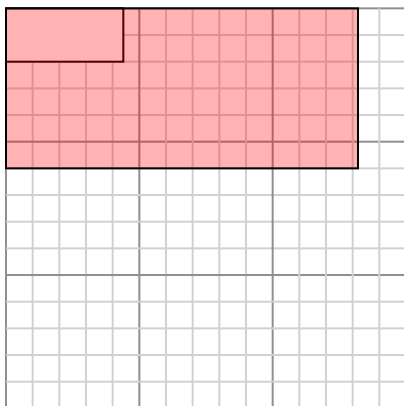
Cree otro rectángulo que esté escalado a 4 multiplicado por el tamaño del rectángulo actual.

- 3) The rectangle below has the dimensions:
 3.3×2.4



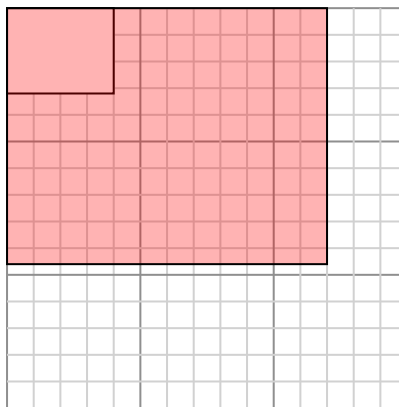
Cree otro rectángulo que esté escalado a 9 multiplicado por el tamaño del rectángulo actual.

- 5) The rectangle below has the dimensions:
 4.4×2



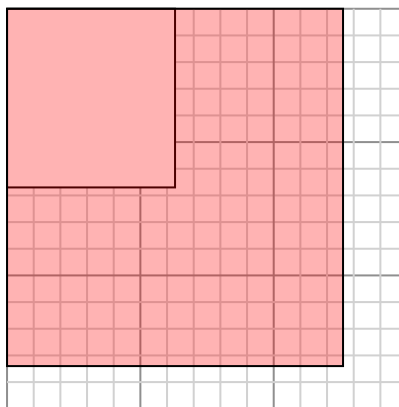
Cree otro rectángulo que esté escalado a 9 multiplicado por el tamaño del rectángulo

- 2) The rectangle below has the dimensions:
 4×3.2



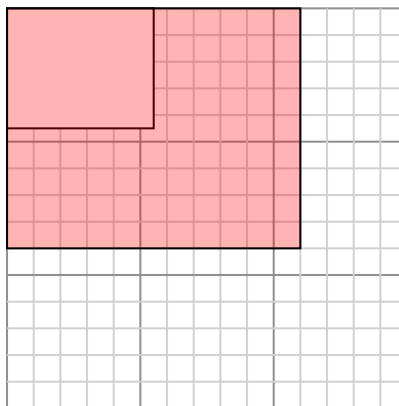
Cree otro rectángulo que esté escalado a 9 multiplicado por el tamaño del rectángulo actual.

- 4) The rectangle below has the dimensions:
 6.3×6.7



Cree otro rectángulo que esté escalado a 4 multiplicado por el tamaño del rectángulo actual.

- 6) The rectangle below has the dimensions:
 5.5×4.5



Cree otro rectángulo que esté escalado a 4 multiplicado por el tamaño del rectángulo

Respuestas

1. **6.4×14**

2. **12×9.6**

3. **9.9×7.2**

4. **12.6×13.4**

5. **13.2×6**

6. **11×9**