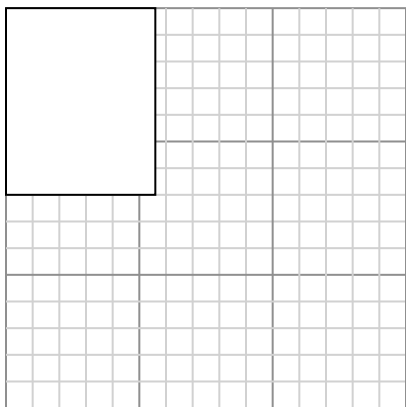





Dibuja cada rectángulo a la escala que se muestra y determinar las nuevas dimensiones.

- 1) The rectangle below has the dimensions:
 5.6×7



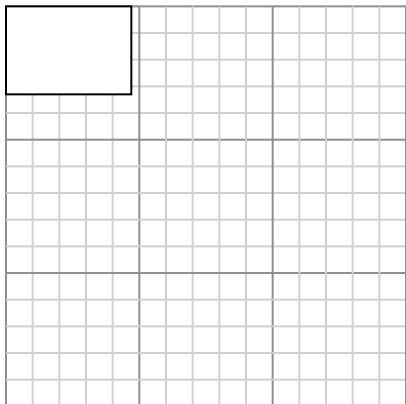
Cree otro rectángulo que esté escalado a 4 multiplicado por el tamaño del rectángulo actual.

- 3) The rectangle below has the dimensions:
 2.8×3



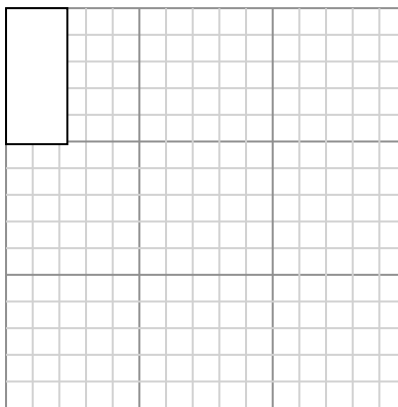
Cree otro rectángulo que esté escalado a 16 multiplicado por el tamaño del rectángulo actual.

- 5) The rectangle below has the dimensions:
 4.7×3.3



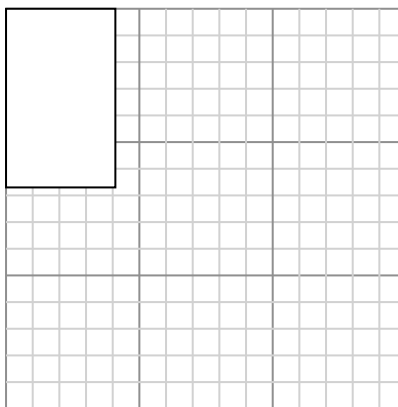
Cree otro rectángulo que esté escalado a 9 multiplicado por el tamaño del rectángulo

- 2) The rectangle below has the dimensions:
 2.3×5.1




Cree otro rectángulo que esté escalado a 4 multiplicado por el tamaño del rectángulo actual.

- 4) The rectangle below has the dimensions:
 4.1×6.7



Cree otro rectángulo que esté escalado a 4 multiplicado por el tamaño del rectángulo actual.

- 6) The rectangle below has the dimensions:
 2.4×2.6



Cree otro rectángulo que esté escalado a 16 multiplicado por el tamaño del

Respuestas

1. _____

2. _____

3. _____

4. _____

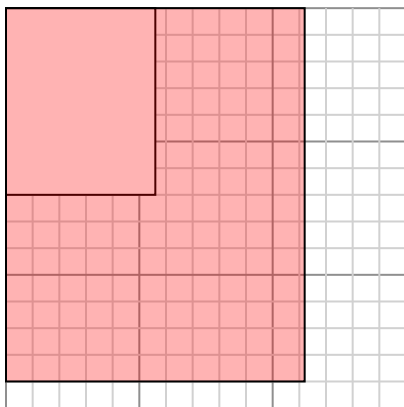
5. _____

6. _____



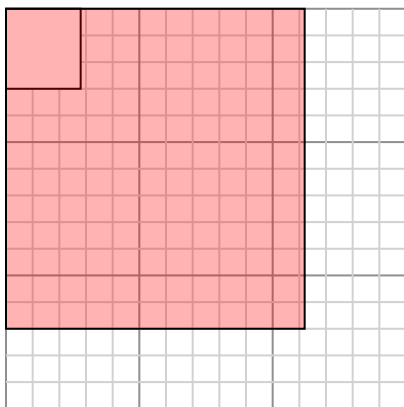
Dibuja cada rectángulo a la escala que se muestra y determinar las nuevas dimensiones.

- 1) The rectangle below has the dimensions: 5.6×7



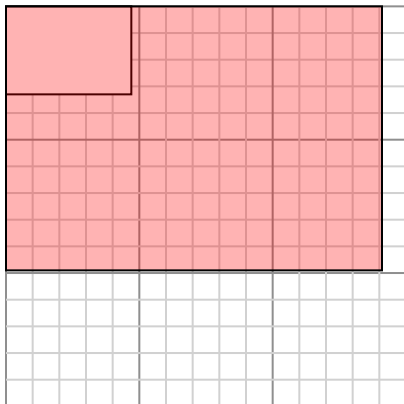
Cree otro rectángulo que esté escalado a 4 multiplicado por el tamaño del rectángulo actual.

- 3) The rectangle below has the dimensions: 2.8×3



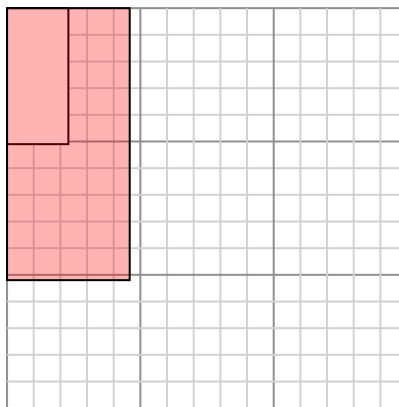
Cree otro rectángulo que esté escalado a 16 multiplicado por el tamaño del rectángulo actual.

- 5) The rectangle below has the dimensions: 4.7×3.3



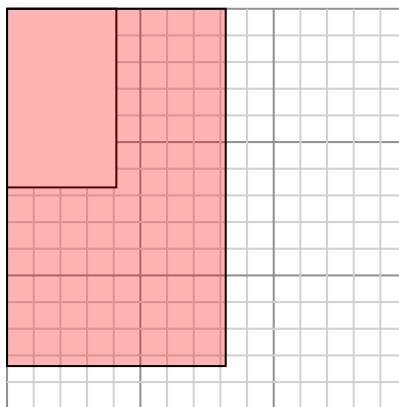
Cree otro rectángulo que esté escalado a 9 multiplicado por el tamaño del rectángulo

- 2) The rectangle below has the dimensions: 2.3×5.1



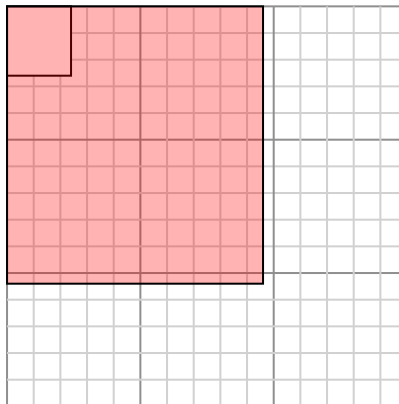
Cree otro rectángulo que esté escalado a 4 multiplicado por el tamaño del rectángulo actual.

- 4) The rectangle below has the dimensions: 4.1×6.7



Cree otro rectángulo que esté escalado a 4 multiplicado por el tamaño del rectángulo actual.

- 6) The rectangle below has the dimensions: 2.4×2.6



Cree otro rectángulo que esté escalado a 16 multiplicado por el tamaño del

Respuestas

1. 11.2×14

2. 4.6×10.2

3. 11.2×12

4. 8.2×13.4

5. 14.1×9.9

6. 9.6×10.4