



Determinar si la figura se está trasladando (deslizando), rotando (girando) o reflejando (volteando)

Respuestas


1)



2)



3)



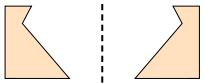
1. _____

2. _____

3. _____

4. _____


4)



5)



6)




5. _____

6. _____

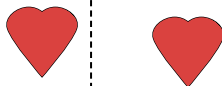
7. _____

8. _____

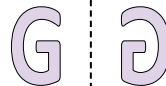
7)



8)



9)



9. _____

10. _____

11. _____

12. _____

10)



11)



12)



13. _____

14. _____

15. _____

13)



14)



15)





Determinar si la figura se está trasladando (deslizando), rotando (girando) o reflejando (volteando)

1)



2)



3)



1.

deslizando

2.

girando

3.

deslizando

4.

volteando

5.

girando

6.

deslizando

7.

volteando

8.

deslizando

9.

volteando

10.

deslizando

11.

deslizando

12.

girando

13.

girando

14.

girando

15.

volteando

4)



5)



6)



7)



8)



9)



10)



11)



12)



13)



14)



15)

