



Determinar el valor de cada grupo de líneas de conteo.

Respuestas

1)

1. _____

2)

2. _____

3)

3. _____

4)

4. _____

5)

5. _____

6)

6. _____

7)

7. _____

8)

8. _____

9)

9. _____

10)

10. _____

11)

11. _____

12)

12. _____

13)

13. _____

14)

14. _____

15)

15. _____

16)

16. _____

17)

17. _____

18)

18. _____



Determinar el valor de cada grupo de líneas de conteo.

Respuestas

1)

1. 38

2)

2. 24

3)

3. 35

4)

4. 25

5)

5. 7

6)

6. 50

7)

7. 26

8)

8. 39

9)

9. 46

10)

10. 33

11)

11. 18

12)

12. 43

13)

13. 14

14)

14. 41

15)

15. 49

16)

16. 29

17)

17. 19

18)

18. 13



Determinar el valor de cada grupo de líneas de conteo.

Respuestas

1)

1. _____

2)

2. _____

3)

3. _____

4)

4. _____

5)

5. _____

6)

6. _____

7)

7. _____

8)

8. _____

9)

9. _____

10)

10. _____

11)

11. _____

12)

12. _____

13)

13. _____

14)

14. _____

15)

15. _____

16)

16. _____

17)

17. _____





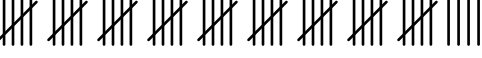
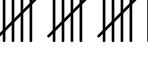

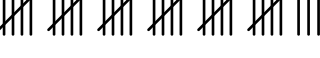

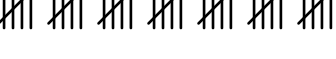



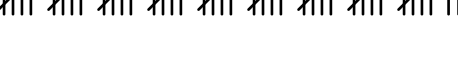




18)

18. _____



Determinar el valor de cada grupo de líneas de conteo.

Respuestas

- | | |
|---|---------------|
| 1)  | 1. <u>17</u> |
| 2)  | 2. <u>28</u> |
| 3)  | 3. <u>44</u> |
| 4)  | 4. <u>40</u> |
| 5)  | 5. <u>49</u> |
| 6)  | 6. <u>16</u> |
| 7)  | 7. <u>37</u> |
| 8)  | 8. <u>33</u> |
| 9)  | 9. <u>14</u> |
| 10)  | 10. <u>35</u> |
| 11)  | 11. <u>32</u> |
| 12)  | 12. <u>7</u> |
| 13)  | 13. <u>6</u> |
| 14)  | 14. <u>47</u> |
| 15)  | 15. <u>24</u> |
| 16)  | 16. <u>48</u> |
| 17)  | 17. <u>8</u> |
| 18)  | 18. <u>29</u> |



Determinar el valor de cada grupo de líneas de conteo.

Respuestas

1)

1. _____

2)

2. _____

3)

3. _____

4)

4. _____

5)

5. _____

6)

6. _____

7)

7. _____

8)

8. _____

9)

9. _____

10)

10. _____

11)

11. _____

12)

12. _____

13)

13. _____

14)

14. _____

15)

15. _____

16)

16. _____

17)

17. _____



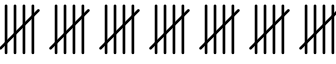

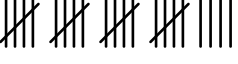
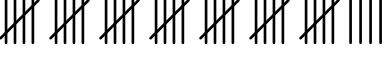

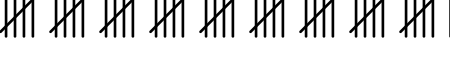
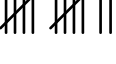


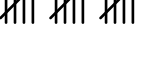


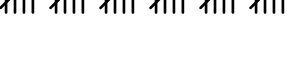



18)

18. _____



Determinar el valor de cada grupo de líneas de conteo.

Respuestas

1) 	1. <u>21</u>
2) 	2. <u>18</u>
3) 	3. <u>35</u>
4) 	4. <u>10</u>
5) 	5. <u>24</u>
6) 	6. <u>39</u>
7) 	7. <u>29</u>
8) 	8. <u>46</u>
9) 	9. <u>12</u>
10) 	10. <u>32</u>
11) 	11. <u>19</u>
12) 	12. <u>16</u>
13) 	13. <u>6</u>
14) 	14. <u>9</u>
15) 	15. <u>30</u>
16) 	16. <u>7</u>
17) 	17. <u>11</u>
18) 	18. <u>13</u>



Determinar el valor de cada grupo de líneas de conteo.

Respuestas

1)

1. _____

2)

2. _____

3)

3. _____

4)

4. _____

5)

5. _____

6)

6. _____

7)

7. _____

8)

8. _____

9)

9. _____

10)

10. _____

11)

11. _____

12)

12. _____

13)

13. _____

14)

14. _____

15)

15. _____

16)

16. _____

17)

17. _____





18)

18. _____



Determinar el valor de cada grupo de líneas de conteo.

Respuestas

1) 	1. <u>24</u>
2) 	2. <u>27</u>
3) 	3. <u>22</u>
4) 	4. <u>40</u>
5)	5. <u>21</u>
6)	6. <u>13</u>
7)	7. <u>45</u>
8)	8. <u>6</u>
9)	9. <u>16</u>
10)	10. <u>12</u>
11)	11. <u>19</u>
12)	12. <u>49</u>
13)	13. <u>34</u>
14)	14. <u>9</u>
15)	15. <u>41</u>
16)	16. <u>29</u>
17)	17. <u>23</u>
18)	18. <u>28</u>



Determinar el valor de cada grupo de líneas de conteo.

Respuestas

1)

1. _____

2)

2. _____

3)

3. _____

4)

4. _____

5)

5. _____

6)

6. _____

7)

7. _____

8)

8. _____

9)

9. _____

10)

10. _____

11)

11. _____

12)

12. _____

13)

13. _____

14)

14. _____

15)

15. _____

16)

16. _____

17)

17. _____




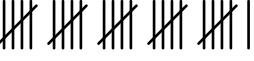
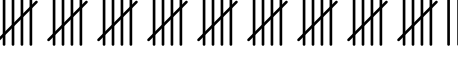


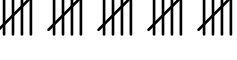


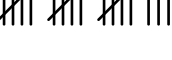







18)

18. _____



Determinar el valor de cada grupo de líneas de conteo.

Respuestas

1) 	1. <u>9</u>
2) 	2. <u>37</u>
3) 	3. <u>36</u>
4) 	4. <u>26</u>
5) 	5. <u>47</u>
6) 	6. <u>20</u>
7) 	7. <u>15</u>
8) 	8. <u>25</u>
9) 	9. <u>43</u>
10) 	10. <u>21</u>
11) 	11. <u>18</u>
12) 	12. <u>44</u>
13) 	13. <u>14</u>
14) 	14. <u>24</u>
15) 	15. <u>38</u>
16) 	16. <u>40</u>
17) 	17. <u>13</u>
18) 	18. <u>50</u>



Determinar el valor de cada grupo de líneas de conteo.

Respuestas

1)

1. _____

2)

2. _____

3)

3. _____

4)

4. _____

5)

5. _____

6)

6. _____

7)

7. _____

8)

8. _____

9)

9. _____

10)

10. _____

11)

11. _____

12)

12. _____

13)

13. _____

14)

14. _____

15)

15. _____

16)

16. _____

17)

17. _____

18)

18. _____



Determinar el valor de cada grupo de líneas de conteo.

Respuestas

1)	1. <u>13</u>
2)	2. <u>18</u>
3)	3. <u>44</u>
4)	4. <u>20</u>
5)	5. <u>23</u>
6)	6. <u>47</u>
7)	7. <u>26</u>
8)	8. <u>9</u>
9)	9. <u>48</u>
10)	10. <u>10</u>
11)	11. <u>16</u>
12)	12. <u>38</u>
13)	13. <u>30</u>
14)	14. <u>15</u>
15)	15. <u>45</u>
16)	16. <u>49</u>
17)	17. <u>56</u>
18)	18. <u>22</u>



Determinar el valor de cada grupo de líneas de conteo.

Respuestas

1)

1. _____

2)

2. _____

3)

3. _____

4)

4. _____

5)

5. _____

6)

6. _____

7)

7. _____

8)

8. _____

9)

9. _____

10)

10. _____

11)

11. _____

12)

12. _____

13)

13. _____

14)

14. _____

15)

15. _____

16)

16. _____

17)

17. _____

18)

18. _____



Determinar el valor de cada grupo de líneas de conteo.

Respuestas

1)	1. <u>10</u>
2)	2. <u>33</u>
3)	3. <u>45</u>
4)	4. <u>20</u>
5)	5. <u>42</u>
6)	6. <u>26</u>
7)	7. <u>39</u>
8)	8. <u>15</u>
9)	9. <u>11</u>
10)	10. <u>34</u>
11)	11. <u>13</u>
12)	12. <u>8</u>
13)	13. <u>41</u>
14)	14. <u>44</u>
15)	15. <u>25</u>
16)	16. <u>49</u>
17)	17. <u>12</u>
18)	18. <u>21</u>



Determinar el valor de cada grupo de líneas de conteo.

Respuestas

1)

1. _____

2)

2. _____

3)

3. _____

4)

4. _____

5)

5. _____

6)

6. _____

7)

7. _____

8)

8. _____

9)

9. _____

10)

10. _____

11)

11. _____

12)

12. _____

13)

13. _____

14)

14. _____

15)

15. _____

16)

16. _____

17)

17. _____

18)

18. _____



Determinar el valor de cada grupo de líneas de conteo.

Respuestas

1)	1. <u>15</u>
2)	2. <u>48</u>
3)	3. <u>21</u>
4)	4. <u>17</u>
5)	5. <u>8</u>
6)	6. <u>11</u>
7)	7. <u>43</u>
8)	8. <u>33</u>
9)	9. <u>37</u>
10)	10. <u>16</u>
11)	11. <u>46</u>
12)	12. <u>9</u>
13)	13. <u>7</u>
14)	14. <u>41</u>
15)	15. <u>38</u>
16)	16. <u>47</u>
17)	17. <u>27</u>
18)	18. <u>26</u>



Determinar el valor de cada grupo de líneas de conteo.

Respuestas

1)

1. _____

2)

2. _____

3)

3. _____

4)

4. _____

5)

5. _____

6)

6. _____

7)

7. _____

8)

8. _____

9)

9. _____

10)

10. _____

11)

11. _____

12)

12. _____

13)

13. _____

14)

14. _____

15)

15. _____

16)

16. _____

17)

17. _____

18)

18. _____



Determinar el valor de cada grupo de líneas de conteo.

Respuestas

1)	1. <u>19</u>
2)	2. <u>31</u>
3)	3. <u>34</u>
4)	4. <u>36</u>
5)	5. <u>16</u>
6)	6. <u>41</u>
7)	7. <u>20</u>
8)	8. <u>13</u>
9)	9. <u>7</u>
10)	10. <u>38</u>
11)	11. <u>50</u>
12)	12. <u>44</u>
13)	13. <u>15</u>
14)	14. <u>17</u>
15)	15. <u>48</u>
16)	16. <u>28</u>
17)	17. <u>27</u>
18)	18. <u>42</u>



Determinar el valor de cada grupo de líneas de conteo.

Respuestas

1) 

1. _____

2) 

2. _____

3) 

3. _____

4) 

4. _____

5) 

5. _____

6) 

6. _____

7) 

7. _____

8) 

8. _____

9) 

9. _____

10) 

10. _____

11) 


11. _____

12) 

12. _____

13) 

13. _____

14) 

14. _____

15) 


15. _____

16) 

16. _____

17) 

17. _____

18) 

18. _____



Determinar el valor de cada grupo de líneas de conteo.

Respuestas

1)

1. 49

2)

2. 7

3)

3. 31

4)

4. 44

5)

5. 23

6)

6. 19

7)

7. 17

8)

8. 35

9)

9. 32

10)

10. 50

11)

11. 40

12)

12. 12

13)

13. 9

14)

14. 13

15)

15. 30

16)

16. 15

17)

17. 47

18)

18. 6