



**Expresar cada número con líneas de conteo**

1) 61 \_\_\_\_\_

2) 35 \_\_\_\_\_

3) 49 \_\_\_\_\_

4) 15 \_\_\_\_\_

5) 52 \_\_\_\_\_

6) 16 \_\_\_\_\_

7) 75 \_\_\_\_\_

8) 12 \_\_\_\_\_

9) 11 \_\_\_\_\_


10) 31 \_\_\_\_\_

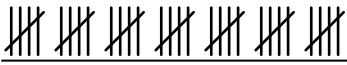
11) 37 \_\_\_\_\_

12) 87 \_\_\_\_\_



**Expresar cada número con líneas de conteo**

1) 61 

2) 35 


3) 49 

4) 15 

5) 52 


6) 16 

7) 75 

8) 12 

9) 11 

10) 31 

11) 37 

12) 87 