



Expresar cada número con líneas de conteo

1) 79 _____

2) 25 _____

3) 80 _____

4) 73 _____

5) 72 _____

6) 64 _____

7) 90 _____

8) 63 _____

9) 52 _____

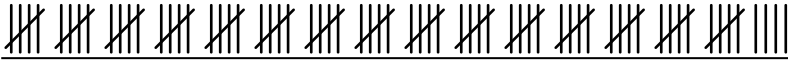
10) 84 _____

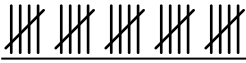
11) 92 _____

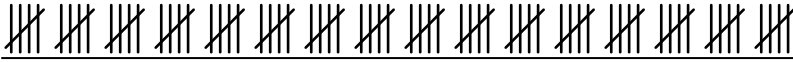
12) 56 _____



Expresar cada número con líneas de conteo

1) 79 

2) 25 

3) 80 

4) 73 

5) 72 

6) 64 

7) 90 

8) 63 

9) 52 

10) 84 

11) 92 

12) 56 