



Expresar cada número con líneas de conteo

1) 22 _____

2) 51 _____

3) 71 _____

4) 54 _____

5) 16 _____

6) 7 _____

7) 13 _____

8) 61 _____

9) 19 _____

10) 6 _____


11) 37 _____

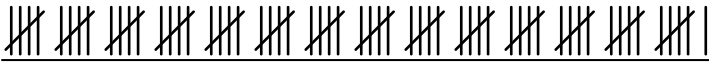
12) 34 _____



Expresar cada número con líneas de conteo

1) 22 

2) 51 

3) 71 


4) 54 

5) 16 

6) 7 

7) 13 

8) 61 

9) 19 

10) 6 

11) 37 

12) 34 