

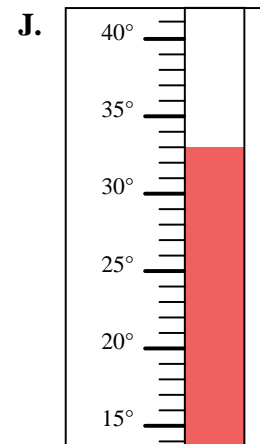
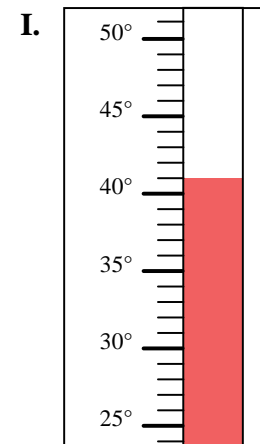
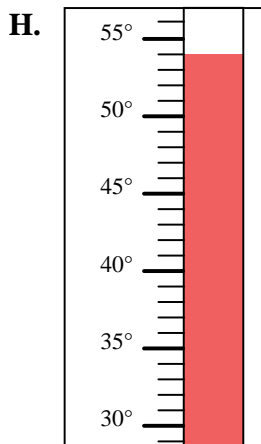
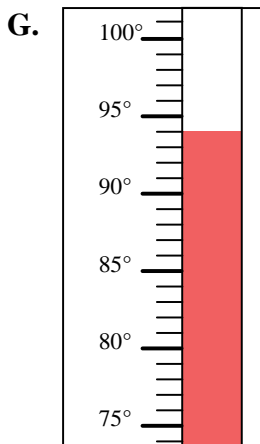
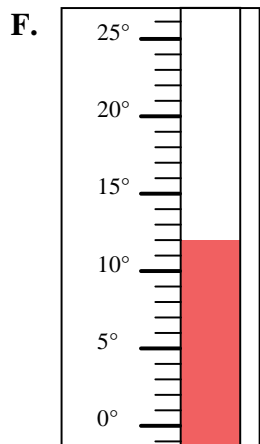
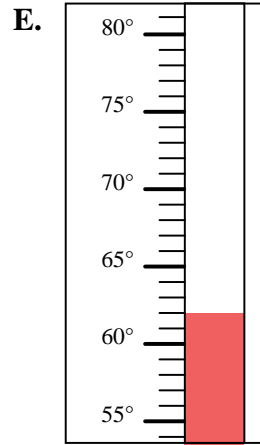
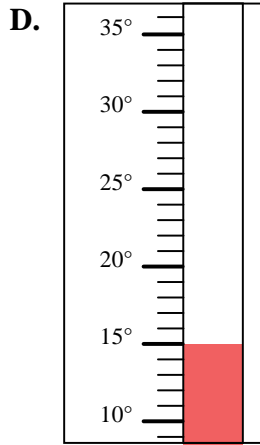
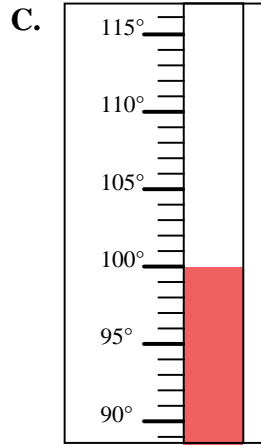
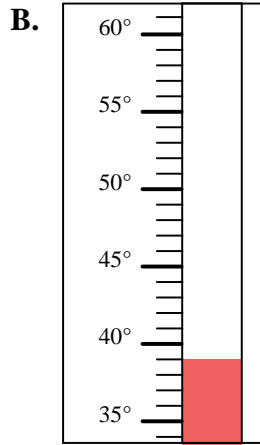
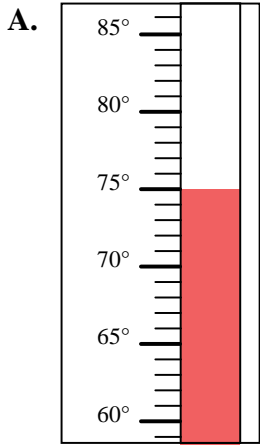


Determinar cuál letra responde mejor a cada pregunta.

Respuestas

- 1) ¿Qué termómetro representa mejor 39° de temperatura?
- 2) ¿Qué termómetro representa mejor 12° de temperatura?
- 3) ¿Qué termómetro representa mejor 75° de temperatura?
- 4) ¿Qué termómetro representa mejor 100° de temperatura?
- 5) ¿Qué termómetro representa mejor 33° de temperatura?
- 6) ¿Qué termómetro representa mejor 15° de temperatura?
- 7) ¿Qué termómetro representa mejor 94° de temperatura?
- 8) ¿Qué termómetro representa mejor 54° de temperatura?
- 9) ¿Qué termómetro representa mejor 62° de temperatura?
- 10) ¿Qué termómetro representa mejor 41° de temperatura?

1. \_\_\_\_\_
2. \_\_\_\_\_
3. \_\_\_\_\_
4. \_\_\_\_\_
5. \_\_\_\_\_
6. \_\_\_\_\_
7. \_\_\_\_\_
8. \_\_\_\_\_
9. \_\_\_\_\_
10. \_\_\_\_\_





Determinar cuál letra responde mejor a cada pregunta.

**Respuestas**

- 1) ¿Qué termómetro representa mejor  $39^\circ$  de temperatura?
- 2) ¿Qué termómetro representa mejor  $12^\circ$  de temperatura?
- 3) ¿Qué termómetro representa mejor  $75^\circ$  de temperatura?
- 4) ¿Qué termómetro representa mejor  $100^\circ$  de temperatura?
- 5) ¿Qué termómetro representa mejor  $33^\circ$  de temperatura?
- 6) ¿Qué termómetro representa mejor  $15^\circ$  de temperatura?
- 7) ¿Qué termómetro representa mejor  $94^\circ$  de temperatura?
- 8) ¿Qué termómetro representa mejor  $54^\circ$  de temperatura?
- 9) ¿Qué termómetro representa mejor  $62^\circ$  de temperatura?
- 10) ¿Qué termómetro representa mejor  $41^\circ$  de temperatura?

1.     **B**
2.     **F**
3.     **A**
4.     **C**
5.     **J**
6.     **D**
7.     **G**
8.     **H**
9.     **E**
10.     **I**

