



Resuelve cada problema.

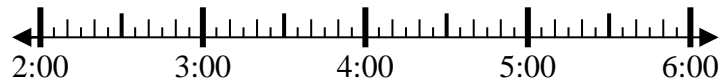
1) Inicio: 2:15
 Transcurrido: 1 hr y 40 mins
 Final: _____



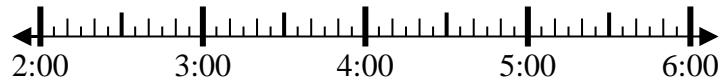
2) Inicio: 2:10
 Transcurrido: 2 hrs y 45 mins
 Final: _____



3) Inicio: 2:45
 Transcurrido: 2 hrs y 10 mins
 Final: _____



4) Inicio: 2:20
 Transcurrido: 1 hr y 20 mins
 Final: _____



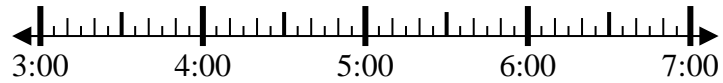
5) Inicio: 11:05
 Transcurrido: 2 hrs y 25 mins
 Final: _____



6) Inicio: 11:05
 Transcurrido: 2 hrs y 20 mins
 Final: _____



7) Inicio: 3:45
 Transcurrido: 2 hrs y 20 mins
 Final: _____



8) Inicio: 6:20
 Transcurrido: 1 hr y 30 mins
 Final: _____



Respuestas

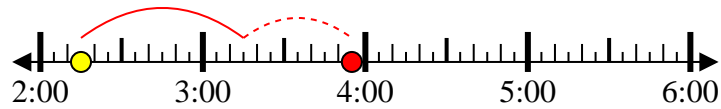
1. _____
2. _____
3. _____
4. _____
5. _____
6. _____
7. _____
8. _____



Resuelve cada problema.

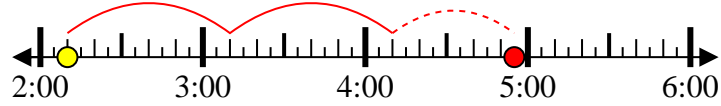
1) Inicio: 2:15

Transcurrido: 1 hr y 40 mins

Final: 3:55

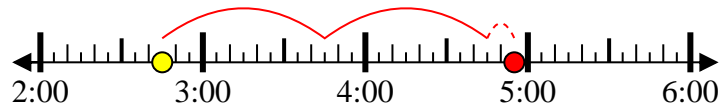
2) Inicio: 2:10

Transcurrido: 2 hrs y 45 mins

Final: 4:55

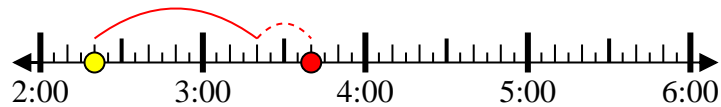
3) Inicio: 2:45

Transcurrido: 2 hrs y 10 mins

Final: 4:55

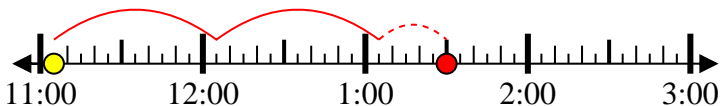
4) Inicio: 2:20

Transcurrido: 1 hr y 20 mins

Final: 3:40

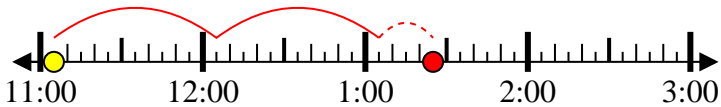
5) Inicio: 11:05

Transcurrido: 2 hrs y 25 mins

Final: 1:30

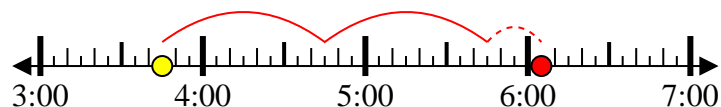
6) Inicio: 11:05

Transcurrido: 2 hrs y 20 mins

Final: 1:25

7) Inicio: 3:45

Transcurrido: 2 hrs y 20 mins

Final: 6:05

8) Inicio: 6:20

Transcurrido: 1 hr y 30 mins

Final: 7:50**Respuestas**1. 3:552. 4:553. 4:554. 3:405. 1:306. 1:257. 6:058. 7:50