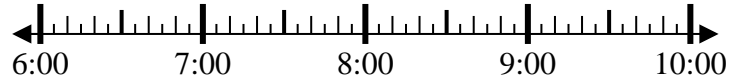


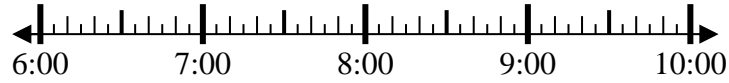


Resuelve cada problema.

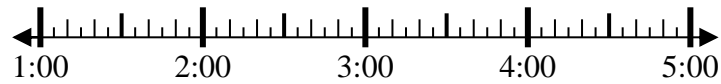
1) Inicio: 6:45
 Transcurrido: 1 hr y 10 mins
 Final: _____



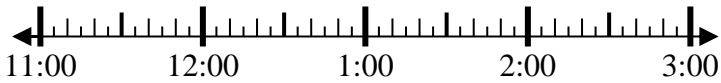
2) Inicio: 6:25
 Transcurrido: 2 hrs y 40 mins
 Final: _____



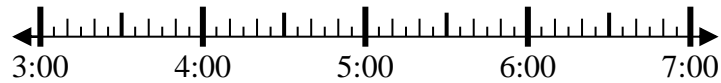
3) Inicio: 1:10
 Transcurrido: 1 hr y 50 mins
 Final: _____



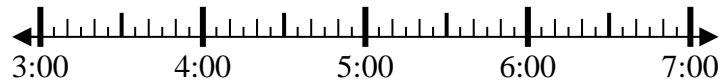
4) Inicio: 11:15
 Transcurrido: 1 hr y 45 mins
 Final: _____



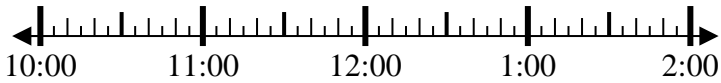
5) Inicio: 3:25
 Transcurrido: 2 hrs y 10 mins
 Final: _____



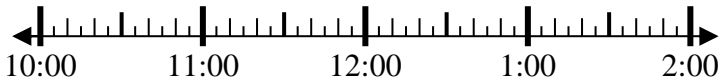
6) Inicio: 3:20
 Transcurrido: 2 hrs y 35 mins
 Final: _____



7) Inicio: 10:35
 Transcurrido: 1 hr y 50 mins
 Final: _____



8) Inicio: 10:00
 Transcurrido: 1 hr y 30 mins
 Final: _____



Respuestas

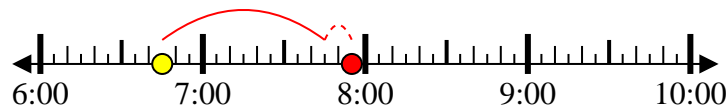
1. _____
2. _____
3. _____
4. _____
5. _____
6. _____
7. _____
8. _____



Resuelve cada problema.

1) Inicio: 6:45

Transcurrido: 1 hr y 10 mins

Final: 7:55

2) Inicio: 6:25

Transcurrido: 2 hrs y 40 mins

Final: 9:05

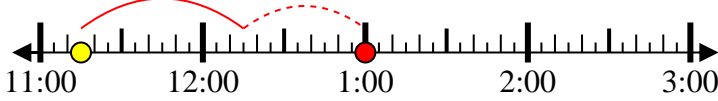
3) Inicio: 1:10

Transcurrido: 1 hr y 50 mins

Final: 3:00

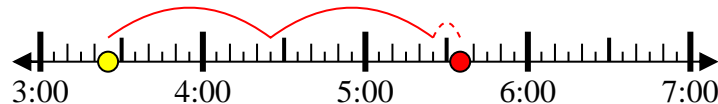
4) Inicio: 11:15

Transcurrido: 1 hr y 45 mins

Final: 1:00

5) Inicio: 3:25

Transcurrido: 2 hrs y 10 mins

Final: 5:35

6) Inicio: 3:20

Transcurrido: 2 hrs y 35 mins

Final: 5:55

7) Inicio: 10:35

Transcurrido: 1 hr y 50 mins

Final: 12:25

8) Inicio: 10:00

Transcurrido: 1 hr y 30 mins

Final: 11:30**Respuestas**1. 7:552. 9:053. 3:004. 1:005. 5:356. 5:557. 12:258. 11:30