

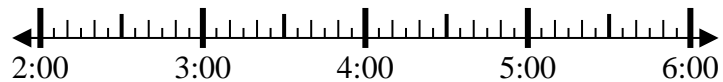


**Resuelve cada problema.**

1) Inicio: 2:00

Transcurrido: 1 hr y 45 mins

Final: \_\_\_\_\_



2) Inicio: 11:35

Transcurrido: 2 hrs y 45 mins

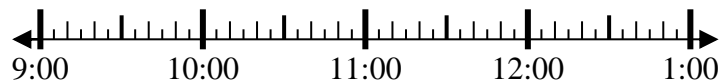
Final: \_\_\_\_\_



3) Inicio: 9:00

Transcurrido: 1 hr y 10 mins

Final: \_\_\_\_\_



4) Inicio: 11:45

Transcurrido: 1 hr y 20 mins

Final: \_\_\_\_\_



5) Inicio: 12:20

Transcurrido: 1 hr y 15 mins

Final: \_\_\_\_\_



6) Inicio: 5:25

Transcurrido: 1 hr y 10 mins

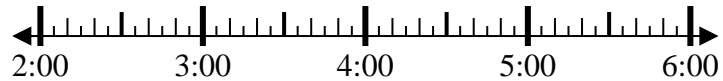
Final: \_\_\_\_\_



7) Inicio: 2:35

Transcurrido: 1 hr y 45 mins

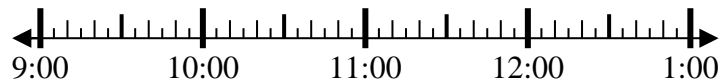
Final: \_\_\_\_\_



8) Inicio: 9:35

Transcurrido: 2 hrs y 45 mins

Final: \_\_\_\_\_



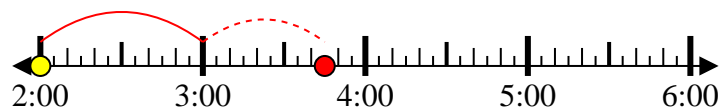
**Respuestas**

1. \_\_\_\_\_
2. \_\_\_\_\_
3. \_\_\_\_\_
4. \_\_\_\_\_
5. \_\_\_\_\_
6. \_\_\_\_\_
7. \_\_\_\_\_
8. \_\_\_\_\_



Resuelve cada problema.

- 1) Inicio: 2:00  
 Transcurrido: 1 hr y 45 mins  
 Final: 3:45



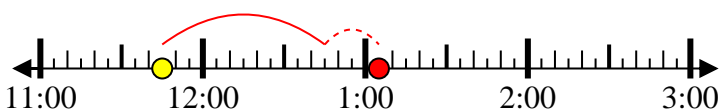
- 2) Inicio: 11:35  
 Transcurrido: 2 hrs y 45 mins  
 Final: 2:20



- 3) Inicio: 9:00  
 Transcurrido: 1 hr y 10 mins  
 Final: 10:10



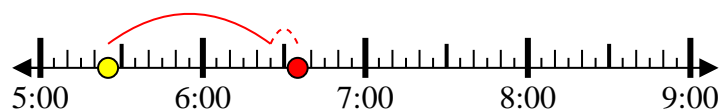
- 4) Inicio: 11:45  
 Transcurrido: 1 hr y 20 mins  
 Final: 1:05



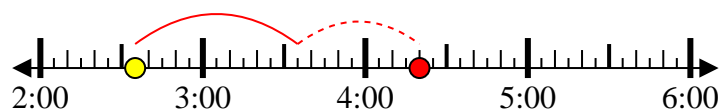
- 5) Inicio: 12:20  
 Transcurrido: 1 hr y 15 mins  
 Final: 1:35



- 6) Inicio: 5:25  
 Transcurrido: 1 hr y 10 mins  
 Final: 6:35



- 7) Inicio: 2:35  
 Transcurrido: 1 hr y 45 mins  
 Final: 4:20



- 8) Inicio: 9:35  
 Transcurrido: 2 hrs y 45 mins  
 Final: 12:20

**Respuestas**

1. 3:45  
 2. 2:20  
 3. 10:10  
 4. 1:05  
 5. 1:35  
 6. 6:35  
 7. 4:20  
 8. 12:20