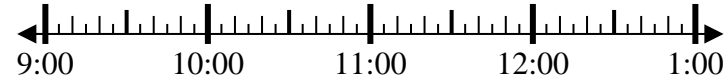


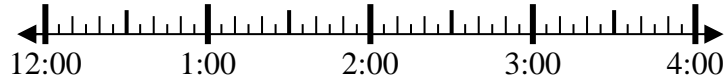


Resuelve cada problema.

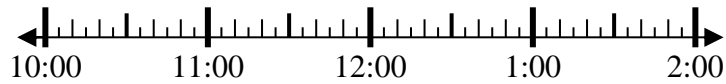
1) Inicio: 9:35
 Transcurrido: 2 hrs y 30 mins
 Final: _____



2) Inicio: 12:50
 Transcurrido: 1 hr y 45 mins
 Final: _____



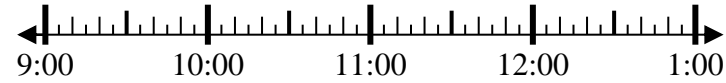
3) Inicio: 10:15
 Transcurrido: 1 hr y 25 mins
 Final: _____



4) Inicio: 6:25
 Transcurrido: 1 hr y 45 mins
 Final: _____



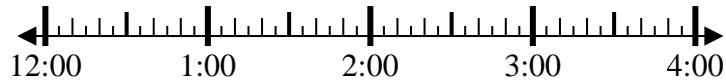
5) Inicio: 9:10
 Transcurrido: 1 hr y 15 mins
 Final: _____



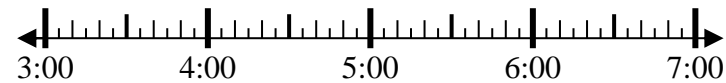
6) Inicio: 11:45
 Transcurrido: 2 hrs y 15 mins
 Final: _____



7) Inicio: 12:20
 Transcurrido: 1 hr y 40 mins
 Final: _____



8) Inicio: 3:35
 Transcurrido: 1 hr y 40 mins
 Final: _____



Respuestas

1. _____
2. _____
3. _____
4. _____
5. _____
6. _____
7. _____
8. _____



Resuelve cada problema.

- 1) Inicio: 9:35
Transcurrido: 2 hrs y 30 mins
Final: 12:05
-
- 2) Inicio: 12:50
Transcurrido: 1 hr y 45 mins
Final: 2:35
-
- 3) Inicio: 10:15
Transcurrido: 1 hr y 25 mins
Final: 11:40
-
- 4) Inicio: 6:25
Transcurrido: 1 hr y 45 mins
Final: 8:10
-
- 5) Inicio: 9:10
Transcurrido: 1 hr y 15 mins
Final: 10:25
-
- 6) Inicio: 11:45
Transcurrido: 2 hrs y 15 mins
Final: 2:00
-
- 7) Inicio: 12:20
Transcurrido: 1 hr y 40 mins
Final: 2:00
-
- 8) Inicio: 3:35
Transcurrido: 1 hr y 40 mins
Final: 5:15
-

Respuestas

1. 12:05
2. 2:35
3. 11:40
4. 8:10
5. 10:25
6. 2:00
7. 2:00
8. 5:15