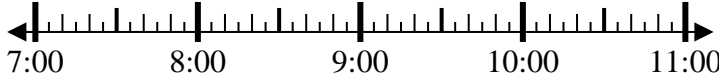





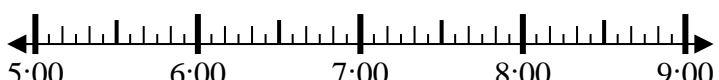





Resuelve cada problema.

- 1) Inicio: 7:05
 Transcurrido: 2 hrs y 20 mins
 Final: _____
- 
- 2) Inicio: 5:25
 Transcurrido: 2 hrs y 20 mins
 Final: _____
- 
- 3) Inicio: 4:15
 Transcurrido: 1 hr y 35 mins
 Final: _____
- 
- 4) Inicio: 12:05
 Transcurrido: 2 hrs y 40 mins
 Final: _____
- 
- 5) Inicio: 10:05
 Transcurrido: 1 hr y 45 mins
 Final: _____
- 
- 6) Inicio: 11:45
 Transcurrido: 2 hrs y 15 mins
 Final: _____
- 
- 7) Inicio: 5:25
 Transcurrido: 1 hr y 40 mins
 Final: _____
- 
- 8) Inicio: 1:25
 Transcurrido: 1 hr y 15 mins
 Final: _____
- 

Respuestas

1. _____
2. _____
3. _____
4. _____
5. _____
6. _____
7. _____
8. _____



Resuelve cada problema.

- 1) Inicio: 7:05
Transcurrido: 2 hrs y 20 mins
Final: 9:25
-
- 2) Inicio: 5:25
Transcurrido: 2 hrs y 20 mins
Final: 7:45
-
- 3) Inicio: 4:15
Transcurrido: 1 hr y 35 mins
Final: 5:50
-
- 4) Inicio: 12:05
Transcurrido: 2 hrs y 40 mins
Final: 2:45
-
- 5) Inicio: 10:05
Transcurrido: 1 hr y 45 mins
Final: 11:50
-
- 6) Inicio: 11:45
Transcurrido: 2 hrs y 15 mins
Final: 2:00
-
- 7) Inicio: 5:25
Transcurrido: 1 hr y 40 mins
Final: 7:05
-
- 8) Inicio: 1:25
Transcurrido: 1 hr y 15 mins
Final: 2:40
-

Respuestas

1. 9:25
2. 7:45
3. 5:50
4. 2:45
5. 11:50
6. 2:00
7. 7:05
8. 2:40